



Ministerio de
Educación Nacional
República de Colombia



Prosperidad para todos

Secundaria Activa

Matemáticas grado noveno

María Fernanda Campo Saavedra
Ministra de Educación Nacional

Mauricio Perfetti del Corral
Viceministro de Educación Preescolar, Básica y Media

Mónica López Castro
Directora de Calidad para la Educación Preescolar, Básica y Media

Heublyn Castro Valderrama
Subdirectora de Referentes y Evaluación para la Calidad Educativa
Coordinadora del proyecto

Clara Helena Agudelo Quintero
Gina Graciela Calderón Rodríguez
María del Sol Effio Jaimes
Omar Alejandro Hernández Salgado
Édgar Mauricio Martínez Camargo
Maritza Mosquera Escudero
Diego Fernando Pulecio Herrera
Equipo técnico

©2012 Ministerio de Educación Nacional.

Todos los derechos reservados.

Prohibido la reproducción total o parcial, el registro o la transmisión por cualquier medio de recuperación de información, sin permiso previo del Ministerio de Educación Nacional.

©Ministerio de Educación Nacional

ISBN serie Secundaria Activa: 978-958-691-485-7

ISBN libro: 978-958-691-501-4

Dirección de Calidad para la Educación Preescolar, Básica y Media.
Subdirección de Referentes y Evaluación para la
Calidad Educativa.
Ministerio de Educación Nacional, Bogotá,
Colombia, 2012.

www.mineduccion.gov.co

Equipo de la actualización y cualificación del Modelo Educativo Secundaria Activa elaborado por:

AGUIRRE ASESORES S.A.S.
AGUIRRE ASESORES S.A.S.

Eduardo Aguirre Dávila
Director de proyecto

Myriam Saavedra
Diana Medina Matijasevick
Autoras

Luz Marina Rincón Rojas
Coordinadora editorial

Ligia Flórez Bejarano
Coordinadora administrativa

Juan Carlos Álvarez Ayala
Corrector de estilo

 Julián Hernández
taller de diseño

Julián Ricardo Hernández Reyes - PAUTA EDITORIAL Y DIRECCIÓN DE DISEÑO

Walter Bolívar - PAUTA EDITORIAL

Arnold Hernández - PAUTA EDITORIAL

Daniela Rodríguez Santarelli - DIAGRAMACIÓN

Jhon Cortés - ILUSTRACIÓN

Edwin Sanabria - ILUSTRACIÓN

Rubén Romero - ILUSTRACIÓN

Diagramación, diseño e ilustración

Secundaria Activa es el resultado de la actualización y cualificación del modelo educativo Telesecundaria, en su versión colombiana (1999-2002), que a su vez fue adaptado de los módulos de Telesecundaria Mexicana por parte del Ministerio de Educación Nacional.

Esta actualización se hizo dentro del marco del contrato No. 428 de 2010, suscrito entre el Ministerio de Educación Nacional y Aguirre Asesores S.A.S., cuyos derechos fueron cedidos al Ministerio de Educación Nacional.

El Ministerio de Educación Nacional agradece a la Secretaría de Educación Pública de México (SEP) y al Instituto Latinoamericano para la Comunicación Educativa (ILCE) el apoyo técnico y la generosidad en la transmisión de los avances educativos y tecnológicos al Ministerio de Educación de Colombia, durante los años comprendidos entre 1999 y 2002.

Artículo 32 de la ley 23 de 1982

El siguiente material se reproduce con fines estrictamente académicos y es para uso exclusivo de los estudiantes del modelo Secundaria Activa, de acuerdo con el Artículo 32 de la ley 23 de 1982, cuyo texto es el siguiente: "Es permitido utilizar obras literarias o artísticas o parte de ellas, a título de ilustración, en otras destinadas a la enseñanza, por medio de publicaciones, emisiones o radiodifusiones, o grabaciones sonoras o visuales, dentro de los límites justificados por el fin propuesto, o comunicar con propósito de enseñanza la obra radiodifundida para fines escolares, educativos, universitarios y de formación personal sin fines de lucro, con la obligación de mencionar el nombre del autor y el título de las obras utilizadas".

Tabla de contenido	3
Presentación	5
Estructura Secundaria Activa	7
Unidad 1. Conjunto de los números reales	14
Captítulo 1. Construcción del conjunto de los números reales	16
Tema 1. Los números irracionales y su ubicación en la recta numérica	17
Tema 2. Los números reales y sus relaciones de orden entre números reales	24
Captítulo 2. Operaciones entre números reales	28
Tema 1. Operaciones entre números reales: adición, sustracción, multiplicación, división	29
Tema 2. Operaciones entre números reales: Potenciación, radicación y logaritmación	33
Captítulo 3. Expresiones algebraicas y ecuaciones e inecuaciones	42
Tema 1. Ecuaciones	43
Tema 2. Inecuaciones	54
Captítulo 4. Sucesiones y progresiones	58
Tema 1. Sucesiones	60
Tema 2. Progresiones	63
Unidad 2. Geometría	78

Captítulo 1. Razones geométricas y trigonométricas	80
Tema 1. Semejanza y congruencia, Teorema de Tales	81
Tema 2. Razones trigonométricas	89
Captítulo 2. Cuerpos geométricos	98
Tema 1. Características de los sólidos	99
Tema 2. Áreas y volúmenes de los sólidos	105
Unidad 3. Funciones: Lineal, cuadrática, exponencial y logarítmica, y sistemas lineales	118
Captítulo 1. Funciones lineal y cuadrática	120
Tema 1. Funciones y ecuaciones lineales	121
Tema 2. Funciones y ecuaciones Cuadráticas	137
Captítulo 2. Funciones exponencial y logarítmica	146
Tema 1. Función y ecuación exponenciales	147
Tema 2. Función y ecuación logarítmicas	154
Unidad 4. Estadística	168
Captítulo 1. Análisis e interpretación de datos	170
Tema 1. Registro y análisis de datos estadísticos	171
Tema 2. Medidas estadísticas	176
Captítulo 2. Combinatoria y probabilidad	184
Tema 1. Aplicación del factorial de un número	185
Tema 2. Probabilidad de la ocurrencia sucesiva de eventos	190
Respuestas	204
Bibliografía	214
Referencias fotográficas	216

La educación es un derecho establecido en la Constitución Política de Colombia. En cumplimiento de ese mandato, el Ministerio de Educación ha diseñado y cualificado diferentes modelos educativos flexibles como alternativas a la oferta educativa tradicional, para responder a las características y necesidades particulares de los grupos poblacionales.

Es así como el Ministerio de Educación Nacional presenta el modelo educativo Secundaria Activa dirigido a los estudiantes de básica secundaria de las zonas rurales y urbanas marginales. Una alternativa de alta calidad, encaminada a disminuir las brechas en cuanto a permanencia y calidad en este nivel educativo.

La propuesta pedagógica de Secundaria Activa privilegia el aprendizaje mediante el saber hacer y el aprender a aprender. En procura de este objetivo, los textos están orientados al desarrollo de procesos relacionados con los saberes conceptuales, procedimentales y actitudinales que, de manera significativa y constructiva, van configurando las habilidades de los estudiantes para alcanzar el nivel de competencia esperado en cada grado.

Por esa razón, estos módulos de aprendizaje están diseñados sobre una ruta didáctica y editorial pensada para que los estudiantes, a partir del análisis e interpretación de diversas situaciones problema, puedan aproximarse a su realidad y a su cotidianidad, y le encuentren significado a los contenidos planteados.

Secundaria Activa cuenta entre sus componentes con módulos para los grados 6, 7, 8 y 9 de la básica secundaria, en las áreas de Matemáticas, Lenguaje, Ciencias Naturales y Educación Ambiental, Ciencias Sociales, Educación Ética y Valores Humanos, Educación Artística, Educación Física, Recreación y Deporte y orientaciones para la formulación e implementación de proyectos pedagógicos productivos.

Dispone también de un manual de implementación que ofrece indicaciones generales y pedagógicas sobre el modelo y, de guías para los docentes por cada área y grado, en las que encuentran orientaciones disciplinares y didácticas que apoyan su trabajo en el aula.

Esta propuesta es una oportunidad educativa para que muchos jóvenes puedan continuar sus estudios de básica secundaria y ampliar sus posibilidades de vida digna, productiva y responsable, como ciudadanos colombianos.

El modelo surgió del proceso de cualificación y adaptación de los módulos de Telesecundaria de México (1999-2002) para lograr la versión colombiana. El Ministerio de Educación Nacional de Colombia reitera su agradecimiento a la Secretaría Pública de México (SEP) y al Instituto Latinoamericano para la Comunidad Educativa (ILCE) por el apoyo técnico y la generosidad en la transmisión de los avances educativos y tecnológicos durante esos años.



¿Cómo está compuesto el modelo Secundaria Activa?

El modelo Secundaria Activa contiene materiales educativos para siete áreas del conocimiento: Matemáticas, Ciencias Sociales, Lenguaje, Ciencias Naturales, Ética, Educación Física y Educación Artística. Además, presenta orientaciones para el desarrollo de Proyectos Pedagógicos Productivos en los establecimientos educativos en los que se implementa el modelo. Estas orientaciones están dirigidas a docentes y a estudiantes por conjuntos de grados.

Estos materiales están conformados por módulos para los estudiantes y guías didácticas para los docentes de cada grado.



¿Cómo son los módulos de los estudiantes?

Los módulos de aprendizaje son los documentos básicos de trabajo para el estudiante. En ellos se consignan los estándares básicos de competencias propias de cada área, así como los diferentes momentos para desarrollar y aplicar los conceptos y temas propuestos. Cada módulo está compuesto por:



1 Unidad

Es la sección mayor que reúne los capítulos y los temas. Son cuatro unidades por cada módulo para las áreas básicas (Lenguaje, Matemáticas, Ciencias Sociales, Ciencias Naturales, Ética y Valores y Educación Física).

2 Título

Es la presentación de la unidad de manera motivadora. Este título alude a la situación general que se trabajará en la unidad y guarda relación con las competencias propuestas por el MEN.

3 Resolvamos

Presenta una situación problemática de la vida cotidiana, la cual requiere el ejercicio de diferentes acciones de pensamiento como argumentar, discutir, explicar, debatir, indagar o proponer. Esta situación contextualiza al estudiante con los desarrollos básicos de la unidad y procura desequilibrios conceptuales que motiven al estudiante a encontrar soluciones. La situación planteada se acompaña de preguntas hipotéticas.

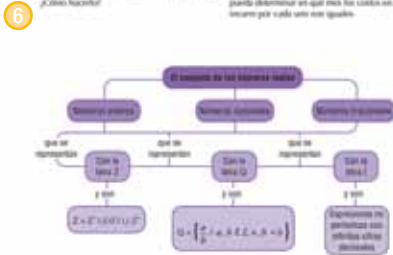
4 Referentes de calidad y capítulos

De manera enunciativa, exponen los estándares básicos de competencia y actividades que se desarrollarán en los capítulos.

5 Construcción del conjunto de los números reales

En la vida cotidiana, casi todos los problemas han solución, un cambio, como una transacción comercial importante en su vida.
 Después de trabajar y esperar el resultado de los negocios establecidos, bien sea, por lo general se puede elegir un plan de cambio que le permita en gran parte el cumplimiento monetario adecuado.
 ¿Cómo hacerlo?

El mundo de escoger un plan de vida, un hecho al que no le hace un caso por la cantidad, al que así se llama, que es el que regula el comportamiento que se debe tener. Los cambios de los cambios que nos afectan, mediante acciones que afectan al curso de cada uno, de tal manera que se pueda determinar en qué momento los cambios en que se basan por cada uno son iguales.




7 Tema 1. Los números irracionales y su ubicación en la recta numérica



Ya sabes que todo número que pueda escribirse como fracción se llama número racional.
 Tal es el caso de cualquier número positivo o negativo. Algunos números decimales también tienen una fracción equivalente, como por ejemplo $1.2 = \frac{6}{5}$ comprobado realizando la división 1 entre 2.

Pero, hay otros números que no tienen una fracción equivalente, como es el caso de $\sqrt{2}$ cuya construcción con regla y compás, sobre la recta numérica, puedes hacerlo en los cuadros siguientes los pasos que se explican a continuación.

- Toma un cuadrado de lado 1 sobre la recta numérica.
- Trázale la diagonal al cuadrado, partiendo de cero.
- Con el compás, cláudalo en O y aléjalo desde termina la diagonal, traza un arco que corte a la recta.

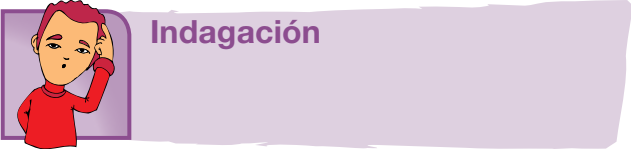


5 Capítulo
 Corresponde a cada una de las divisiones de la unidad y se refieren a los lineamientos o ejes articulares de cada área.

6 Organizador gráfico
 Muestra de manera sucinta y gráfica los principales elementos que se tratan en el capítulo y se convierte en un indicativo del derrotero y la interrelación de los elementos tratados.

7 Tema
 Son las partes en que se dividen los capítulos. Cada tema se compone de los siguientes momentos:

- Indagación
- Conceptualización
- Aplicación



El propósito de este primer momento es acercar a los estudiantes a la temática mediante actividades previas como la presentación de situaciones, textos, material gráfico y actividades, que por su atractivo motivan a los jóvenes y con ello establece un primer acercamiento a los contenidos que se abordan. Igualmente, pretende indagar por los saberes previos que traen los estudiantes, a través de situaciones variadas.



Conceptualización

En este segundo momento confluyen diversas experiencias de aprendizaje que buscan la comprensión de los contenidos a través de lecturas y diversas actividades cognitivas. Los contenidos se elaboran de acuerdo con el desarrollo cognitivo de los estudiantes de cada grado, lo que implica una adecuada selección de los mismos y su profundidad, presentación y lenguaje adecuado. A la par de los contenidos, existen herramientas cognitivas que acompañan los contenidos conceptuales para favorecer su comprensión; por esto se presentan con subtítulos como ubicar, identificar, analizar, comparar, explicar, clasificar, inferir, transferir, aplicar, predecir, comunicar, entre otros.



Aplicación

Este tercer momento tiene por objeto trabajar las habilidades propias que desarrolla el área. Por ello, las actividades que se realizan enfrentan al estudiante a una situación real o de contexto para que logren un aprendizaje significativo.

Secciones flotantes

Dentro de los temas también se encuentran unas secciones flotantes que tienen el propósito de dinamizar los contenidos, presentando información que amplía o se relaciona con el concepto trabajado. Todas las áreas comparten la sección *Entendemos por*, en la que se presentan las definiciones de los conceptos clave. Las otras secciones están definidas en particular para cada una de las áreas (ver información íconos).

Aplico mis conocimientos

Esta sección se presenta a lo largo del momento de la conceptualización. Es un espacio que consta de actividades de aprendizaje que acompañan los contenidos conceptuales para favorecer su comprensión.

Entendemos por...

En este ladillo se incluyen las definiciones de los conceptos clave. El propósito de esta sección es enriquecer el léxico del estudiante.

Día a día

Aquí se trata de un texto en el que se relaciona la temática que se va desarrollando con aspectos de la vida diaria, con los que se relaciona el estudiante en su diario vivir, de tal manera que se evidencia como el conocimiento de la escuela tiene relación con la cotidianidad y por lo tanto es significativo.

Diversión matemática

Es airear el tema con algún acertijo o juego relacionado con el tema.

Cierre de capítulo

Al finalizar, cada capítulo ofrece:




8 Este capítulo fue clave porque

Presenta al estudiante una síntesis de los temas desarrollados durante el capítulo, para lo cual destaca su importancia y aplicabilidad.

9 Conectémonos con

Propone información que evidencia la relación de los contenidos básicos tratados con los de otras áreas de estudio y con las habilidades que estos puedan desarrollar.



13 ¿En qué vamos?

Corresponde a los procesos de valoración del aprendizaje y evalúa si los aprendizajes de los estudiantes son significativos. También se busca que el estudiante sea responsable y controle su proceso de aprendizaje, es decir, su habilidad de autorregulación.

Esta sección está conformada por tres ejes:

a) Coevaluación. Se presenta en la sección de *Reflexiono y trabajo con mis compañeros*, en la cual se mide la comprensión de los conceptos, competencias y procedimientos esenciales a manera de aprendizaje colaborativo. El objetivo de esta sección es que el estudiante se vea frente a sus pares y los reconozca como interlocutores válidos. A este respecto, el estudiante podrá comparar sus respuestas con las de sus compañeros.

b) Heteroevaluación. En el apartado titulado *Le cuento a mi profesora*, se establece un diálogo entre el docente y el estudiante para medir los alcances y logros especialmente de carácter procedimental (saber hacer) de las competencias, por medio de matrices que estipulan los criterios de calidad básicos de la unidad. Las matrices se ajustan desde los enunciados o metas de desarrollo y los criterios propios del Decreto 1290 de 2009.

c) Autoevaluación. Corresponde a la sección *Participo y aprendo*, franja que cierra el proceso de valoración con una matriz en donde el estudiante se evalúa. Igualmente, esta sección permitirá establecer los procesos de mejoramiento para las unidades subsiguientes.

Conjunto de los números reales

Resolvamos


La invención de los números ha estado asociada a la resolución de los problemas con los que se han enfrentado los humanos. Cuando hubo necesidad de contar y enumerar, se crearon los números naturales. Con ellos se pueden realizar operaciones como sumar y multiplicar con la seguridad de que el resultado de estas operaciones siempre es un natural.

Pero al efectuar sustracciones puede suceder que no haya un número natural que exprese su resultado. Para satisfacer esta necesidad se construyeron los números enteros. Este es el significado que tienen las deudas y los saldos rojos en los extractos bancarios. Sin embargo, los enteros no son suficientes para resolver, por ejemplo, problemas de medición, así surgen los fraccionarios, con los

cuales se puede expresar la medida de una llave de $\frac{3}{4}$ de pulgada, y muchos otros datos de la ciencia y la tecnología. El sistema numérico se ha ido enriqueciendo con nuevos números.

Ya se tienen los naturales, los enteros y los fraccionarios. Este es, entonces, el sistema numérico que denominaremos números racionales.

Pero la historia no termina aquí, como ya viste, nuevos problemas llevan a la construcción de otros números, como en el caso de expresar la longitud de la diagonal de un cuadrado de lado 1 unidad: $\sqrt{2}$ unidades. O también la relación que existe entre la longitud de una circunferencia y su diámetro, denominada π . Así aparecen los llamados números irracionales.



Referentes de calidad	Capítulos
Utilizo números reales en sus diferentes representaciones en diversos contextos.	1. Construcción del conjunto de los números reales
Resuelvo problemas y simplifico cálculos usando propiedades y relaciones de los números reales y de las relaciones y operaciones entre ellos.	2. Operaciones entre números reales, con sus propiedades
Utilizo la notación científica para representar cantidades y medidas.	3. Expresiones algebraicas y Ecuaciones e Inecuaciones
Identifico la potenciación, la radicación y la logaritmación para representar situaciones matemáticas y no matemáticas y para resolver problemas.	4. Sucesiones y Progresiones



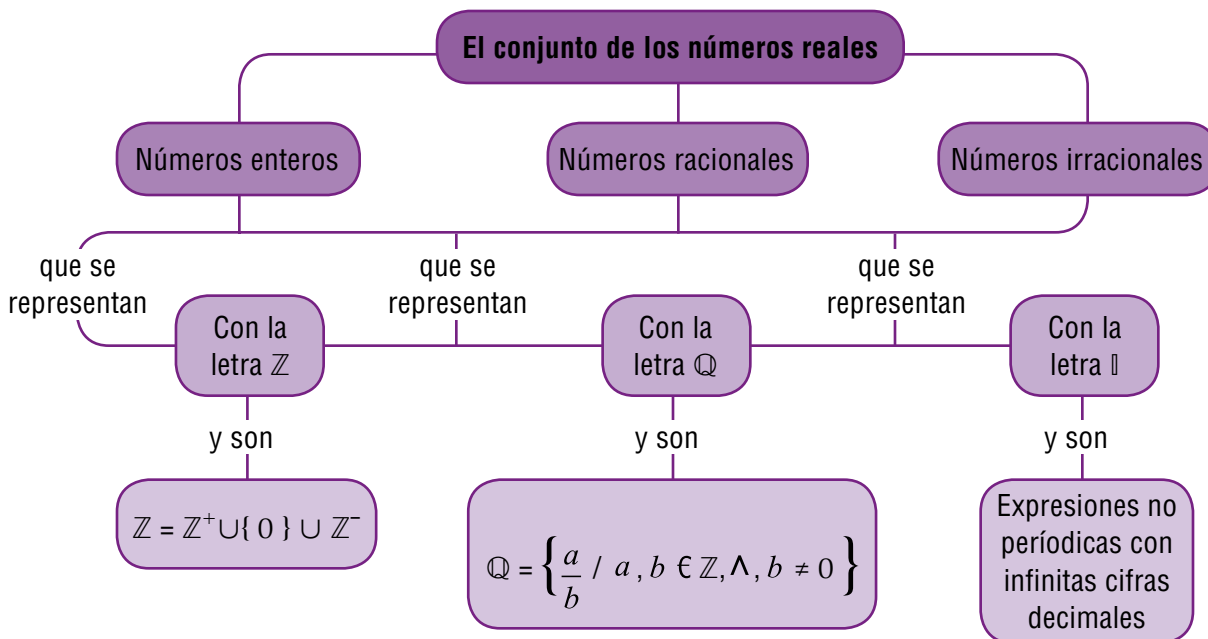
Construcción del conjunto de los números reales

En la vida cotidiana, casi todas las personas han solicitado un crédito, como una transacción comercial importante en su vida.

Después de solicitar y negociar el crédito en diferentes establecimientos bancarios, por lo general es preciso elegir un plan de crédito que favorezca en gran parte el compromiso monetario adquirido. ¿Cómo hacerlo?

Cuando de escoger un plan se trata, ¿se busca el que no incluye un costo por la solicitud, el que exige menos requisitos, el que ofrece la tasa de interés más baja, o el que regala electrodomésticos gratis?

Se deben comparar los costos de los créditos que nos ofrecen, mediante ecuaciones que describan el costo de cada uno, de tal manera que se pueda determinar en qué mes los costos en que se incurre por cada uno son iguales.



Tema 1. Los números irracionales y su ubicación en la recta numérica



Indagación

Ya sabes que todo número que pueda escribirse como fraccionario se llama número racional.

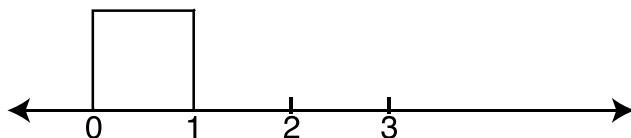
Tal es el caso de cualquier entero positivo o negativo

Algunos números decimales también tienen una fracción equivalente, como

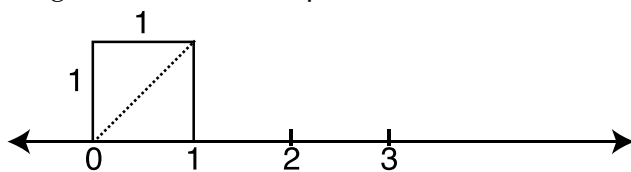
por ejemplo: $1.5 = \frac{3}{2}$ compruébalo realizando la división 3 entre 2.

Pero, hay otros números que no tienen una fracción equivalente, como es el caso de $\sqrt{2}$ cuya construcción con regla y compás, sobre la recta numérica, puedes hacerla en tu cuaderno siguiendo los pasos que se explican a continuación.

1. Traza un cuadrado de lado 1 sobre la recta numérica.

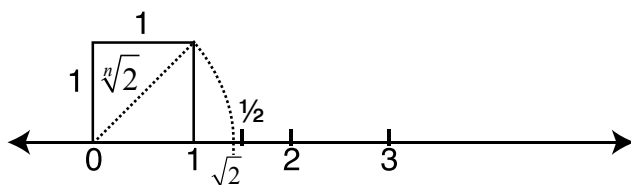


2. Trázale la diagonal al cuadrado, partiendo de cero.



¿Recuerdas el teorema de Pitágoras? Aplicándolo obtenemos el valor de la diagonal del cuadrado.

3. Con el compás, clavado en 0 y abertura donde termina la diagonal, traza un arco que corte a la recta.



Observa que el arco corta a la recta un poco antes que $1\frac{1}{2}$. es decir, poco antes que 1,5. Si calculamos por Pitágoras o buscamos la $\sqrt{2}$ en una calculadora, encontraremos que $\sqrt{2} = 1.4142\dots$

El pasar la medida de la diagonal, con el compás, sobre la recta numérica, nos permite ubicar con precisión la $\sqrt{2}$.

Según la construcción anterior, completa los enunciados siguientes y compara tus respuestas con algunos compañeros:

1. Una diagonal de un cuadrado, lo divide en dos _____ rectángulos e isósceles.
2. Para calcular la medida de la hipotenusa apliqué el _____ de _____
3. La hipotenusa de un triángulo rectángulo isósceles de catetos 1 unidad, mide _____ unidades.

Otros números irracionales son:

$$\pi = 3,1415926535\dots,$$

$$e = 2.71828182845904523536. \dots,$$

las raíces cuadradas de los números primos:

$$\sqrt{2}, \sqrt{3}, \sqrt{5}, \sqrt{7}, \sqrt{11}, \sqrt{13}, \sqrt{17}, \sqrt{19}, \dots$$

¿Recuerdas los números primos que hay entre 1 y 100? Puedes consultar el libro de sexto



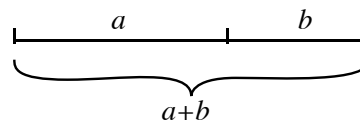
Conceptualización

El sistema numérico se ha ido enriqueciendo con nuevos números. Ya se tienen los *naturales* \mathbb{N} , los *enteros* \mathbb{Z} y los *racionales* \mathbb{Q} . Pero la historia no termina aquí, como ya viste, nuevos problemas llevan a la construcción de otros números, como en el caso de expresar la longitud de la diagonal de un cuadrado de lado 1 unidad, cuya longitud es $\sqrt{2}$ unidades. O también la relación que existe entre la longitud de una circunferencia y su diámetro cuyo valor es π . Así aparecen los llamados *números irracionales*.

El Número de Oro o La Divina Proporción ϕ o Proporción áurea

Fue el primer número irracional encontrado por los pitagóricos.

Dos cantidades están en la proporción de oro si el cociente de la suma de las cantidades a la mayor cantidad es igual a la proporción de la cantidad más grande a la más pequeña.



$$a + b \text{ es a } a \text{ como } a \text{ es a } b$$

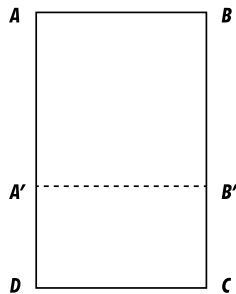
$$\text{Esto es: } \frac{a+b}{a} = \frac{a}{b} = \phi$$

aproximadamente 1.61803398...

$$\phi = 1.61803398 = \frac{1+\sqrt{5}}{2}$$

ϕ es un número irracional, una constante matemática.

Pueden construirse unos rectángulos que cumplan esta misma relación así:



Sea el rectángulo ABCD. Si sobre él se traza el cuadrado ABB'A' queda el rectángulo A'B'CD.

Las longitudes de los lados de este rectángulo y las del rectángulo inicial ABCD determinan la siguiente proporción:

$$\frac{AB}{AD} = \frac{A'D}{DC}$$

Los rectángulos que cumplen esta condición de proporcionalidad son llamados rectángulos áureos.

¿Cómo construir uno de ellos? Supongamos que la longitud del segmento AB = 1 unidad.

¿Cómo encontrar cuánto mide el segmento AD?

Si reemplazamos en la proporción la longitud de los segmentos AB y AD así:

AB = 1 y AD = x entonces A'D = x - 1 se tiene la ecuación:

$$\begin{aligned} \frac{1}{x} &= \frac{x-1}{1} \\ 1 &= x(x-1) \\ 0 &= x^2 - x - 1 \end{aligned}$$

Cuya solución se estudiará más adelante. Por ahora te contamos que el valor hallado para x es:

$$\frac{1+\sqrt{5}}{2} \text{ unidades}$$

Utiliza la calculadora para hallar un valor aproximado de x .
 Escoge para AB la longitud de 1 dm y construye el rectángulo correspondiente.

El número irracional $\frac{1+\sqrt{5}}{2}$ es llamado número de oro o áureo y se designa por la letra griega ϕ (fi).

Rectángulos áureos han sido utilizados en el arte, tal es el caso del rectángulo idealizado en el cual se inscribiría la fachada del Partenón de Atenas



El número e

Este número aparece en la expresión matemática de la curva llamada **catenaria**, que describe una cadena o cualquier cable o hilo flexible que pende sujeto por sus extremos.



También aparece en ciertos procesos de crecimiento de una población animal o vegetal, como es el caso del crecimiento del molusco *Nautilus*. Igualmente se encuentra asociado a las expresiones de capitalización compuesta y son la base de los llamados logaritmos naturales.



Aplicación

1. Construye sobre la recta numérica, $\sqrt{5}$ a partir de un rectángulo de base 2 unidades y altura 1. Sigue los pasos de la construcción de $\sqrt{2}$ de la indagación.

2. Tomando un rectángulo de base 5 unidades y altura 1 unidad, ubica en la recta numérica $\sqrt{26}$.

3. Ubica en la recta numérica $\sqrt{17}$.

4. De los siguientes números, ¿cuáles son irracionales?

$$\sqrt{1}, \sqrt{3}, \sqrt{9}, \sqrt{12}, 5\sqrt{5}, 2\sqrt{36}, 2\pi, e, \phi, 3\phi$$

5. Construye una recta numérica y localizar en ella tres números irracionales entre -1 y 1.

6. Marcar con una X la situación para la cual el valor resulta ser un número irracional:

- a) El lado de un cuadrado, cuya área es 25 cm².
- b) El valor de la diagonal de un cuadrado cuyo lado mide 1 cm.
- c) La longitud de una circunferencia.
- d) El área de un círculo.

7. Indicar cuáles de los siguientes números son irracionales:

a) $\sqrt{25}, \sqrt{24}, \frac{-3}{2}\sqrt{2}, 0.616263\dots$

8. Ordenar cada grupo de números de mayor a menor:

$$\frac{3}{4}, -2, \sqrt{3}, -\frac{\pi}{4}, -\frac{3}{5}\sqrt{2}$$

9. Juan y José discuten sobre los números que se encuentran en el siguiente conjunto:

$$\sqrt{17}, \sqrt{-5}, \sqrt{9}, \pi$$

Juan dice que todos los números del conjunto son irracionales. José dice que Juan está equivocado, pues entre esos números hay números enteros. ¿Quién tiene la razón, y por qué?

10. Escribe 10 números que se te ocurran, de diferentes conjuntos y pídele a un compañero que haga lo mismo. Después, tú clasifica los números de él, y él los tuyos.

Entendemos por...

Número periódico a aquel número racional cuya característica es la repetición indefinida de una o varias cifras decimales. Por ejemplo:

$$\frac{1}{3} = 0.333... \quad ; \quad \frac{1}{7} = 0.142857142857142857...$$

Infinito aquello que no tiene fin. Por ejemplo, el conjunto de los números naturales es infinito. Igual ocurre con los números enteros, racionales y reales.

Diversión matemática

Rompecabezas cuadrado

Hace mucho tiempo, había un granjero cuya finca tenía forma cuadrada.

Cada lado del cuadrado medía exactamente cien pasos de largo.

Un día llamó a la casa del granjero un hombre cansado, cubierto de polvo, pidiendo algo de comer.

El granjero, que era muy bondadoso, le ofreció un almuerzo.

Una vez que hubo terminado de comer, el forastero dijo estas palabras: "Granjero, yo soy tu rey."

Como recompensa por tu bondad al ofrecerme comida, creyendo que yo no era sino un humilde extranjero, te concedo que doubles la extensión de tu finca.


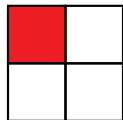
Pero cuando hayas añadido el nuevo terreno, tu granja deberá seguir teniendo la forma de un cuadrado".

El granjero se puso contentísimo, pues ahora podría sembrar el doble de superficie. Sin pensarlo dos veces, salió a medir su nuevo terreno para poder después cercarlo. Pero en seguida se dio cuenta de que había un problema.

En un principio parecía fácil doblar su terreno cuadrado. Parecía que, dado que cada lado del cuadrado medía cien pasos de largo, cada lado del nuevo cuadrado habría de medir doscientos pasos de largo, es decir, dos veces la longitud de los anteriores lados. Pero no resultó. ¿Por qué no es esta la solución? ¿Qué ocurre con el área de un cuadrado cuando se duplica el lado?

Busca una solución para el problema del granjero, compártela con tus compañeros y saquen una conclusión.

¿Será que duplicando el lado se duplica el área?



Día a día

El estilo de vida sano y natural está en auge, especialmente en cuanto a alimentación se refiere.

Escándalos como el de las vacas locas y los pollos con dioxinas han hecho que cunda el pánico entre la gente, que prefiere volver a una alimentación sana antes que correr riesgos para su salud.

En un futuro, quizá todo el mundo se concientice de las numerosas ventajas que conlleva la filosofía orgánica", es decir, la recuperación y mantenimiento de agroecosistemas cuya productividad esté basada en el aprovechamiento correcto de los ciclos naturales de los alimentos.

La granja integral ecológica es un lugar que genera productos que normalmente se dan en el campo; se divide en secciones como horticultura, aleopatías, Lombricultura, cunicultura, helicicultura, piscicultura, apicultura, porcicultura, gallineros, agricultura urbana y otras. La granja integral promueve el conocimiento del sector agroindustrial, y es una gran alternativa para pequeños productores, pues su labor contribuye a dinamizar el comercio.

Ganadería: Se prohíbe la aplicación rutinaria de medicamentos. Si se han de aplicar, se debe garantizar la ausencia de residuos de estas sustancias antes de comercializarse. Para la inducción al celo quedan prohibidas las hormonas, transferir embriones o usar la ingeniería genética. Su alimentación debe ser de origen biológico

(mínimo 80%), sin medicamentos, estimuladores de apetito, promotores de crecimiento, etc.

Los suelos se erosionan mucho menos si se evita la utilización de fertilizantes químicos. Se pone en marcha la asociación de cultivos. Por ejemplo, al cultivar lechugas junto a ristras de ajos, se consigue que éstos ahuyenten a los bichos que atacan las lechugas. Los alimentos se cultivan respetando su ciclo biológico; de esta forma conservarán durante más tiempo su sabor y su frescura.

La ausencia de fertilizantes y pesticidas hacen que aumente la calidad del agua. La agricultura biológica no utiliza métodos intensivos, por lo que, aunque se tarda más tiempo, se respeta el crecimiento natural de los alimentos. La salud de los granjeros mejora, al no estar expuestos a herbicidas ni pesticidas. Al basarse en trabajo manual, se ahorran grandes cantidades de energía contaminante y se crean puestos de trabajo. Los alimentos biológicos no han de pasar muchos controles de calidad, por lo que serán más baratos.

Todo lo anterior va acompañado de una serie de conteos y operaciones aritméticas que el granjero o granjera deben tener en cuenta para saber su inversión, producción y ganancia o pérdida,

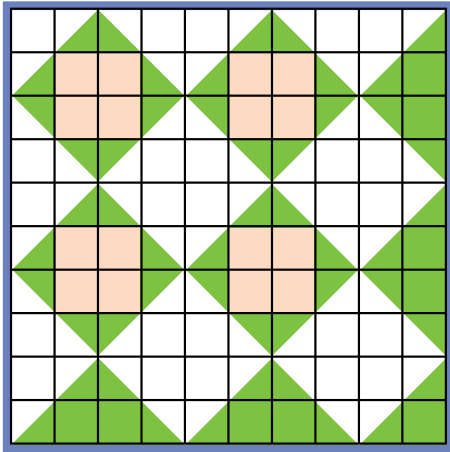
Texto tomado de: <http://aula2.elmundo.es/aula/laminas/granja.pdf>



Tema 2. Los números reales y sus relaciones de orden entre números reales



Indagación Calculemos áreas



El cuadrado grande de la figura de la izquierda está dividida en 100 unidades cuadradas (cuadrados pequeños).

Calcula cuántas unidades cuadradas mide:

- La parte rosada.
- La parte verde
- La parte blanca
- El cuadrado grande menos la parte blanca.
- El cuadrado grande menos la parte rosada.

Compara tus resultados con los de algunos compañeros, sustenta y discute las respuestas.



Conceptualización

Para poder hablar de la conformación del conjunto de números reales, vamos a hacer un repaso de los conjuntos numéricos trabajados hasta ahora.

Números Naturales

El conjunto de los números naturales es el que usamos cuando vamos a enumerar o a contar objetos (dinero, frutas, almacenes). Se representa por la letra \mathbb{N} y se simboliza así: $\mathbb{N} = \{ 0, 1, 2, 3, 4, 5, \dots \}$

Propiedades de los números Naturales

- Los números naturales es un conjunto infinito.
- Todo número natural tiene único sucesor y único antecesor, excepto el cero que sólo tiene sucesor.
- Entre dos números naturales siempre existe un número finito de números naturales.
- A cada número natural corresponde uno y sólo un punto sobre la recta numérica.

Números Enteros

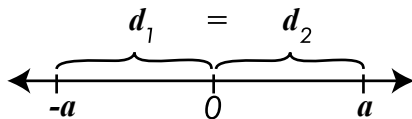
El conjunto de los números enteros está formado por tres subconjuntos:

- Los números naturales sin el cero, los cuales reciben el nombre de enteros positivos
- Los opuestos de los enteros positivos reciben el nombre de enteros negativos.
- El conjunto cuyo único elemento es el cero . Se representa por la letra \mathbb{Z} y se simboliza así:

$$\mathbb{Z} = \mathbb{Z}^+ \cup \mathbb{Z}^- \cup \{0\}$$

Propiedades de los números Enteros

- Los números Enteros es un conjunto infinito y ordenado
- Todo número entero tiene único sucesor y único antecesor .
- Entre dos números enteros siempre existe un número finito de números enteros.
- Si a es un número entero positivo, el número $-a$ se denomina opuesto de a , pues se encuentra a la misma distancia del cero que a , pero al lado opuesto. Su representación gráfica es:

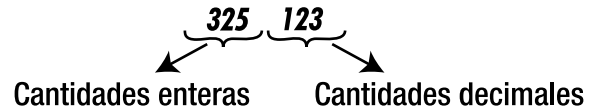


Números Decimales

Las operaciones que no son cerradas en \mathbb{Z} (división, potenciación y radicación), generan resultados en los cuales las cantidades enteras van acompañadas por cifras que denominamos decimales, y se diferencia de las cifras enteras por medio de un punto.

Ejemplo:

En el número **325.123**, podemos diferenciar las cantidades enteras y las decimales:



Es necesario enfatizar que todo número entero se puede expresar como decimal, pero no todo decimal se puede expresar como número entero.

Así como todo número entero se puede expresar como número racional, pero no todo racional se puede expresar como número entero.

Números Racionales e Irracionales

Dentro del conjunto de los números decimales encontramos algunos que pueden expresarse como el cociente de dos números enteros. Estos reciben el nombre de **números racionales** (\mathbb{Q}).

Los números que no tienen estructura racional se denominan **números irracionales** (\mathbb{I}).

En los cursos anteriores hemos estudiado los números racionales y ahora hemos construido algunos números irracionales.

Recordemos que los racionales se definen así:

$$\mathbb{Q} = \left\{ \frac{a}{b} \mid a \in \mathbb{Z}, b \in \mathbb{Z}, \wedge, \bar{b} \neq 0 \right\}$$

Y los irracionales son el conjunto de los números que no pueden escribirse como racionales y se simbolizan por (\mathbb{I}). Ejemplos de números irracionales:

$$\mathbb{I} = \{\pi, e, \phi, \sqrt{2}, \sqrt{3}, \sqrt{5}, \sqrt{7}, \sqrt{11}, \sqrt{13}, \dots \text{raíz cuadrada de los números primos, } \dots\}$$

El conjunto formado por los números racionales \mathbb{Q} y los números irracionales \mathbb{I} se llama: Conjunto de números reales \mathbb{R} .

Tanto los números racionales como los irracionales son números reales.

$$\mathbb{N} \subseteq \mathbb{Z} \subseteq \mathbb{Q} \subseteq \mathbb{R}, \mathbb{I} \subseteq \mathbb{R}; \mathbb{Q} \cap \mathbb{I} = \emptyset; \cup \mathbb{Q} \cup \mathbb{I} = \mathbb{R}$$



Aplicación

1. Completa la siguiente tabla escribiendo en las casillas \in y \notin .

	N	Z	Q	I	R
5.6					
$\sqrt{11}$					
22					
4.3232323232					
$-81\frac{1}{3}$					
-40					
9.999					
$\sqrt{-1}$					
0					
$-\frac{26}{18}$					
$9 + P$					
$3\sqrt{-10}$					
$\sqrt{25}$					

2. Un hombre dejó al morir X reses para repartir entre sus tres hijos. Escribe la expresión algebraica que representa la situación de la herencia. ¿Qué problema resulta al hacer la repartición de la herencia, si el número de reses es igual a 17?



3. Dibuja una recta numérica y señala el opuesto de cada uno de los siguientes números:

- a) -5 b) -3 c) 0 d) 1 e) 4 f) 2

4. Completa cada enunciado con $<$, $>$, $=$

- a) -5 _____ -2
 b) 4 _____ 3
 c) 0 _____ 1
 d) -7 _____ 7

5. Indica \in o \notin en cada una de las siguientes raíces:

- a) $\sqrt{-81}$ _____ \mathbb{Z} c) $\sqrt{16}$ _____ \mathbb{Z}
 b) $\sqrt[5]{-32}$ _____ \mathbb{Z} d) $\sqrt[3]{7}$ _____ \mathbb{Z}

6. Simplifica y representa en la recta numérica:

$$\frac{14}{7}, \frac{4}{8}, \frac{15}{25}, \frac{21}{30}$$

7. Escribe 5 valores equivalentes a $-\frac{8}{5}$

8. Calcula el valor de $\frac{\pi}{5}$

9. Representa en la recta real:

- 0.25 2.0 3.5 0.8 4.75

10. Calcula el valor de $3e$.

Entendemos por...

Número racional número que se puede expresar como el cociente de dos números enteros.

Número irracional aquel que no se puede escribir como la razón entre dos números enteros.

Diversión matemática

Diviértete con tus amigos jugando con números.

Plurisumador

Encierra con óvalos horizontales y verticales parejas de números cuya suma sea 10.

3	1	8	7	4	7	2	9	8	1	4	9	7	3	2	1	8	6	8	1	7
6	9	3	4	5	2	8	2	4	8	1	3	4	9	7	9	5	7	4	3	4
8	5	2	8	3	8	6	7	6	5	5	7	8	1	4	8	2	4	5	9	8
2	1	6	9	2	1	9	4	5	9	8	6	2	5	9	3	9	3	1	2	6

Día a día

La salud nutricional en los seres humanos es un factor importante para el buen desempeño laboral, estudiantil y deportivo. La buena salud se logra manteniendo un equilibrio entre la alimentación y el uso de los nutrientes.

Todos los seres humanos necesitamos energía para vivir.

Esta energía es proporcionada por los alimentos que comemos y se obtiene de la oxidación de los nutrientes calóricos: hidratos de carbono, lípidos y proteínas.

Todos los alimentos son fuentes de energía pero su contribución varía según su contenido de nutrientes calóricos. Una dieta balanceada que aporte los nutrientes que necesitamos debe contener: Hidratos de carbono: 60%; Grasa: 30%; Proteínas: 10%.



Operaciones entre números reales

Desde la época de los babilonios, las operaciones aritméticas fundamentales eran manejadas con gran habilidad, de una manera no muy distinta a como se utilizan actualmente.

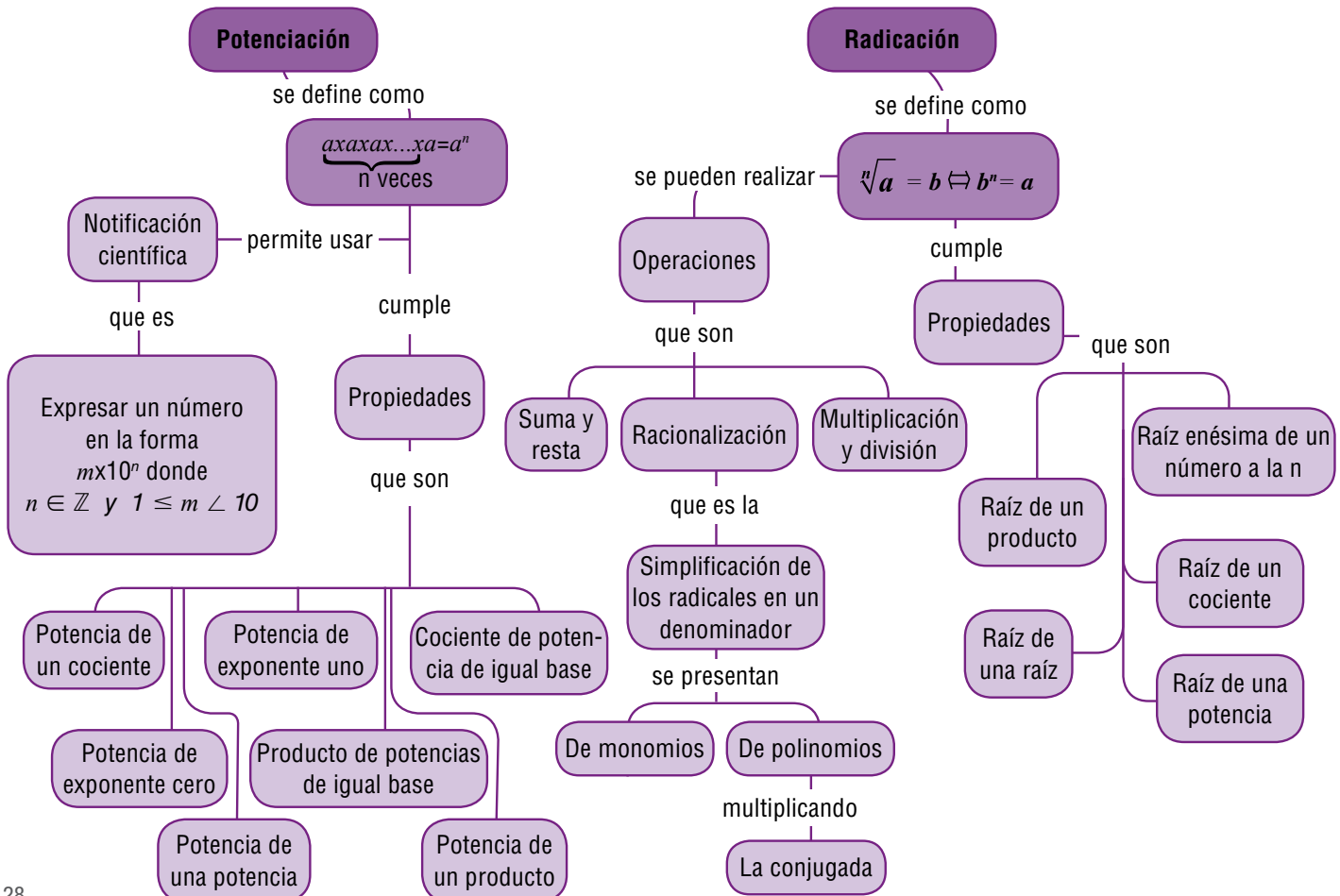
Entre las tablillas escritas en el sistema sexagesimal cuneiforme, que datan de la época babilónica antigua, se incluyen tablas de multiplicar, de inversos, de cuadrados y cubos o de raíces cuadradas y cúbicas.

En las tablas de tipo exponencial, aparecen las diez primeras potencias para las bases 9 y 16, y para los decimales 1.40 y 3.45. El símbolo de raíz se empezó a usar en 1525 y apareció por primera vez en un libro alemán de álgebra. Antes, para indicar la raíz de un número se escribía raíz de. Luego, para abreviar, se utilizaba únicamente la le-



tra "r" y cuando el número era muy largo, el trazo horizontal de la "r" se alargaba hasta abarcar todas las cifras, lo cual sugiere el origen del actual símbolo radical.

Los babilonios dispusieron también de un algoritmo para calcular raíces cuadradas, que consiste en una serie de aproximaciones iterativas. Este método se ha atribuido posteriormente a diversos matemáticos, entre ellos los griegos Arquitas (428-365 a. C.) y Herón (100 d. C.) de Alejandría.



Tema 1. Operaciones entre números reales: adición, sustracción, multiplicación, división



Indagación

Completa el siguiente cuadro realizando las operaciones indicadas:

a	b	$\frac{1}{a} + \frac{1}{b}$	$(\frac{2}{3}a - b) + \frac{2}{3}$	$\frac{a+b}{2} + \frac{3}{5}$
1	-2			
$-\frac{1}{2}$	$\frac{2}{3}$			
0	$\frac{5}{2}$			
$\frac{6}{5}$	1			
$\sqrt{6}$	$-\sqrt{8}$			
3.5	4.203			
$5.\overline{16}$	$-11\overline{6}$			



Conceptualización

Adición y Multiplicación:

Decir que la adición y la multiplicación son operaciones definidas en el conjunto de los números reales significa que si dos números reales se relacionan mediante alguna de estas dos operaciones el resultado es un número real.

Propiedades de la adición en el conjunto de los números reales:

- Sean $a \in \mathbb{R}$, $b \in \mathbb{R}$, entonces $a + b = b + a$, **la adición es conmutativa.**

Por ejemplo: $4 + 3 = 3 + 4$.

- Sean $a \in \mathbb{R}$, $b \in \mathbb{R}$, $c \in \mathbb{R}$ entonces $a + (b + c) = (a + b) + c$, **la adición es asociativa.**

Por ejemplo: $(6 + 9) + 3 = 6 + (9 + 3)$.

- Existe $0, 0 \in \mathbb{R}$ tal que para cada $a, a \in \mathbb{R}, a + 0 = a$, 0 es el **elemento neutro aditivo**.

Por ejemplo: $-\frac{3}{5} + 0 = -\frac{3}{5}$.

- Para cada $a, a \in \mathbb{R}$ existe $-a, -a \in \mathbb{R}$, tal que $a + (-a) = 0$, **cada número real posee inverso aditivo u opuesto**.

Por ejemplo: el inverso aditivo de -8 es 8 pues $-8 + 8 = 0$.

Propiedades de la multiplicación en el conjunto de los números reales

- Sean $a \in \mathbb{R}, b \in \mathbb{R}$, entonces $a \cdot b = b \cdot a$, **la multiplicación es conmutativa**.

Por ejemplo: $5 \cdot 3 = 3 \cdot 5$.

- Sean $a \in \mathbb{R}, b \in \mathbb{R}, c \in \mathbb{R}$ entonces $a \cdot (b \cdot c) = (a \cdot b) \cdot c$, **la multiplicación es asociativa**.

Por ejemplo: $2 \cdot (8 \cdot 3) = (2 \cdot 8) \cdot 3$.

- Existe $1, 1 \in \mathbb{R}$ tal que para cada $a, a \in \mathbb{R}, a \cdot 1 = a$, 1 es el **elemento neutro multiplicativo**.

Por ejemplo: $5 \cdot 1 = 5$

- Para cada $a, a \in \mathbb{R}, a \neq 0$ existe $\frac{1}{a}, \frac{1}{a} \in \mathbb{R}$, tal que $a \cdot \frac{1}{a} = 1$, **cada número real diferente de 0 posee inverso multiplicativo**.

Por ejemplo: $15 \cdot \frac{1}{15} = 1$.

- Si $a \in \mathbb{R}, b \in \mathbb{R}, c \in \mathbb{R}$ entonces se cumple que $a \cdot (b + c) = a \cdot b + a \cdot c$, **ley distributiva del producto con respecto a la multiplicación**

Por ejemplo: $-11 \cdot (3 + 9) = (-11) \cdot 3 + (-11) \cdot 9$.

División en los números reales:

Sean $a \in \mathbb{R}, b \in \mathbb{R}, b \neq 0$.

Se define la división de a entre b y se denota $a \div b$, a la operación definida por: $a \div b = a \cdot \frac{1}{b}$

Usualmente $a \div b$ se denota como $\frac{a}{b}$ o sea: $a \div b = \frac{a}{b}$

Recuerda que si $\frac{a}{b}$ representa un número real entonces b tiene que ser diferente de cero, pues la división entre cero no está definida matemáticamente.



Aplicación

Realiza las siguientes operaciones:

1. $1+2+3+4+5+6+7+8+9+10+11+12+13+14+15=$

2. $2 + 2.5 + 2.55 + 2.555 =$

3. $\frac{5}{5} + \frac{3}{5} - \frac{7}{10} =$

4. $5 + 3 (14 \div 2) - 10 \div 5 =$

5. Responde Falso (F) o verdadero (V) en cada caso:

- a) El producto de dos enteros es siempre positivo ____
- b) La división de dos números enteros es siempre negativo ____
- c) El producto de dos enteros da cero cuando uno de ellos es cero ____
- d) La división de dos enteros iguales es siempre uno ____
- e) El elemento neutro de la suma es igual al elemento neutro de la multiplicación ____

6. Encuentra el valor de x en cada caso:

- a) $(-3)x = 6$
- b) $(-4)(-3) = x$
- c) $3(-5) = x$
- d) $(-7) x = 49$

7. Decir si cada afirmación es verdadera o falsa:

- a) Todo número natural es también un número real
- b) Todo número racional es también un número entero

- c) Todo número entero puede escribirse como un número racional
- d) Todo número irracional es también un número real
- e) Todo número decimal infinito es un número irracional

8. Utiliza números reales para describir cada situación dada:

- a) La pérdida de la Bolsa fue de 12,400 dólares
- b) En Tunja se registró una temperatura de 5ª bajo cero
- c) Deposité en el banco \$ 234,500
- d) Pagué una deuda de \$ 1,250,000.

Encuentra el área y perímetro de las siguientes figuras geométricas:

9.

$$\frac{3}{2} + 24$$



$$\frac{3}{2} + 24$$

10.

$$6 + \frac{2}{3}$$



$$12 + \frac{4}{6}$$


Entendemos por...

Inverso Multiplicativo de un número “a” a otro número “1/a” que multiplicado por el primero da como resultado 1. Ejemplo: $5 \cdot 1/5 = 1$

Inverso aditivo: El inverso aditivo de un número es el opuesto de ese número, esto es, el inverso aditivo de un número x es - x. La suma de un número y su inverso aditivo siempre es cero, eso es, $x + (-x) = 0$.

Diversión matemática

Puedes unir los nueve puntos con cuatro líneas rectas y sin pasar dos veces por el mismo punto? Inténtalo.



Día a día

En Francia, en el siglo XVIII, el matemático Blaise Pascal, inició una investigación sobre el comportamiento de los fluidos. Observó que al empujar un líquido, la presión que se ejercía era igual en todas las direcciones. Gracias a este principio, llamado principio de Pascal, se ha logrado producir presiones muy grandes utilizando muy poca fuerza.

Uno de los aparatos más comunes que cumple esta función es la prensa hidráulica y está basada en el principio de Pascal. La prensa hidráulica es un dispositivo que tiene varias aplicaciones técnicas, porque la fuerza que se ejerce en el menor émbolo F_1 , se multiplica en el émbolo mayor F_2 , de tal forma que resulta una fuerza mayor que la aplicada.

La presión de los dos émbolos es la misma, pero el área en uno es mayor que en el otro, para mantener la proporción: El principio de Pascal lo vemos en las máquinas hidráulicas, como: Las grúas, la silla del odontólogo los gatos para levantar carros, etc.

$$\frac{F_1}{A_1} = \frac{F_2}{A_2}$$

Tema 2. Operaciones entre números reales: Potenciación, radicación y logaritmación



Indagación

Resuelve cada ejercicio, en tu cuaderno y anota tus dudas.

1. Expresa en forma de potencia cada uno de los siguientes ejercicios:

a) $4 \cdot 4 \cdot 4 \cdot 4 \cdot 4 \cdot 4 \cdot 4 \cdot 4 \cdot 4 \cdot 4 \cdot 4 \cdot 4$

b) $7 \cdot 7 \cdot 7 \cdot 7 \cdot 7 \cdot 7 \cdot 7 \cdot 7 \cdot 7 \cdot 7 \cdot 7 \cdot 7 \cdot 7 \cdot 7 \cdot 7 \cdot 7$

c) $-1 \cdot -1 \cdot -1 \cdot -1 \cdot -1 \cdot -1 \cdot -1 \cdot -1 \cdot -1 \cdot -1 \cdot -1 \cdot -1 \cdot -1 \cdot -1 \cdot -1$

d) $-\frac{1}{2} \cdot -\frac{1}{2} \cdot -\frac{1}{2} \cdot -\frac{1}{2} \cdot -\frac{1}{2} \cdot -\frac{1}{2} \cdot -\frac{1}{2} \cdot -\frac{1}{2} \cdot -\frac{1}{2} \cdot -\frac{1}{2} \cdot -\frac{1}{2} \cdot -\frac{1}{2} \cdot -\frac{1}{2} \cdot -\frac{1}{2} \cdot -\frac{1}{2}$

2. En un criadero los conejos se cuadruplican cada dos meses, de tal forma que en los dos primeros meses hay cuatro conejos.

Completa la siguiente tabla:

Meses	2	4	6	8	10	12	14
Conejos	4	16	?	?			

- a) ¿Cuántos conejos habrá al cabo de un año?
- b) ¿Cuántos conejos habrá al cabo de un año y medio?
- c) ¿En cuántos meses los conejos serán de 262,144?
- d) ¿En cuántos meses los conejos serán más de 1,000,000?



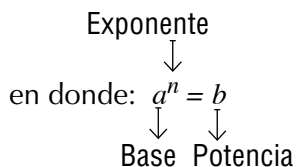
Conceptualización

Recordemos algunos conceptos estudiados en los cursos anteriores:

La potenciación es un producto abreviado, ya que:

$$a^n = \underbrace{a \cdot a \cdot a \dots a}_{n\text{-veces}} \text{ tal que } a, b, n \in \mathbb{R}.$$

Esta expresión se escribe abreviadamente así: $a^n = b$.



Leyes de la potenciación

Ya hemos visto las leyes de la potenciación para otros conjuntos numéricos. Las propiedades de la potenciación son reglas generales que permiten simplificar expresiones algebraicas.

La potenciación de números reales cumple con las siguientes propiedades:

Producto de potencias de igual base: $a^m \cdot a^n = a^{m+n}$

Cociente de potencias de igual base: $\frac{a^m}{a^n} = a^{m-n}$

Potencia de una potencia: $(a^m)^n = a^{m \cdot n}$

Potencia de un producto: $(a \cdot b)^n = a^n \cdot b^n$

Potencia de un cociente: $\left(\frac{a}{b}\right)^n = \frac{a^n}{b^n}$

Potencia con exponente cero: $a^0 = 1$; $a \neq 0$

Potencia con exponente uno: $a^1 = a$

Potencia con exponente negativo: $\left(\frac{a}{b}\right)^{-n} = \left(\frac{b}{a}\right)^n = \frac{b^n}{a^n}$; a y $b \neq 0$

Reflexiona con tus compañeros

¿Por qué

$$\sqrt{25} = 5$$

$$\sqrt{144} = 12 \quad ?$$

$$\sqrt{\frac{4}{9}} = \frac{2}{3}$$

Justifica cada uno de los anteriores ejercicios, apóyate en la potenciación, y podrás comprender la amistad que hay entre la potenciación y la radicación

$$a^{\frac{1}{n}} = \sqrt[n]{a}$$

Leyes de la radicación de números reales

$$\sqrt{\frac{a}{x}} = \frac{\sqrt{a}}{\sqrt{x}} = \frac{a^{\frac{1}{2}}}{x^{\frac{1}{2}}}$$

La raíz del cociente de 2 números reales, es igual a la raíz del dividendo (numerador) entre la raíz del divisor (denominador), siempre que el divisor sea diferente de 0. El índice de la raíz se convierte en exponente fraccionario.

$$\sqrt{a \cdot x} = \sqrt{a} \cdot \sqrt{x}$$

La raíz del producto de 2 números reales, es igual al producto de las raíces de los números.

La raíz de la raíz de un número real, es igual a la raíz cuyo índice es el producto de los índices de las raíces.

$$\sqrt[n]{\sqrt[m]{a}} = \sqrt[n \cdot m]{a}$$

Tener una potencia con exponente negativo en el denominador equivale a tenerla con exponente positivo en el numerador. Análogamente, una potencia con exponente negativo en el numerador equivale a tener la potencia con exponente positivo en el denominador.

$$\frac{x^{-4}}{y^{-2}} = \frac{y^2}{x^4}$$

Errores que no se deben cometer porque \rightarrow

$$\left\{ \begin{array}{l} \sqrt{a+b} \neq \sqrt{a} + \sqrt{b} \\ a^x + a^y \neq a^{x+y} \\ a^x - a^y \neq a^{x-y} \\ (a+a)^x \neq a^x + b^x \end{array} \right.$$

Operaciones con potenciación y radicación

Observa la solución de los siguientes ejercicios de potenciación y radicación, estos te ayudarán a comprender la aplicación de las propiedades:

- $\sqrt{25X^4} = \sqrt{5^2 X^4} = 5X^2$
- $\sqrt[6]{(49)^3} = (49)^{\frac{3}{6}} = (49)^{\frac{1}{2}} = \sqrt{49} = 7$
- $(\sqrt[5]{y})^{15} = (y)^{\frac{15}{5}} = y^3$
- $\sqrt[4]{y^{33}} = \sqrt[4]{y^{32} \cdot y} = y^{\frac{32}{4}} \cdot \sqrt[4]{y} = y^8 \sqrt[4]{y}$
- $\sqrt[3]{54x^{17}y^{25}} = \sqrt[3]{27 \cdot 2 \cdot x^{15} \cdot x^2 y^{24} \cdot y} = 3x^5 y^8 \cdot \sqrt[3]{2x^2 y}$

Racionalizar consiste en encontrar una fracción equivalente para eliminar una expresión radical del denominador de una fracción. Existen varios casos:

- Cuando el radical del denominador es una raíz cuadrada: Para racionalizarlo, multiplicamos el numerador y el denominador por el término que vamos a racionalizar. Ej.:

$$\frac{x}{3\sqrt{2}} = \frac{x}{3\sqrt{2}} \cdot \frac{\sqrt{2}}{\sqrt{2}} = \frac{x\sqrt{2}}{3\sqrt{2}^2} = \frac{x\sqrt{2}}{3 \cdot 2} = \frac{x\sqrt{2}}{6}$$

- Cuando el radical del denominador es un binomio: Para racionalizarlo, multiplicamos el numerador y el denominador por la conjugada del denominador.

La conjugada: es la misma expresión del denominador pero con diferente signo del término de la raíz. Ej.:

$$\frac{4}{2+\sqrt{3}} = \frac{4}{2+\sqrt{3}} \cdot \frac{2-\sqrt{3}}{2-\sqrt{3}} = \frac{4 \cdot (2-\sqrt{3})}{(2+\sqrt{3}) \cdot (2-\sqrt{3})} = \frac{4 \cdot (2-\sqrt{3})}{4-3} = \frac{4 \cdot (2-\sqrt{3})}{1} = 4 \cdot (2-\sqrt{3})$$



Aplicación

Intégrate a un equipo y con cuaderno y lápiz a la mano analiza el problemas que se presenta a continuación:

1. La granja

Deseamos calcular el área ocupada por un terreno rectangular, cuyas dimensiones son: $2 \times 10^4 \text{m}$ y $3 \times 10^2 \text{m}$, el cual va a ser parcelado de tal forma que el 70% se va a destinar a la granja, el 20% a los cultivos y el 10% a la piscicultura.

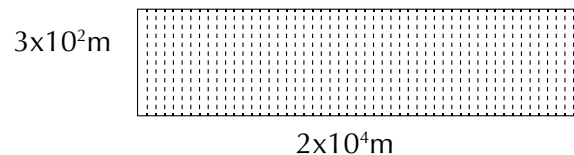
Calculamos el área del terreno multiplicando sus dimensiones $(2 \times 10^4 \text{m})(3 \times 10^2 \text{m})$

Para efectuar la multiplicación aplicamos la propiedad del producto de potencias de la misma base:

$$a^m \cdot a^n = a^{m+n}$$

$$(2 \times 10^4 \text{ m})(3 \times 10^2 \text{ m}) = 6 \times 10^6 \text{ m}^2$$

Luego el área del terreno es $6 \times 10^6 \text{m}^2$



Para calcular el área ocupada por la granja, es necesario especificar que el 70% de un valor puede ser expresado como 70×10^{-2} , así que el área destinada para la granja puede

$$\text{encontrarse multiplicando } (6 \times 10^6)(70 \times 10^{-2}) = 420 \times 10^4 \text{m}^2,$$

$$\text{el área para los cultivos es } (6 \times 10^6)(20 \times 10^{-2}) = 120 \times 10^4 \text{m}^2,$$

$$\text{el área para la piscicultura es de } (6 \times 10^6)(10 \times 10^{-2}) = 60 \times 10^4 \text{m}^2$$

2. Ganado vacuno

Un ganadero empezó con una pareja de ganado vacuno, si cada año se le duplica la cantidad de ganado, entonces:

- ¿Cuál es la cantidad de ganado que tiene al cuarto año?
- ¿Cuál es la cantidad de ganado que tiene al séptimo año?
- ¿Cuál es la cantidad de ganado que tiene al décimo año?
- ¿En qué año tiene 4,096 reses?
- ¿Si la meta es 30,000 reses, ¿Cuántos años tiene que trabajar como mínimo?



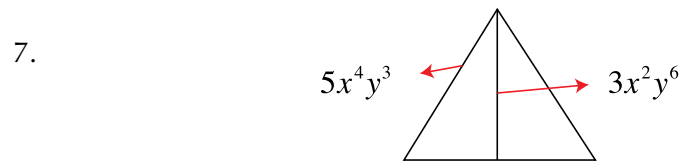
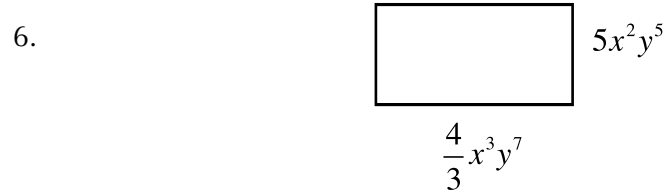
3. En la siguiente sopa de letras encuentra la respuesta a las preguntas sobre potenciación:

J	A	N	A	S	M	O	S	U	T
I	S	T	R	A	U	L	N	E	O
S	O	D	E	N	L	P	G	D	M
A	P	O	S	I	T	I	V	O	S
R	I	S	T	E	I	N	G	R	L
S	U	M	A	R	P	B	I	D	M
S	C	J	R	T	L	R	G	F	A
N	E	G	A	T	I	V	O	P	N
U	V	S	E	I	C	J	L	M	E
S	E	M	E	J	A	N	T	E	S
A	S	O	U	P	R	A	N	T	I

- Términos que tienen la misma parte literal con el mismo exponente.
 - Signo que corresponde a la suma de 2 números negativos.
 - Exponente de la expresión 3^a .
 - Se hace con los exponentes, al multiplicar potencias de igual base
 - Se hace con los exponentes, al dividir potencias de igual base
 - Se hace con los exponentes, al elevar una potencia a otra potencia.
 - Signo que le corresponde a cualquier número negativo o positivo, cuando se eleva al cuadrado.
4. En una canasta se empaacan tres huevos, en la siguiente canasta se empaacan el triple de los que había en la canasta anterior y así sucesivamente.
- ¿Cuántos huevos tiene la cuarta canasta?
 - ¿Cuántos huevos tiene la sexta canasta?
 - ¿En qué canasta habrá 6,561 huevos?



Calcula el área y el perímetro de las siguientes figuras:



8. Completa la siguiente tabla:

Término que se va a racionalizar	Término por el que se va a multiplicar	Término racionalizado
$\frac{6}{\sqrt{3}}$		
$\frac{5}{\sqrt{5}}$		
$\frac{14}{\sqrt{7p}}$		

9. Sigue con tu equipo y resuelve en tu cuaderno los siguientes ejercicios de potenciación y radicación:

1. $\frac{a^8b^{-9}c^{-11}d^{-4}}{a^{-6}b^{-8}c^6d^{-5}}$

2. $\left(\frac{2^{-4}3^{-3}4}{2^{-6}3^{-4}4^2}\right)^3$

3. $\left(\frac{5}{3}\right)^3 \div \left(\frac{3}{5}\right)^{-4}$

4. $\sqrt{\frac{100}{16}}$

5. $\sqrt[3]{432}$

6. $\sqrt[4]{\frac{81x^{12}}{16y^6}}$

10. La velocidad a la que fluye el agua a través de una manguera contra incendios, R , es galones por minuto, puede calcularse mediante la fórmula,

$R = 28d^2 \sqrt{P}$ en donde "d" es el diámetro de la boquilla de la manguera, en pulgadas, y P es la presión de salida, en libras por pulgada cuadrada.

Si la boquilla de una manguera tiene un diámetro de 3,5 pulgadas y la presión de salida es 90 libras por pulgada, determina la velocidad del flujo del agua.

Entendemos por...

Radicación una de las operaciones inversas a la potenciación que nos permite hallar la base de una potencia. Ejemplo: Si $2^3 = 8$ entonces $\sqrt[3]{8} = 2$


Conjugada: es la misma expresión del denominador pero con diferente signo del

término de la raíz. Ejemplo: La conjugada de $5 + \sqrt[3]{2a}$ es $5 + \sqrt{2a}$

Diversión matemática

Dos burros llevan una carga de sacos y en el camino, uno de ellos se queja amargamente al otro: ¡No hay derecho: si tú me dieras un saco de los tuyos, yo ya llevaría el doble que tú!

A lo que el otro respondió: No es tan grave como lo pintas, si tú me das uno de tus sacos, llevaremos los dos la misma cantidad. ¿Cuántos sacos llevaba cada uno?



Día a día

Las amebas son seres unicelulares que se reproducen por bipartición. Cada ameba genera 2 amebas, que a su vez generan 4 amebas y estas 4 se dividen y generan 8 amebas, y así sucesivamente. Podemos entonces expresar este proceso mediante la siguiente sucesión numérica: 1; 2; 4; 8; 16; 32; 64;... Si quisiera expresar esta sucesión como potencias ¿qué base podría elegir?

Expresa la sucesión como potencias:

Si las amebas se dividieran cada hora:

en la 1° hora habría _____ amebas

en la 2° hora habría _____ amebas

en la 3° hora habría _____ amebas

.

.


.

en t horas habría _____ amebas

Como verás, ya deducimos el modelo matemático que permite saber en cada momento la cantidad de amebas que se encuentran presentes. Este modelo es una función exponencial.

Analicemos el modelo mediante un simulador

<http://www.dav.sceu.frba.utn.edu.ar/homovidens/Graciela%20Carnero/proy4/varios/biologia1.htm>





Este capítulo fue clave porque

Aprendí a reconocer la aplicación que la radicación y la potenciación tienen en otras ciencias.

El uso de la potenciación en diferentes áreas para indicar cantidades convencionales que pueden ser expresadas como potencias, lo cual facilita su escritura, su expresión y los respectivos cálculos, ya sea para hablar del crecimiento y reproducción de la ameba, de un virus, de crecimientos de hortalizas, de reproducción de animales como los conejos, etc.

Gracias a la radicación el científico Galileo Galilei, pudo establecer la ecuación para el cálculo de la caída libre de los cuerpos, así como el movimiento oscilatorio de un péndulo.

Conectémonos con La Física




Por medio de diversos experimentos, Galileo concluyó que el movimiento de un cuerpo en caída libre es uniformemente acelerado. La aceleración con la que cae un cuerpo se llama aceleración de la gravedad, se denota con la letra "g" y su valor en la Tierra es de aproximadamente 9.8 m/s^2 .

Esto significa que cuando un cuerpo cae, su velocidad aumenta en 9.8 cada segundo y que si el cuerpo se lanza verticalmente hacia arriba, su velocidad disminuye en 9.8 m/s cada segundo.

Si un cuerpo se deja caer libremente, el tiempo que gasta en recorrer una distancia "d", es

$$t = \sqrt{\frac{2d}{g}}$$

¿Cuánto tiempo tarda en llegar al suelo un cuerpo que se deja caer libremente desde la torre de la Universidad Lomonósov de Moscú que tiene una altura de 302 m ?



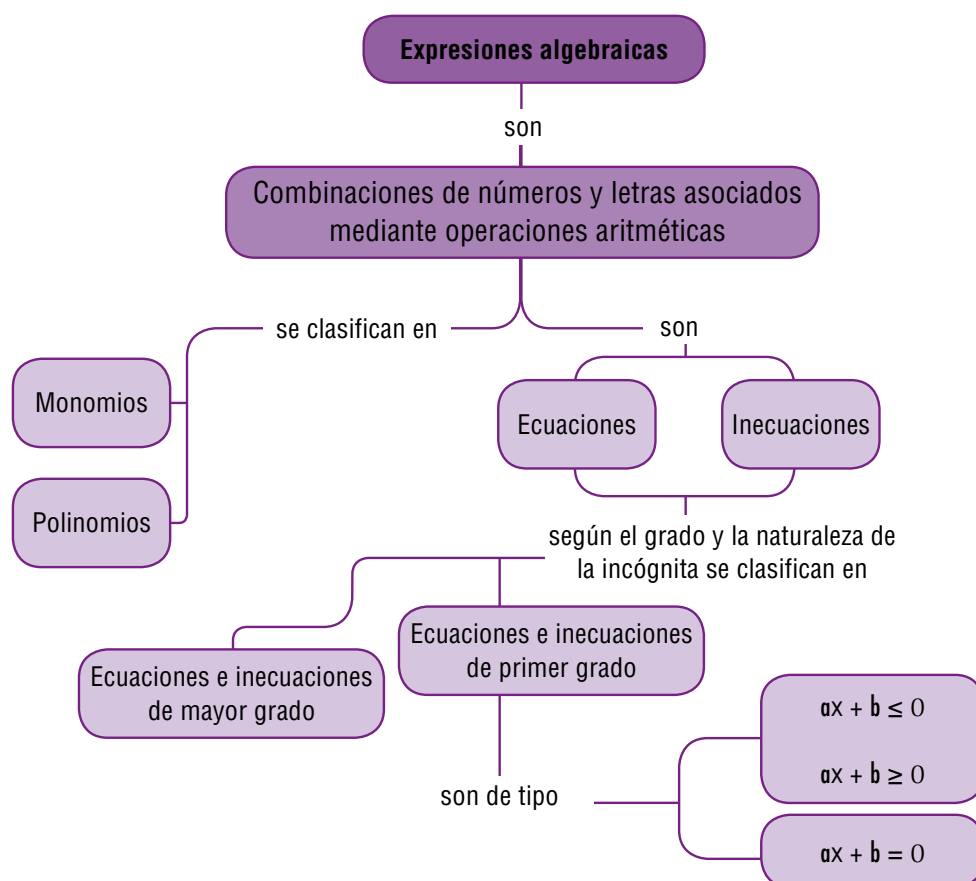
Expresiones algebraicas y ecuaciones e inecuaciones

Imagina que tienes en mente el proyecto de comprar gallinas ponedoras ¿Cómo crees que se vería tu proyecto sin un presupuesto?

Para elaborar el presupuesto de un proyecto, se necesita como mínimo hacer uso de las ecuaciones, porque con ellas se expresa en términos financieros las metas soñadas.

Elabora una lista de las cosas que necesitas, el costo aproximado de ellas y los otros posibles gastos, para tener idea del dinero que requieres.

Elabora un valor estimado del que obtendrías con los huevos que pone una gallina, con base en este, elabora lo producido con 10 gallinas.



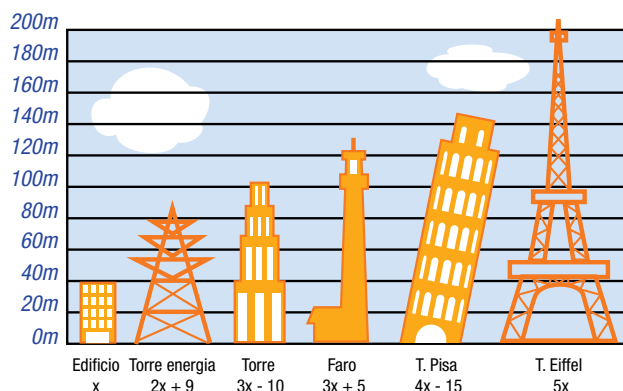
Tema 1. Ecuaciones



Indagación

Encontremos la altura de cada una de las siguientes construcciones:

En la siguiente figura se muestran algunas construcciones, junto con su altura aproximada, observa la ecuación planteada debajo de cada figura y calcula:



1. ¿Cuál es la altura aproximada en metros de cada una de las construcciones? ¿Cómo se hallaría X?
2. Escribe algebraicamente la diferencia de alturas entre la Torre de Pisa y la Torre Eiffel.
3. Calcula la diferencia en metros, entre la altura de la Torre Eiffel y la Torre de luz.
4. ¿Cuál es la altura de cada una de las construcciones?



Conceptualización

Ecuaciones: una ecuación es una igualdad que tiene una o más cantidades desconocidas, llamadas incógnitas:

Por ejemplo expresiones como:

$$4x - \frac{3}{5} = 6 \quad ; \quad 3y - 6x = 4 \quad ; \quad \sqrt{2x + 3} = 1$$

La solución de una ecuación es el valor numérico por el cual se puede reemplazar la incógnita para que la igualdad sea verdadera.

Para resolver ecuaciones, se realiza transposición de términos, que no es más que la aplicación sucesiva de la propiedad uniforme de las igualdades.

Las ecuaciones pueden tener paréntesis para indicar productos entre expresiones algebraicas y algunos coeficientes racionales pueden estar en fracción o en decimales.

La situación problemática también puede originar cocientes entre expresiones y el uso de la adición o de la sustracción entre productos o cocientes de expresiones algebraicas.

Resolvamos las siguientes ecuaciones, que te servirán para entender y comprender este tema y será la introducción a la solución de inecuaciones o desigualdades.

$$\frac{5x}{3} - \frac{1}{6} = \frac{3x}{2} - 2$$

$$\frac{10x - 1}{6} = \frac{3x - 4}{2}$$

$$2(10x - 1) = 6(3x - 4)$$

$$20x - 2 = 18x - 24$$

$$20x - 18x = -24 + 2$$

$$2x = -22$$

$$2x = \frac{-22}{2}$$

$$x = -11$$

Con base en la resolución de problemas ejercitarás tu habilidad para traducir situaciones del lenguaje natural al lenguaje propio de las matemáticas y dotarás de sentido las respuestas encontradas teniendo en cuenta el contexto del problema.

Valor numérico de la incógnita en la ecuación

Analícemos el ejercicio siguiente:

$$5x - (2x + 18) = 11 - 4(x + 2)$$

Antes de suprimir los paréntesis es necesario recordar que, cuando hay un coeficiente antes de ellos, dicho coeficiente multiplica a cada uno de los términos de esa expresión. Propiedad distributiva

Como el primer miembro el signo “menos” precede al paréntesis, se considera que el coeficiente que va con el signo es 1, mientras que en el segundo miembro el coeficiente que precede a la expresión entre paréntesis es -4 , después se efectúan los productos indicados.

$$5x - 1(2x + 18) = 11 - 4(x + 2). (1)$$

$$5x - 2x - 18 = 11 - 4x - 8. (2)$$

Como se observa, la ecuación número 2 es una ecuación equivalente a la número 1.

Se agrupan los términos semejantes con incógnita en el primer miembro y los términos independientes en el otro; para ello se aplican las propiedades de la igualdad:

$$5x - 2x + 4x = 11 - 8 + 18$$

se reducen los términos semejantes en la ecuación:

$$7x = 21$$

se despeja la incógnita

$$x = 3$$

se comprueba el resultado, sustituyéndolo en la ecuación número 2:

$$5x - 2x - 18 = 11 - 4x - 8$$

$$5(3) - 2(3) - 18 = 11 - 4(3) - 8$$

$$15 - 6 - 18 = 11 - 12 - 8$$

$$-9 = -9$$

Como se obtiene una igualdad, la solución $x = 3$ es correcta.

Determinemos el valor numérico de la incógnita en la ecuación:

$$4 + (-5y + 8) = -2(7y - 3) \quad (1)$$

En el primer miembro se observa que el signo positivo precede al paréntesis, por ello permanecen iguales los signos que tiene cada uno de los términos contenidos dentro del paréntesis, ello equivale a multiplicar por +1. En el segundo miembro se efectúa la multiplicación indicada:

$$4 - 5y + 8 = -14y + 6 \quad (2)$$

Se agrupan los términos en ambos miembros de la ecuación, considerando las propiedades de la igualdad:

$$-5y + 14y = 6 - 4 - 8$$

Se reducen los términos semejantes:

$$9y = -6$$

se despeja la incógnita:

$$y = \frac{-6}{9}$$

se simplifica:

$$y = \frac{-2}{3}$$

Para comprobar el resultado se sustituye $y = \frac{-2}{3}$ en la ecuación (2)

$$4 - 5y + 8 = -14y + 6$$

$$4 - 5\left(-\frac{2}{3}\right) + 8 = -14\left(-\frac{2}{3}\right) + 6$$

$$4 + \frac{10}{3} + 8 = \frac{28}{3} + 6$$

$$\frac{12 + 10 + 24}{3} = \frac{28 + 18}{3}$$

$$\frac{46}{3} = \frac{46}{3}$$

Como se llega a la igualdad, la solución $y = \frac{-2}{3}$ es correcta.

- Sigue con tu equipo y resuelve en tu cuaderno:

a) $2x - 3(x - 5) = 3x + (-6x - 1)$

b) $-6x - (2x - 7) = 4x - 2(x + 2)$

Recuerda que los pasos que deben seguirse para resolver una ecuación con paréntesis son:

1. Suprimir los paréntesis mediante la multiplicación.
2. Agrupar términos semejantes.
3. Reducir términos semejantes.
4. Despejar la incógnita.
5. Comprobar el resultado.


Despejar variables o literales de primer grado en fórmulas

Hay muchas situaciones en las que podrías tener una ecuación o fórmula con una variable despejada, pero necesitamos despejar otra variable de la misma fórmula.

Por ejemplo, para calcular el perímetro de una finca rectangular, la fórmula que empleamos es:

$P=2l + 2a$, en donde “l” es el largo de la finca y “a” es el ancho de la finca,

Si conoces el largo y el perímetro, despejas “a” en esta fórmula, **$P= 2l + 2a$**



¿Qué te resultaría?

Uno de los temas que se aplica con mayor frecuencia en otras asignaturas es el despeje de variables en fórmulas, como las que aplicamos en Física, en Química y también en Matemáticas.


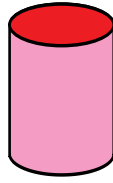
Un despeje no es otra cosa que “cambiar” variables de un miembro de una ecuación a otro, aplicando las propiedades de la igualdad.

Taller: Pensar para despejar

Con dos de tus compañeros comparte las cuestiones propuestas aquí:

En el dibujo se representa un cono y un cilindro que tienen la misma altura h y sus bases son de igual área, B . Por los conocimientos que ya tienes, sabes que sería necesario verter tres conos de agua para llenar el cilindro.

Esto lleva a la expresión:



$$V = \frac{1}{3} Bh$$

Formula un problema en el cual el valor desconocido sea el área de la base de un cono.

A partir de la expresión para el volumen encuentra una expresión para B .

En cada paso asegúrate de por qué lo haces.

En general es más fácil tener en el miembro izquierdo de la igualdad la variable que se va a despejar, entonces podrías comenzar por conmutar los miembros de la igualdad.

$$V = \frac{1}{3} Bh$$

Continúa hasta obtener otra igualdad en la cual el miembro izquierdo sea B . Ensayen una revisión conjunta y si tienen dificultades consulten al profesor.



Aplicación
Taller: del texto del problema a la ecuación.

Intégrate a un equipo y con cuaderno y lápiz a la mano resuelve los problemas que se presentan a continuación:

1. Una gallina

Varios jóvenes deciden comprar una gallina aportando cada uno \$2,000. Al momento de hacer la compra tres de ellos no pudieron dar su cuota y cada uno de los otros debió dar \$2,500 para cubrir el precio de la gallina. ¿Cuánto costó la gallina?


Con base en la primera frase del problema, ¿cómo se expresaría el valor de la gallina?

Si llamamos x al número de jóvenes, el precio se puede expresar así:

$$2,000 x = \text{precio de la gallina}$$

El precio anterior fue asumido por $(x-3)$ jóvenes, que debieron aportar \$2,500 cada uno, de donde:

$$2,000 x = 2,500 (x - 3)$$



Hallamos el valor de x :

$$2,000x = 2,500x - 7,500$$

$$2,000x - 2,500x = -7,500$$

$$-500x = -7,500$$

$$x = \frac{-7,500}{-500}$$

$$x = 15$$

2. La comunidad se reúne

En una reunión comunitaria hay 40 personas que tienen más de 40 años; un cuarto del número de asistentes tiene entre 30 y 40 años y la tercera parte tiene menos de 30 años. ¿Cuántas personas hay en la reunión? ¿En cuántos rangos de edades se han clasificado las personas? Llama x al número total de personas que están reunidas. Según el texto del problema, ¿a qué podría ser igual $x - 40$? Plantea la ecuación y halla el valor de x .

x = Número de asistentes

$\frac{1}{4}x$ = Tiene entre 30 y 40 años.

$\frac{1}{3}x$ = Tiene menos de treinta

$$\frac{1}{4}x + \frac{1}{3}x = x - 40$$

$$\frac{3x + 4x}{12} = x - 40$$

$$\frac{7x}{12} = x - 40$$

$$3x + 4x = 12(x - 40)$$

$$7x = 12x - 480$$

$$7x - 12x = -480$$

$$-5x = -480$$

$$x = \frac{-480}{-5}$$

$$x = 96$$



¿Cuántas personas hay en la reunión? Rta/ En la reunión hay 96 personas.
 ¿En cuántos rangos de edades se han clasificado las personas? Rta/ en tres rangos:

1. Entre 30 y 40 años.
2. Menos de 30 años.
3. Más de 40 años.

¿A qué podría ser igual $x - 40$? Rta/ Hace referencia al total de las personas menos las mayores de 40, estas son el resto de personas menores de 40 años.

3. Los precios suben y suben

Un artículo experimentó dos aumentos sucesivos, uno del 4% y otro del 5%. Su precio es ahora de \$46,410.

¿Cuál era su precio inicial?

Si alguien te dice que el precio actual equivale al inicial más un aumento del 9%, ¿estarías de acuerdo con esa afirmación?

¿Cuál es tu primera conjetura al respecto?

Llamemos p al precio inicial y expresemos el aumento del 4% sobre p como $0.04p$ ($p + 0.04p$) es el nuevo precio del artículo.

Expresa en función de p el segundo aumento del 5% sobre el nuevo precio.

$$5\% \text{ de } (p + 0.04p) = 0.05 \times 1.04p$$

El precio final es entonces:

$$1.04p + (0.05 \times 1.04p) = 46,410$$

$$1.04p + 0.052p = 46,410$$

$$1.092p = 46,410$$

Observa que el precio inicial está multiplicado por 1.092, es decir que el aumento total es del 9.2%

$$\text{Despeja: } p = \frac{46,410}{1.092} = \$42,500 \text{ su precio inicial}$$

Si quieres verificar la respuesta transforma el problema y halla el precio final después de los dos aumentos sucesivos.

4. Ahora resuelve:

a) Determina dos enteros consecutivos cuya suma sea 1,789.

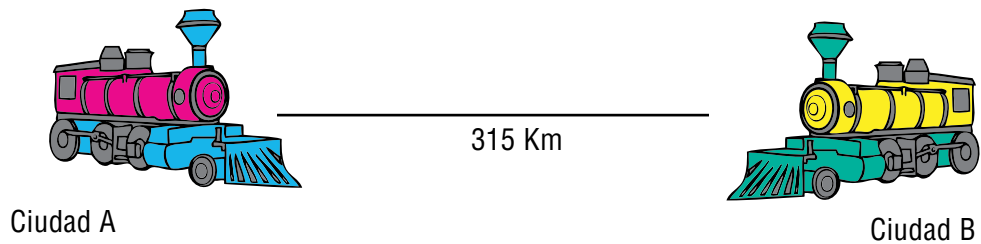
Si a uno de esos números le llamas n , su consecutivo será $n + 1$.

Plantea la ecuación y despeja n .

b) Determina, si es posible, tres enteros consecutivos cuya suma sea 1,989.

Haz lo mismo cuando la suma es igual a 1,789.

5. Dos trenes parten a las 5 a.m., uno de la ciudad A, y el otro de la ciudad B. Esta última situada a 315 km de A.



¿A qué hora se cruzarán, si el primero va a 90 km/h y el segundo a 120 km/h?
 Pista: en el recorrido que hacen los trenes hasta el sitio donde se cruzan han invertido el mismo tiempo. En el instante del cruce ¿cuántos kilómetros han recorrido entre los dos?


Compara tus resultados con los de otro equipo, en caso de existir diferencias, revisa tus procedimientos y discute la interpretación y comprensión del problema. Pueden simularlo.

6. En forma individual, resuelve las siguientes ecuaciones, en tu cuaderno:

a) $-5x - (4x - 6) = 3(-x - 2)$
 b) $-8(2x - 3) + 1 = 5x + (-6x + 70)$

7. Ahora diviértete con un problema, entre animales, que me propuso el abuelo:
 Se cambiaron 5 cerdos por 2 terneros, 10 terneros por 3 vacas, 12 vacas por 5 caballos y 7 caballos por 8 novillos, estimado el valor de cada uno de estos últimos en \$420,000.

El abuelo pregunta:
 ¿Cuál es entonces el precio de un cerdo?



8. Realiza en tu cuaderno los siguientes despejes de variables

1) Despeja m $F = \frac{mV^3}{3}$

2) Despeja b $P = 2a + b$

3) Despeja r $V = \pi r^2 h$

Con tu equipo, resuelve y anota en el paréntesis la letra que corresponde al despeje correcto de la variable.

9. $F = \frac{Cr}{R}$ despejar r () A) $\frac{3V}{4\pi}$

$f = \frac{Ph}{l}$ despejar l () B) $\frac{Fc}{R}$

$h = \frac{gt^2}{2}$ despejar t^2 () C) $\frac{P-b}{2}$

$P = 2a + b$ despejar a () D) $\frac{Ph}{f}$

$V = \frac{4\pi r^3}{3}$ despejar r^3 () E) $\frac{Fr}{c}$

F) $\frac{2h}{g}$

Entendemos por...

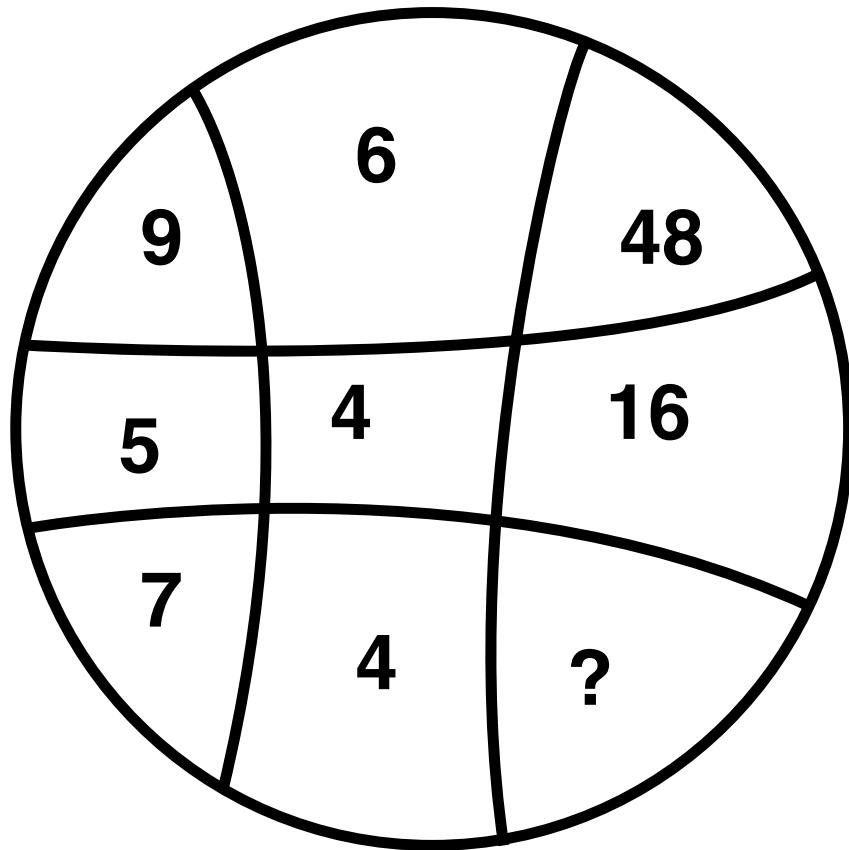
Ecuación a la igualdad entre expresiones algebraicas tal que solo es cierta para algún o algunos valores de las variables. Ejemplo: $68 - x = 45$

Fórmula a la ecuación que muestra una relación ente una o más variables. Ejemplo: área del

rectángulo igual a: $A = (b)(a)$

Diversión matemática

Diviértete buscando el número que debe ir en el lugar del interrogante.



Resuelve los ejercicios que aparecen a continuación y escribe el resultado en el círculo que corresponde. Si las sumas de los números en cada uno de los cuatro hexágonos es la misma, entonces los resultados de los problemas son correctos.

Día a día

Bebés dormilones

El Doctor Richard Ferber, un pediatra experto en problemas del sueño, ha desarrollado un método para ayudar a los niños, de 6 meses de edad en adelante, a dormir toda la noche. Conocido como “Ferberizing” este método consiste en que los padres deben esperar intervalos de tiempo cada vez más grandes antes de entrar a la habitación del niño para consolar su llanto durante la noche. El tiempo sugerido de espera depende de cuántas noches se ha utilizado el método, y puede determinarse por medio de la ecuación:

$$w = 5n + 5$$

En donde W es el tiempo de espera en minutos y n es el número de noches. Diviértete encontrando el tiempo de espera para cada uno de los 5 primeros días.

Tomado de Algebra Intermedia Pearson Prentice Hall).



Tema 2. Inecuaciones



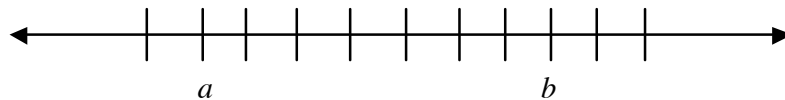
Indagación

Al observar una noticia en el periódico o en la TV, muchas veces nos muestran gráficas relacionadas con el tema, pero no sabemos interpretarla, por ejemplo: La contaminación ambiental por día, producida por los gases contaminantes emitidos por los vehículos. En el plano cartesiano se aprecia en el eje “x” el tiempo, y en el eje “y” la concentración de gases contaminantes y otra variable que represente la contaminación o emisiones de partículas. Cuando sabemos interpretar una gráfica como estas, muchas veces no necesitamos escuchar la noticia, pues una gráfica bien elaborada nos suministra suficiente información sobre la misma.



Conceptualización

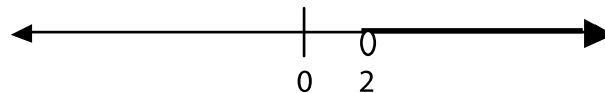
Una inecuación o desigualdad es una proposición que utiliza los símbolos $<$ (se lee “es menor que”), \leq (se lee “es menor o igual que”), $>$ (se lee “es mayor que”), \geq (se lee “es mayor o igual que”). Las desigualdades tienen una mejor explicación, si utilizamos la recta real para mostrar cómo se comportan los números:



Si tenemos dos números a y b y los ubicamos en la recta, podemos decir que el número mayor, es el que se encuentra más a la derecha de la recta, en este ejemplo, $b > a$, (b es mayor que a).

Cuando trabajamos una inecuación o desigualdad, se soluciona siguiendo los mismos pasos de la ecuación. La solución de una desigualdad se representa sobre una recta numérica, indicado de la siguiente forma:

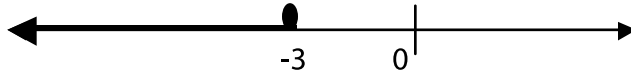
Ejemplo: Representemos en la recta numérica $x > 2$:



$x > 2$ y su notación de conjunto es: $(2, \infty)$

Como son los números estrictamente mayores que 2, se simboliza con un círculo abierto sobre el número 2, para indicar que 2 no es parte de la solu-

ción de la desigualdad, y la flecha hacia la derecha indicando que son todos los números reales mayores estrictamente que 2; y cuando vamos a representar desigualdades como $x \leq -3$, en este caso son los números menores o iguales que -3, por lo tanto si incluye al número -3, y se simboliza con un círculo relleno y la flecha hacia la izquierda indicando que son todos los números reales menores o iguales que -3, y se grafica de la siguiente forma:



$x \leq -3$ y su notación de conjunto es: $(-\infty, -3]$

Propiedades utilizadas para resolver desigualdades.

1. Si $a > b$, entonces $a + c > b + c$	2. Si $a > b$ y $c > 0$, entonces $\frac{a}{c} > \frac{b}{c}$
3. Si $a > b$, entonces $a - c > b - c$	4. Si $a > b$ y $c < 0$, entonces $ac < bc$
5. Si $a > b$ y $c > 0$, entonces $ac > bc$	6. Si $a > b$ y $c < 0$, entonces $\frac{a}{c} < \frac{b}{c}$

Resolvamos la siguiente inecuación:

$$\begin{aligned}
 3(x-2) &\geq 5x+2 \\
 3x-6 &\geq 5x-3x \\
 3x-3x-6 &\geq 5x-3x+2 \\
 -6 &\geq 2x+2 \\
 -6-2 &\geq 2x+2-2 \\
 -8 &\geq 2x \\
 -\frac{8}{2} &\geq \frac{2x}{2} \\
 -4 &\geq x
 \end{aligned}$$

Utilizamos la propiedad distributiva

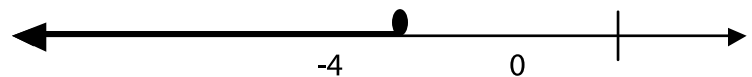
Restamos $3x$ a ambos miembros de la desigualdad

Reducimos términos semejantes

Restamos 2 a ambos miembros de la desigualdad

Reducimos términos

Dividimos ambos miembros de la desigualdad por 2



$-4 \geq x$, se puede escribir como $x \leq -4$ y su notación de conjunto es: $(-\infty, -4]$

Recuerda que los pasos que se deben seguir para resolver una inecuación con paréntesis son:

1. Suprimir los paréntesis mediante la multiplicación.
2. Agrupar términos semejantes.
3. Reducir términos semejantes.
4. Despejar la incógnita (recuerda que la incógnita debe quedar positiva).
5. Representar la solución en la recta numérica.
6. Dar la solución en notación de conjunto.




Aplicación

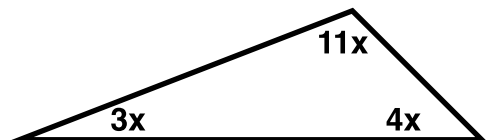
Copia los ejercicios en tu cuaderno y en forma individual, resuélvelos. Luego compara tus respuestas con tus compañeros.

Encuentra la solución de las inecuaciones:

1. $3x + 9 \leq 2x - 5$
2. $14x - 7 + 2 \geq 9 - 5x$
3. $5(3x - 1) > 2(4x - 7)$
4. $8(-3x + 2) < 6(3x - 11)$
5. Mario vive 6 Km al oriente de Juan y éste 4 Km al oriente de Sofía. Alejandra quiere ubicar una tienda en la mitad del camino entre la casa de Mario y Sofía. Determina la ubicación de la tienda y una expresión que represente todos los puntos de este camino.



6. Los ángulos de un triángulo son: $3x$, $4x$, y $11x$. Encuentra el valor de cada ángulo:



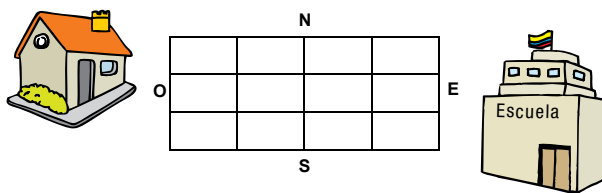
Entendemos por...

Inecuación: relación de desigualdad entre expresiones algebraicas.

Recta numérica: recta horizontal en la cual cada punto representa un número real. Los enteros son puntos marcados a distancias de una unidad.

Diversión matemática

De una manera divertida, descubre los posibles caminos para que Jairo vaya de su escuela a su casa, si solo puede caminar hacia el Sur y hacia el Este.



Día a día

Distancia = velocidad x Tiempo
o también
cantidad = velocidad x Tiempo

La "cantidad" en esta fórmula puede ser una medida de muchas cantidades diferentes dependiendo de la tasa de cambio (o velocidad). Por ejemplo, si la tasa se mide en distancia por unidad de tiempo, la cantidad será la distancia. Si la tasa se mide en volumen por unidad de tiempo, la cantidad será volumen, entre otros.

Cuando apliques esta fórmula, asegúrate de que las unidades son consistentes. Por ejemplo, cuando hablamos acerca de una fotocopiadora, si la velocidad está dada en copias por minuto, el tiempo debe estar dado en minutos. Los problemas que pueden resolverse con esta fórmula se denominan problemas de movimiento, ya que incluyen movimiento, a una tasa constante, durante cierto periodo.

Un veterinario que aplica a su paciente vacuno un suero vía intravenosa puede utilizar esta fórmula para determinar la tasa de goteo del fluido que está siendo inyectado.

Tomado de Algebra Intermedia Pearson Prentice Hall.

Este capítulo fue clave porque



- Alguna vez te has preguntado “¿cuándo voy a usar las matemáticas?”. En este capítulo que has concluido hemos aprendido para qué nos sirven los números reales, sus infinitas aplicaciones, y cómo el conjunto de los números reales abarcan a los números naturales, (los aprendí en Primaria y los reforcé en grado sexto, y me ayudaron a sumar, restar, multiplicar y dividir), a los números enteros (me los enseñaron en grado séptimo y me ayudaron a sumar las deudas y todas aquellas cantidades negativas), a los números racionales, con los cuales pude comprender su aplicación al parcelar el terreno para el cultivo de los diferentes sembrados.
- También aprendimos que las ecuaciones son clave para generalizar situaciones a partir de una particular. Estas situaciones van desde el uso de ecuaciones sencillas para calcular las dimensiones de una parcela, hasta el cálculo de las dimensiones de todo el terreno. Gracias a estos y otros ejemplos, descubrimos que las matemáticas del capítulo pueden usarse en prácticamente todas las áreas de nuestras vidas.

Conectémonos con la Biología




El depredador y su presa

La lucha por la supervivencia es un fenómeno diario presente en la naturaleza. La población de cazadores y presas cambia periódicamente. Cuando crece el número de cazadores, disminuye el número de presas y viceversa. Los científicos se han interesado por el estudio de este fenómeno y han diseñado experimentos en ambientes naturales o artificiales, que les han permitido determinar la rapidez con la cual las poblaciones crecen o desaparecen.



Sucesiones y progresiones



El rey de Sicilia, Federico II, había encargado al filósofo de la Corte, Juan de Palermo, que examinara a Leonardo de Pisa con problemas matemáticos de difícil solución. Leonardo, más conocido como Fibonacci, les presentó las soluciones y esperó a que las evaluaran.

A medida que estudiaban el trabajo, sus caras reflejaban la sorpresa que les producía. Mientras tanto, Fibonacci se había alejado un poco y charlaba con una niña que, sentada en la escalera, acariciaba a un conejito que mantenía en su regazo.

- Yo tuve una pareja de conejos -decía Fibonacci.
- ¿De qué color eran? -se interesó la niña.
- Eran blancos y los tuve en casa, a ellos y sus crías, durante 12 meses, luego me trasladé con mi padre y no me los pude llevar.

¡En un año tenía 144 parejas!

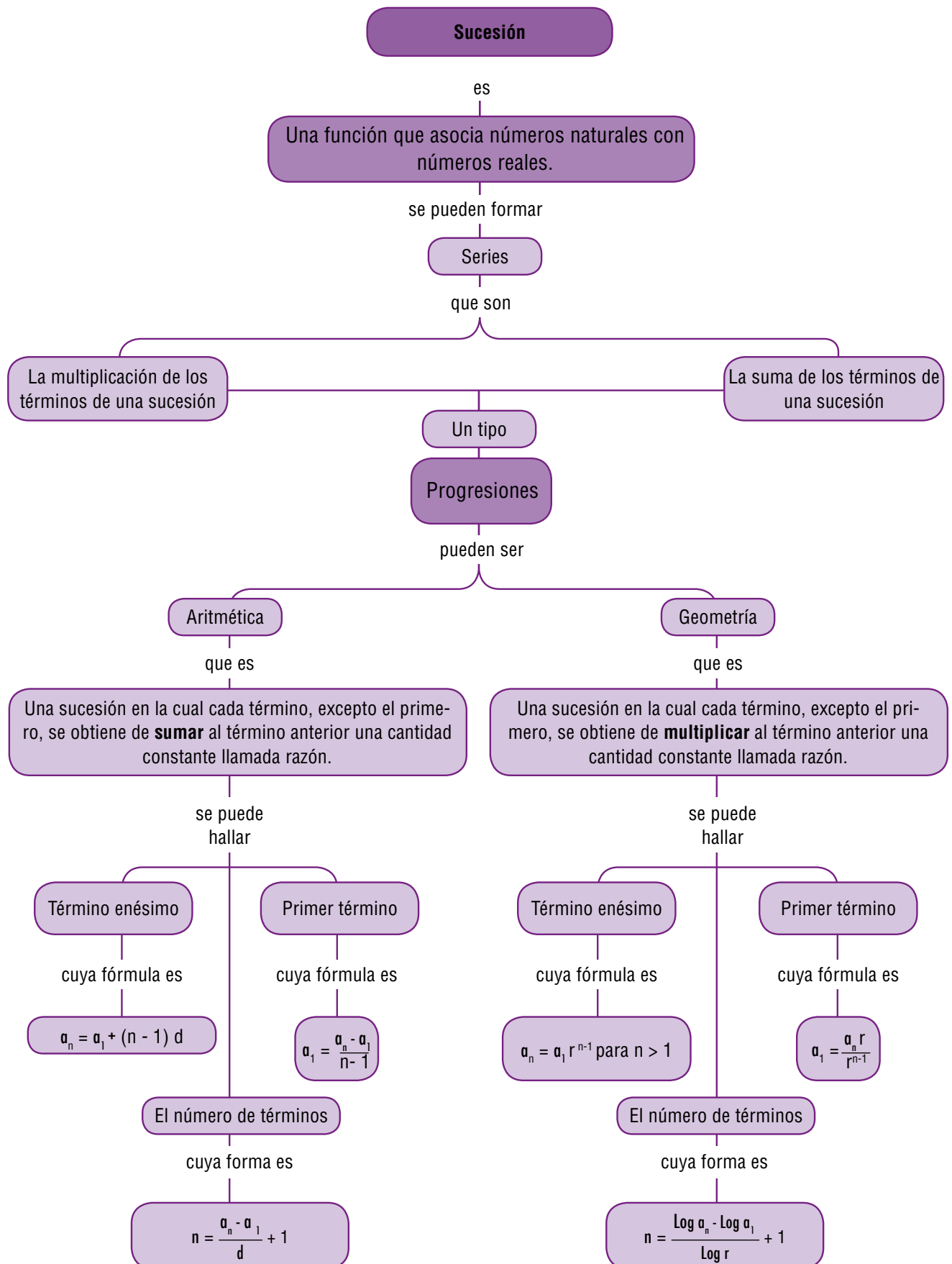
- Eso es imposible -dijo la niña mientras imaginaba todo lleno de conejos.
- La primera pareja comenzó a criar al segundo mes, y de cada camada me quedaba con otra pareja, que comenzaba a procrear a su vez a los dos meses de vida -repasaba mentalmente el sabio.

Mes	E	F	M	A	M	J	J	A	S	O	N	D
Parejas	1	1	2	3	5	8	13	21	34	55	89	144

La niña iba apuntando y de repente, lo vio claro.

El número de parejas es, cada mes, la suma de los dos meses anteriores.

1. Consulta la biografía de Fibonacci y averigua cuál es el uso que tiene la sucesión de Fibonacci en la naturaleza.
2. Responde de acuerdo a la lectura de los conejos mencionados en la lectura: ¿Cuántas parejas se tendría al cabo de catorce meses?
3. ¿Cuántas parejas se tendría al cabo de los dos años?



Tema 1. Sucesiones



Indagación

Nos gusta ordenar las cosas que tenemos amontonadas para manejarlas mejor. Desde niños nos gusta coleccionar objetos como juguetes, palitos, canicas, estampitas o caramelos, entre otros.

Muchos adultos hacen otras colecciones como discos, libros, monedas, entre otros. Generalmente, tanto niños como adultos se interesan por establecer un orden en sus colecciones.

Comenta con tus compañeros cuáles han sido tus colecciones favoritas, qué criterios has utilizado para ordenarlas y escucha las de ellos.



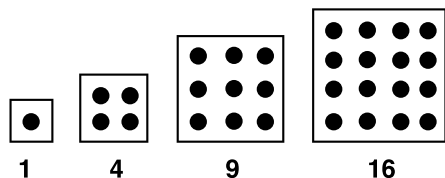
Conceptualización

Conocemos infinidad de ordenaciones. Así, por ejemplo, los días de la semana se suceden uno a uno: lunes, martes, miércoles... y semana tras semana pasan los meses, y los años.

Al conjunto ordenado de elementos que cumple una determinada ley la llamamos sucesión.

Nos interesamos por las sucesiones matemáticas, de las cuales conocemos muchas. La más importante en este campo es la de los números de contar: 1, 2, 3, 4,...

1. ¿Cuántos puntitos para cada recuadro?



Si observamos las construcciones hechas con puntos, hay igual número de filas que de columnas en cada caso, podrías dibujar el siguiente elemento de estos arreglos?

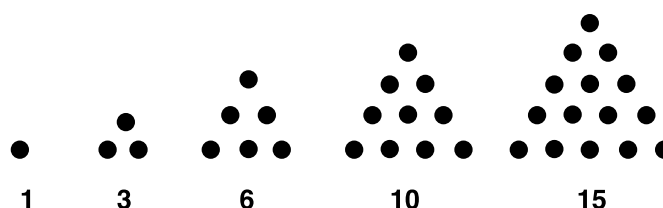
¿Cuántos puntos tendrá el siguiente cuadro?

¿y el siguiente del que has hecho? Dibuja y cuenta los puntos.

¿Cómo llamarías a los números que cuentan los puntos de cada arreglo de este ejercicio?

Copia en tu cuaderno las situaciones siguientes y estúdialas:

2. ¿Cuántos puntos forman cada arreglo?



Dibuja los dos arreglos que seguirían en esta construcción.

¿Cuántos puntos emplearás en el siguiente? y ¿Cuántos en el siguiente del siguiente?

¿Podemos predecir, cuántos puntos habrá en la novena posición de estas construcciones? ¿Por qué?

Observemos que cada término es mayor que el anterior, entonces se dice que es creciente.

1, 3, 6, 10, 15...

3. Veamos las siguientes cadenas de números:

a) $\frac{1}{2}, \frac{2}{3}, \frac{3}{4}, \frac{4}{5}, \frac{5}{6}, \dots$

Aquí debemos determinar cómo van cambiando los numeradores y cómo cambian los denominadores.

Busquemos los tres términos siguientes:

, y

b) Escribe los 5 siguientes términos de la cadena:

18, 24, 30. 36,...

, , , y

Describe para cada una, ¿Cómo crees que se construye cada uno de los números que la conforman?

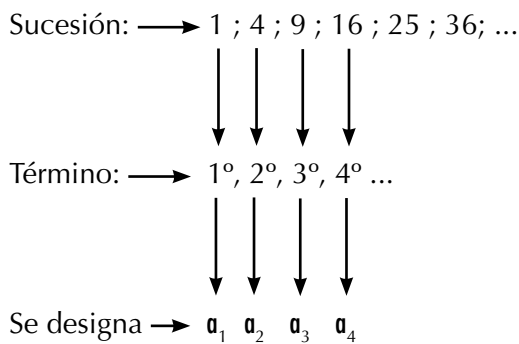
Compara tu trabajo con el de tus compañeros. Aclara las dudas que puedas tener.

Con tus compañeros lee y analiza las siguientes notas conceptuales:

Las sucesiones son cadenas de números ordenados, uno tras otro.
Cada elemento de la sucesión se llama término.

Es importante ponerle una etiqueta a cada término según el lugar que ocupe en la sucesión.

Así, por ejemplo, en la sucesión de los números cuadrados:



Esta designación de los términos de la sucesión se lee: a sub uno, a sub dos, a sub tres y corresponden a los términos que ocupan el lugar primero, segundo, tercero... hasta el último término que es llamado término general de la sucesión o **enésimo término (n-ésimo)** de la sucesión y se nota por a_n .

a_n → se llama término n-ésimo.

En las sucesiones, es importante buscar una expresión para el término n-ésimo o general.

Por ejemplo: la sucesión de números cuadrados: 1, 4, 9, 16, 25, 36,... se deduce buscando las características de cada término.

$$a_1 = 1^2 = 1$$

$$a_2 = 2^2 = 4$$

$$a_3 = 3^2 = 9$$

$$a_4 = 4^2 = 16$$

$$a_5 = 5^2 = 25$$

$$a_6 = 6^2 = 36$$

$$a_7 = 7^2 = 49$$

·
·
·

$$a_n = n^2 = \underbrace{n \cdot n \cdot n \cdot \dots \cdot n}_{n \text{ veces}}$$

n veces

¿Cuál será a_{25} de esta sucesión? ¿Cómo encuentras este término sin escribir la sucesión hasta él?



Aplicación

Copia en tu cuaderno cada ejercicio, trabájalos individualmente y después compara con algunos compañeros.

1. ¿Conoces la sucesión de los números primos? Escribe los primeros 10 números primos. ¿Crees poder escribir una expresión general para esta sucesión? Comparte tus hallazgos con tus demás compañeros.

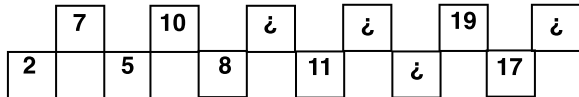
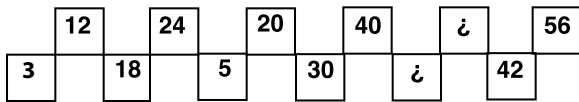
2. Escribe los tres términos siguientes de la sucesión:

$$5 ; 8 ; 11 ; 14 ; 17 \dots$$

¿Qué regularidad encuentras en la construcción de los términos de esta sucesión?

3. Escribe los seis primeros términos de la sucesión para la cual $a_n = \frac{1}{n^2}$

4. Encuentra los números que faltan:



Compara tu trabajo con el de tus compañeros. Si tienes dudas consulta con tu profesor(a).

5. Observa la forma como se han dispuesto los números enteros positivos en el siguiente arreglo. Luego, responde:

A	B	C	D	E	F	G
1		2		3		4
	7		6		5	
8		9		10		11

- Si se continúa el arreglo, ¿qué letra está asociada al número 30?
 - Si se continúa el arreglo ¿qué letra está asociada al número 50?
6. Escribe los cinco primeros términos de la sucesión que cumple que: el primer término es 5 y cada término se obtiene sumando 2 al anterior.
7. Encuentra los cinco primeros términos de la siguiente sucesión en la cual el primer término es 1, el segundo es 2 y los siguientes son la suma de los dos anteriores.

Determina los términos faltantes en cada sucesión:

8. $1, \frac{1}{2}, \frac{1}{3}, \square, \frac{1}{5}, \square, \frac{1}{7}, \frac{1}{8}, \square, \dots$

9. $\frac{1}{2}, \square, \frac{2}{4}, \frac{1}{5}, \square, \frac{1}{7}, \dots$

10. $1, -2, 3, -4, \square, -6, 7, \square, \dots$

Entendemos por...

Sucesión a la cadena de números ordenados, uno tras otro. A cada uno de estos números se llama término y al último término se le llama enésimo término de la sucesión.

Diversión matemática

Soluciona este acertijo:


Jorge dice: Tengo tantos hermanos como hermanas

La hermana de Jorge que

acaba de hablar dice:

Tengo dos veces más hermanos que hermanas.

¿Cuántos hermanos son?



Día a día

Las ramas y las hojas de las plantas se distribuyen buscando siempre recibir el máximo de luz para cada una de ellas. Por eso, ninguna hoja nace justo en la vertical de la anterior.

La distribución de las hojas alrededor del tallo de las plantas se produce siguiendo secuencias basadas exclusivamente en estos números.

El número de espirales en numerosas flores y frutos también se ajusta a parejas consecutivas de términos de esta sucesión: los girasoles tienen 55 espirales en un sentido y 89 en el otro, o bien 89 y 144.

Las margaritas presentan las semillas en forma de 21 y 34 espirales y cualquier variedad de piña presenta siempre un número de espirales que coincide con dos términos de la sucesión de los conejos de Fibonacci: 8 y 13 ó 5 y 8.

Parece que el mundo vegetal tenga programado en sus códigos genéticos del crecimiento los términos de la sucesión de Fibonacci.



Tema 2. Progresiones



Indagación

Unas sucesiones muy interesantes y sencillas son las llamadas progresiones aritméticas.

Encontramos muchas de ellas en la vida cotidiana. Por ejemplo, en las ciudades el valor de una carrera de taxi. Te subes a él y el banderazo inicial tiene un costo y, luego, por una cantidad fija de metros recorridos hay un valor fijo. Así que el valor total de la carrera depende de lo lejos que vayas.

Escribe en tu cuaderno otras sucesiones de la vida cotidiana.



Conceptualización Progresiones aritméticas

Analicemos las siguientes situaciones:

1. Don Ramón alquila bicicletas a los niños de su comunidad. El alquiler de la bicicleta por la primera hora vale \$2,000 y por cada hora adicional \$600. ¿Cuál es el valor del alquiler por 2, 3, 4,...,n horas?



Haz una tabla en tu cuaderno

Alquiler de bicicletas		
Número de horas	Valor	Total
1 ^a	2,000	2,000
2 ^a	2,000+600	2,600
3 ^a	2,000+(600 × 2)	3,200
...

Para alquilar la bicicleta por 4 horas, ¿Cuánto más hay que pagar por encima de los \$2,000 iniciales de la 1^a hora?

¿Cómo calcularías el costo del alquiler durante un número n de horas? Piensa en el costo de la primera hora más el incremento de \$600 por las (n – 1) horas adicionales. ¿Por qué restamos 1 a n?

2. En un edificio de muchos pisos, el primer piso tiene una altura de 5 metros, del segundo en adelante la altura por piso es de 3.5 m. ¿A qué altura están los pisos 2^o, 3^o, 4^o, 5^o, n-ésimo?

Escribe tus cálculos en términos de una sucesión

$$\begin{aligned}
 a_1 &= 5 && = 5 \\
 a_2 &= 5 + 3.5 && = 8.5 \\
 a_3 &= 5 + (3.5)(2) && = 12 \\
 a_4 &= 5 + (3.5)(3) && = 15.5 \\
 &\cdot \\
 &\cdot \\
 &\cdot \\
 a_n &=
 \end{aligned}$$

3. Juliana tiene para su mesada \$45,000, de la cual gasta \$3,000 diariamente. ¿Cuánto le queda a Juliana al final de cada día?

Elabora una tabla donde hagas la cuenta del dinero de Juliana diariamente.

Primer día	$a_1 = 45,000$
Segundo día	$a_2 = 45,000 - 3,000 = 42,000$
Tercer día	$a_3 = 45,000 - 3,000 = 42,000$
	.
	.
	.
Enésimo día	$a_n =$

Así: $a_2 = a_1 + d$; $a_3 = a_2 + d$; $a_n = a_{n-1} + d$ y en general, se tiene que: $a_n - a_{n-1} = d$

En algunos casos esta diferencia es positiva, en otros casos es negativa, pero siempre es la misma diferencia.

Sobre una progresión aritmética se puede conocer todo si sabemos el primer término a y la diferencia d .

La expresión $a_n = a_1 + (n - 1)d$ corresponde al término n -ésimo de toda sucesión aritmética.

Esta expresión permite conocer todo lo que queramos de una progresión aritmética.

Analiza las sucesiones que construiste en los problemas anteriores.

Calcula cuál es la diferencia entre dos términos consecutivos.

$$a_2 - a_1 \qquad a_3 - a_2 \qquad a_4 - a_3$$

¿Qué puedes concluir?

En el caso de la altura de los pisos del edificio:

$$a_2 - a_1 \qquad a_3 - a_2 \qquad a_4 - a_3$$

¿Sucede lo mismo para cualquier par de términos consecutivos?

En el problema de los gastos de Juliana:

$$a_2 - a_1 \qquad a_3 - a_2 \qquad a_4 - a_3$$

b) ¿Cómo explicarías la construcción de estas sucesiones?

¿Tienes una estrategia general para la construcción de términos sucesivos de estas sucesiones?

Se llama progresión aritmética a sucesiones como las que originaron los problemas que resolviste en la sesión anterior.

En ellos la sucesión, $a_1, a_2, a_3, \dots, a_n$ se obtuvo sumando a cada término una cantidad fija d llamada diferencia.

Veamos algunos problemas:

- Si a_1 de una cierta progresión es 6 y la diferencia es 1.5, escribe los 10 primeros términos de la sucesión.

$$a_1 = 6 \qquad d = 1.5$$

$$a_2 = a_1 + (2 - 1)d = 6 + 1.5 = 7.5$$

$$a_3 = a_1 + (3 - 1)d = 6 + 2(1.5) = 9$$

$$a_4 = a_1 + (4 - 1)d = 6 + 3(1.5) = 10.5$$

Comprueba que esta sucesión es:

6, 7.5, 9, 10.5, 12, 13.5, 15, 16.5, 18,...

En esta sucesión $a_n = 6 + (n - 1)(1.5)$

¿Cuál es el término a_{20} de esta progresión aritmética?

$$a_n = 6 + (n - 1)d$$

$$a_{20} = 6 + (20 - 1)(1.5)$$

$$a_{20} = 6 + 19(1.5)$$

$$a_{20} = 6 + 28.5$$

$$a_{20} = 34.5$$

- Paula quiere ahorrar semana a semana, cada vez un poco más esta semana ahorra \$2,000, la próxima \$2,200, en la subsiguiente \$2,400 y así sucesivamente. Acaba de echar en su alcancía \$4,200 de esta semana pero ha olvidado cuántas semanas lleva ahorrando.

¿Cómo saber el número de semanas en que ha ahorrado?

$$a_1 = 2,000 \quad d = 200 \quad a_n = 4,200$$

$$a_n = a_1 + (n-1)d$$

$$4,200 = 2,000 + (n-1)200$$

Entonces se puede saber cuánto es $n - 1$.

Suma de los términos de una progresión aritmética

Situación 1

Carl Gauss, un gran personaje, llamado “el príncipe de las matemáticas”, fue matemático, astrónomo y físico alemán, quien vivió entre los siglos XVIII y XIX.

Cuenta la historia que desde muy pequeño y motivado por fuertes castigos de sus profesores, logró diseñar modelos aritméticos novedosos.

Uno de esos castigos consistía en sumar números consecutivos del 1 al 100. Era un duro castigo y fácil de equivocarse. Pero Gauss a la edad de 10 años, los resolvió en un tiempo sorprendente. Así:

$$1 + 100 = 101$$

$$2 + 99 = 101$$

$$3 + 98 = 101, \quad \text{etc., Siempre sumaba 101 y hay 50 sumas, en total}$$

$$50 \times 101 = 5,050$$

Situación 2

Recuerda el ejercicio anterior, donde Paula ahorra semanalmente \$200 más que la semana anterior. Comenzó con \$2,000 en la primera semana. ¿Cuánto habrá ahorrado en las primeras seis semanas?

Paula ha ahorrado en 6 semanas:

$$a_1 + a_2 + a_3 + a_4 + a_5 + a_6$$

$$2,000 + 2,200 + 2,400 + 2,600 + 2,800 + 3,000$$

Esta suma no es muy larga. ¿Pero existirá una forma de hacerla más fácilmente?

Aplicando la siguiente fórmula para la suma de los términos de una progresión aritmética:

$$S = \frac{(a_1 + a_n)n}{2}$$

Esta expresión nos permite calcular fácilmente la suma total de una progresión aritmética.

¿Cuánto ahorró Paula en 12 semanas?

$$S = \frac{(a_1 + a_n)n}{2}$$

$$S = \frac{(2,000 + 4,200)12}{2}$$

$$S = \frac{6,200}{2} \times 12$$

$$S = 37,200$$

Si quieres comprobarlo escribe la progresión y haz la suma.



Aplicación

Con tus compañeros, de equipo, resuelve:

- De las siguientes sucesiones, ¿Cuáles son progresiones aritméticas? Explica por qué si o por qué no, en cada caso.
 - 3 ; 8 ; 13 ; 18 ...
 - 1; 3; 6; 10; 15;...
 - 20 ; -18 ; -16 ; -14 ; ...
- ¿Cuál es el término 25 de la progresión aritmética cuyos tres primeros términos son: 3 ; 4.5; 6;...
- Hallar el término 12, si el primer término es 33, y la diferencia es 2.
- Hallar el primer término de una progresión aritmética, si el término 32 es -8 y la diferencia es 3.
- Si un teatro tiene 12 asientos en la primera fila, 16 en la segunda, 20 en la tercera, y así sucesivamente hasta completar 20 filas.
Hallar la cantidad de asientos que hay en la última fila.
- Un granjero decide formar su recolecta de piñas en triángulo, de tal manera que la primera fila tenga una piña, la segunda 2 piñas, la tercera 3 y así sucesivamente. Si hay 1,225 piñas, ¿Cuántas filas se pueden formar?
¿Cuántas piñas hay en la última fila?
Compara tus resultados con los obtenidos por tus compañeros.
Con tus compañeros de grupo, analiza más hechos sobre las progresiones aritméticas.

7. La tabla de multiplicar de 7 puede escribirse como la progresión aritmética:

7; 14; 21;... 70

¿Cuánto suma esta progresión?

8. Encuentra la suma de los primeros 20 términos de las siguientes progresiones aritméticas

a) 1, 2, 3, 4,...

b) 100, 95, 90, 85,...

Discute tus resultados con tus compañeros y el profesor.

9. Venta de ganado


Un ganadero vendió 32 terneros en la feria de ganadería.

El primer ternero lo vendió en \$100,000 y a cada uno de los demás le fue subiendo \$20,000 más que al anterior.

¿Cuánto recolectó el ganadero en toda su venta?

10. En un almacén de cadena desean exhibir cajas de cereal formando una pirámide, de manera que la hilera inferior tenga 15 cajas; la siguiente 14; la siguiente 13, y así sucesivamente, con una sola caja en la cúspide.

¿Cuántas cajas de cereal se necesitan para formar la pirámide?



Entendemos por...

Progresión aritmética: sucesión de números reales en la que cada número, excepto el primero, se obtiene del anterior sumándole una cantidad constante.

Serie: es la suma de los términos de una sucesión.






Diversión matemática

Diviértete buscando respuestas

1. Si letras iguales representan dígitos iguales, averigua el valor de D, O, S, C, H.

$$\begin{array}{r}
 \text{DOS} \\
 \text{DOS} \\
 \text{DOS} \\
 \hline
 + \text{DOS} \\
 \hline
 \text{OCHO}
 \end{array}$$

2. Completa el cuadrado con las figuras dadas, de modo que no se repitan en la misma fila, en la misma columna o en la misma diagonal.

Día a día

El número áureo no solo lo podemos encontrar en la naturaleza o en las antiguas construcciones y representaciones artísticas, diariamente manejamos objetos en los cuales se ha tenido en cuenta las proporciones áureas para su elaboración.

Por ejemplo, la mayoría de las tarjetas de crédito así como nuestro carné tienen la proporción de un rectángulo áureo.

También lo podemos encontrar en las cajetillas de tabaco, construcción de muebles, marcos para ventanas, camas, entre otros.



Progresiones geométricas

En las sucesiones numéricas es muy interesante comparar sus términos, analizar su crecimiento, encontrar si existen o no regularidades entre ellos, hacer predicciones sobre cómo encontrar nuevos términos, encontrar expresiones generales para ellos, cuando esto es posible...

Con tu grupo de trabajo realiza.

1. Observa y analiza la siguiente sucesión:

2, 4, 8, 16, 32,...

¿Es ésta una progresión aritmética? ¿Existe la misma diferencia entre dos términos sucesivos cualesquiera?

¿Qué puedes concluir?

2. Analiza esta otra sucesión

32, 16, 8, 4, 2,...

¿Es ésta una progresión aritmética? Encuentra las razones.

$$\frac{a_2}{a_3}; \frac{a_3}{a_4}; \frac{a_4}{a_5}; \text{ ¿Qué observas?}$$

¿Cómo obtienes un término de esta sucesión partiendo del anterior?

3. ¿Qué podrías decir de la siguiente sucesión?

1, 5, 25, 125, 625,...

¿Podrías escribir los dos siguientes términos de ella? Compara tu trabajo con el de otros compañeros.

Con tus compañeros, lee y analiza el siguiente texto.

Cuando en una sucesión $a_1 ; a_2 ; a_3 ; a_n$ cada término se obtiene multiplicando el anterior por un número fijo, decimos que se tiene una progresión geométrica.

Por ejemplo:

$$2, 4, 8, 16, 32, \dots$$

Es una progresión geométrica porque cada término se obtiene multiplicando el anterior por 2.

$$4 = 2 \times 2; \quad 8 = 4 \times 2; \quad 16 = 8 \times 2; \quad 32 = 16 \times 2$$

El número fijo por el cual se multiplica un término para obtener el siguiente se llama razón r de la progresión.

$$\text{Así: } a_2 = a_1 r ; a_3 = a_2 r$$

¿Cómo averiguar si una sucesión es una progresión geométrica?

¡Es muy sencillo!, se comprueba si el cociente entre dos términos consecutivos es constante:

$$\text{Por ejemplo: } \frac{a_2}{a_3}$$

¿Cómo expresar un término general de una progresión geométrica?

Se expresa mediante la fórmula $a_n = a_1 r^{n-1}$

Ejemplo:

En la progresión: 2, 4, 8, 16, ... cuál es el término a_6 ?, ¿Cuál es el término a_{10} ?

Encontremos

$$r = \frac{a_2}{a_1} = \frac{4}{2} = 2$$

Busquemos

$$a_6 = a_1 r^{n-1} = 2 \left(2^{(6-1)} \right) = 2 \left(2^5 \right) = 2 \left(32 \right) = 64$$

Busquemos

$$a_{10} = a_1 r^{n-1} = 2 \left(2^{(10-1)} \right) = 2 \left(2^9 \right) = 2 \left(512 \right) = 1,024$$

Suma de los términos de una progresión geométrica

Alberto compró 20 vacas. Por la primera pagó 1 millón, por la segunda pagó 2 millones, por la tercera 4 millones, por la cuarta 8 millones y así sucesivamente.

Determina cuánto pagó Alberto en total.

En las progresiones geométricas también resulta interesante y práctico encontrar una expresión general que permita sumar sus términos.

¿Cómo calcular

$$S = a_1 + a_2 + a_3 + a_4 + a_5 \dots + a_n$$

cuando la sucesión es una progresión geométrica?

En una progresión geométrica la suma de sus n primeros términos es:

$$S = \frac{a_1(r^n - 1)}{r - 1} \quad r \neq 1$$

Ejemplo

Al ejercitar un músculo, éste aumenta 3 milímetros el primer día.

Además, el incremento de cada día es igual a 0.95 del incremento del día anterior.

¿Cuál será el incremento total al final del día 18?

Solución

Evidentemente, $r = 0.95$, de modo que el término general es: $a \cdot 0.95^{n-1}$.

Para obtener a sustituimos $n = 1$ en el primer término: $a \cdot 0.95^{1-1} = 3 \longrightarrow a = 3$.

Por tanto, el término general es: $3 \times 0.95^{n-1}$.

Para obtener el crecimiento total al final del día 18, sustituimos $a = 3$, $r = 0.95$ y $n = 18$ en la fórmula:

$$S = \frac{a_1(r^n - 1)}{r - 1} \quad r \neq 1$$

$$\frac{3(0.95^{18} - 1)}{0.95 - 1} = 36.17 \text{ mm}$$

El incremento total del músculo al final del día 18 será: 36.17 mm.





Aplicación

Con tus compañeros de grupo resuelve:

1. Escribe los cinco primeros términos de las progresiones geométricas crespón- dientes si:

a) $a_1 = 3$ y $r = 4$

b) $a_1 = 1$ y $r = \frac{1}{2}$

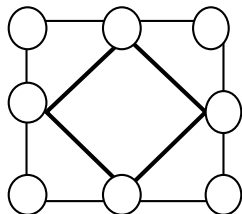
- Encuentra la suma de los nueve primeros términos de la progresión geométrica: 5, 10, 20. ...
- La suma de los siete primeros términos de una progresión geométrica de razón 3 es 7651. Halla los términos primero y el séptimo.
- Un auto recorre 20 m en un minuto; 10 m al siguiente minuto; 5 m al siguiente y así sucesivamente. ¿Cuánta distancia habrá recorrido al finalizar 11 minutos?
- Una persona tiene 2 padres (1a. generación atrás), 4 abuelos (2a. generación atrás), 8 bisabuelos y así sucesivamente. ¿Cuántos ancestros tendrían 13 generaciones atrás?

Entendemos por...

Progresión geométrica: sucesión de números reales en la que cada número, excepto el primero, se obtiene del anterior multiplicándolo una cantidad constante.

Diversión matemática

Distribuye los dígitos del 1 al 8, uno en cada círculo, de tal manera que la diferencia entre los dígitos ubicados en cada par de círculos vecinos sea siempre mayor o igual que 2.



Día a día

Relaciones en la forma de la Gran Pirámide de Gizeh.

La afirmación de Heródoto

de que el cuadrado de la altura es

igual a la superficie de una cara es posible

únicamente si la semisección meridiana de la

pirámide es proporcional al triángulo rectángulo

$$\left(1, \sqrt{\frac{\sqrt{5}+1}{2}}, \frac{\sqrt{5}+1}{2}\right)$$

donde 1 representa proporcionalmente a la mitad de la base, la raíz cuadrada del número áureo a la altura hasta el vértice (inexistente en la actualidad) y el número áureo o hipotenusa del triángulo a la apotema de la Gran Pirámide.

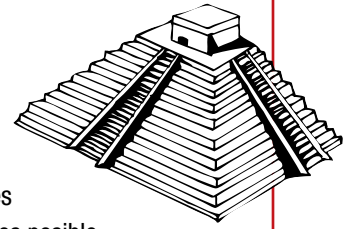
Esta tesis ha sido defendida por los matemáticos Jarolimek, K. Kleppisch y W. A. Price, se apoya en la interpretación de un pasaje de Heródoto (Historiae, libro II, cap. 124) y resulta teóricamente con sentido, aunque una construcción de semejante tamaño deba contener errores inevitables a toda obra arquitectónica y a la misma naturaleza de la tecnología humana, que en la práctica puede manejar únicamente números racionales.

Los demás investigadores famosos se inclinan por la hipótesis de que los constructores intentaron una cuadratura del círculo, pues la raíz cuadrada del número áureo se aproxima mucho al cociente de 4 sobre π .

Pero una construcción tal, aunque se conociera π con una aproximación grande, carecería completamente de interés geométrico. No obstante, con base en mediciones no es posible elegir entre una u otra pues la diferencia sobre el monumento real no es mayor a 14,2 cm y esta pequeña variación queda enmascarada por las incertidumbres de las medidas, los errores constructivos y, principalmente, porque la pirámide perdió el revestimiento en manos de los primeros constructores de El Cairo.

Para que esto quede más claro, una precisión del 1 por mil en una base de 230 metros equivale a 23 centímetros y en la altura está en el orden de la diferencia real que debería existir entre ambas posibilidades.

Tomado de: http://es.wikipedia.org/wiki/N%C3%BAmero_%C3%A1ureo





Este capítulo fue clave porque

- Me enseñó la importancia de las sucesiones y su inmersión en la naturaleza.
- Aprecie mi entorno de otra forma, al contemplar las sucesiones en las plantas, el ser humano, las frutas, entre otros.
- Aprendí a obtener el valor total a pagar por un préstamo, sus intereses, entre otros.
- Me enseñó la depreciación que tienen los activos, por su uso y el tiempo.


Conectémonos con la Biología



El número áureo (ϕ) en el ser humano

La anatomía de los seres humanos se basa en una relación ϕ estadística y aproximada, así vemos que:

- La relación entre la altura de un ser humano y la altura de su ombligo.
- La relación entre la distancia del hombro a los dedos y la distancia del codo a los dedos.
- La relación entre la altura de la cadera y la altura de la rodilla.
- La relación entre el primer hueso de los dedos (metacarpiano) y la primera falange, o entre la primera y la segunda, o entre la segunda y la tercera, si dividimos todo es ϕ .
- La relación entre el diámetro de la boca y el de la nariz.
- Es ϕ la relación entre el diámetro externo de los ojos y la línea interpupilar.
- Cuando la tráquea se divide en sus bronquios, si se mide el diámetro de los bronquios por el de la tráquea se obtiene ϕ , o el de la aorta con sus dos ramas terminales (ilíacas primitivas).



Tomado de: http://es.wikipedia.org/wiki/N%C3%BAmero_%C3%A1ureo

Repasemos lo visto



La lectura expuesta al comienzo de la unidad, nos hace reflexionar sobre la importancia de una vida sana y natural y de la inmensa utilidad de las matemáticas en la vida de todas las personas.

Necesitamos las matemáticas para poder plantar, para saber cuántos días han transcurrido para estar preparados para la recolecta, para saber cuántos mililitros de pesticida necesito por hectárea para combatir los bichos.

Existen aspectos en la naturaleza que pueden ser representados mediante la matemática. Al tener esta apreciación, nos permite tener una visión más hermosa y valorativa de todo lo que nos rodea, de su importancia y de su perfección, como en las plantas la distribución de las hojas alrededor del tallo se produce siguiendo secuencias basadas exclusivamente en los números de Fibonacci.

Parece que el mundo vegetal tenga programado en sus códigos genéticos del crecimiento los términos de la sucesión de Fibonacci.

No olvidemos que:

Una ecuación es una igualdad que tiene una o más cantidades desconocidas, llamadas incógnitas.

La solución de una ecuación es el valor numérico por el cual se puede remplazar la incógnita para que la igualdad sea verdadera.

Recuerda que los pasos que deben seguirse para resolver una ecuación con paréntesis son:

1. Suprimir los paréntesis mediante la multiplicación.
2. Agrupar términos semejantes.
3. Reducir términos semejantes.
4. Despejar la incógnita.
5. Comprobar el resultado.



Un despeje no es otra cosa que “cambiar” variables de un miembro de una ecuación a otro, aplicando las propiedades de la igualdad.

La potencia es el número de veces que se multiplica una cantidad por sí misma.

El exponente es el número o símbolo escrito como superíndice después de una expresión para indicar la potencia a la cual está elevada ésta.

Recuerda la amistad tan estrecha que existe entre la potenciación y la radicación.

Tener una potencia con exponente negativo en el denominador equivale a tenerla con exponente positivo en el numerador.

Existen ejercicios donde debemos racionalizar, recuerda que ésta consiste en encontrar una fracción equivalente para eliminar una expresión radical del denominador de una fracción.

Mundo rural

Equipo para granja

La depreciación es un costo fijo (no efectivo) que representa una estimación de la pérdida de valor de un activo durante un período específico, generalmente un año. El activo provee un servicio y la depreciación es un costo que refleja el desgaste del capital invertido en él. El costo de depreciación permite crear un fondo donde se acumula un valor que permitirá reemplazar el activo cuando llega al final de su vida útil.

Existen varias maneras para calcular la depreciación. Para nosotros sería suficiente considerar el método más sencillo, denominado depreciación lineal.

Por ejemplo, un tractor que se compra nuevo en \$10,000, con una vida útil estimada en 8 años y valor residual (precio de venta al cumplir los 8 años) de \$ 2,000 tendría una depreciación de \$ 1,000 por año.

El detalle para éste cálculo es el siguiente:

Donde:

D_a = Depreciación anual.

V_n = Valor nuevo.

V_r = Valor residual.

A = Años útiles.

Consecuentemente:

$$D_a = \frac{V_n - V_r}{A}$$

$$D_a = \frac{10,000 - 2,000}{8}$$

$$D_a = \frac{(10,000 - 2,000)}{8}$$

$$D_a = \$ 1,000 \text{ por año}$$



Tomado de: <http://www.fao.org/docrep/w7452s/w7452s04.htm>

Dato curioso



Historia del ajedrez (anécdota)

¿Por qué deleitó tanto a un rey la invención de un juego llamado «muerte al rey»? es un misterio, pero, según la historia, se sintió tan complacido que pidió al gran visir que determinara su recompensa por tan maravillosa invención.

Éste ya tenía la respuesta preparada; era un hombre modesto, explicó al Shah, y sólo deseaba una modesta gratificación.

Señalando las ocho columnas y las ocho filas de escaques del tablero que había inventado, solicitó que le entregase un solo grano de trigo por el primer escaque, dos por el segundo, el doble de eso por el tercero y así sucesivamente hasta que cada escaque recibiese su porción de trigo. No, replicó el rey, era un premio harto mezquino para una invención tan importante.

Le ofreció joyas, bailarinas, palacios. Pero el gran visir, bajando la mirada, lo rechazó todo. Sólo le interesaban aquellos montoncitos de trigo. Así que, maravillado en secreto ante la humildad y la moderación de su consejero, el rey accedió.

Sin embargo, cuando el senescal empezó a contar los granos, el monarca se encontró con una desagradable sorpresa. Al principio el número de granos de trigo era bastante pequeño: 1, 2, 4, 8, 16, 32, 64, 128, 256, 512, 1,024..., pero en las cercanías del escaque sexagésimo cuarto las cifras se tornaban colosales, amedrentadoras. De hecho, el número final rondaba los 18,5 trillones de granos. Tal vez el gran visir se había sometido a una dieta rica en fibra.

De hecho, es el equivalente de la producción actual de trigo en todo el mundo multiplicada por 150. No nos ha llegado el relato de lo que pasó inmediatamente después. Ignoramos si el rey, maldiciéndose a sí mismo por haber desatendido el estudio de la aritmética, entregó el reino al visir o si éste experimentó las tribulaciones de un nuevo juego.

Tomado de: [http://www.taringa.net/comunidades/mitosyleyendas/365563/Historia-del-Ajedrez-\(An%C3%A9cdota\).html](http://www.taringa.net/comunidades/mitosyleyendas/365563/Historia-del-Ajedrez-(An%C3%A9cdota).html)

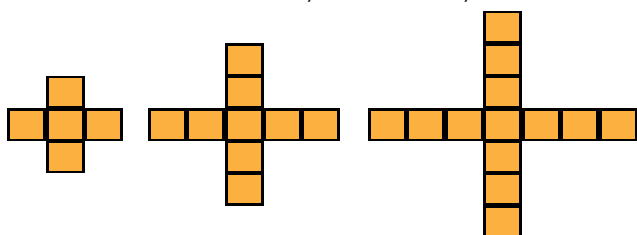
¿En qué vamos?



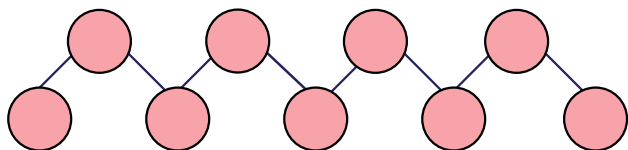
Reflexiono y trabajo con mis compañeros

Resuelve cada ejercicio en tu cuaderno y revisa tus repuestas con algunos compañeros.

1. Un hombre deja estipulado en su testamento que la mitad de su finca sea para su hijo mayor, la mitad de lo que queda para el segundo, $\frac{2}{3}$ de la zona restante para el tercero y las cinco hectáreas sobrantes las dona a una entidad de beneficencia. ¿Cuántas hectáreas le correspondió a cada hijo?
2. Observa la figura, halla el patrón y determina cuántos cuadrados hay en la sexta y décima cruz.



3. Distribuye los dígitos positivos, uno en cada círculo de tal manera que el dígito ubicado en cada círculo de arriba sea igual a la suma de los dígitos ubicados en los dos círculos que están conectados con él.



4. Observa cuidadosamente las siguientes expresiones.

$$1 + 1 + 2 + 3 + 5 + 8 = 20$$

$$2 + 5 + 7 + 12 + 19 + 31 = 76$$

$$3 + 7 + 10 + 17 + 27 + 44 = 108$$

Ellas siguen el mismo patrón.

El resultado es el cuádruplo de uno de los términos de la derecha.

De qué término estamos hablando y cuál es el patrón que siguen las expresiones de la izquierda.

5. Juan tiene que ver 42 asignaturas para aprobar su carrera, si en 4 semestres aprobó la mitad y en el siguiente semestre se propone aprobar $\frac{1}{3}$ de las materias restantes, ¿Cuántas asignaturas le faltan por aprobar?
6. Carlos tiene que ver un cierto número de asignaturas, para aprobar su carrera, si en 5 semestres aprobó la mitad, y en el sexto semestre se propone aprobar $\frac{1}{3}$ de las asignaturas restantes, le quedarían por ver 12 asignaturas. ¿Cuántas asignaturas tiene la carrera?


Responde las preguntas 7 y 8 de acuerdo al siguiente gráfico que muestra un punto de partida P y un vehículo que está a una distancia d del punto P.



La distancia "d" en metros entre el móvil y el punto viene dada por la expresión: $d(t) = 5 + 3t$, t está dado en minutos.

7. Transcurridos 15 minutos, el móvil se halla a: _____ metros del punto P.
8. Si el móvil se encuentra a 80 m. del punto P, es posible afirmar que han transcurrido _____ minutos.
9. Un automóvil que recorre 75 Km. en una hora, tarda 8 horas en ir desde la ciudad A, hasta la ciudad B.
¿Cuánto tardará un automóvil que recorre 60 Km en una hora, en hacer el mismo recorrido?

10. Recordemos que la suma de los ángulos internos de cualquier triángulo es igual a 180° .
Utiliza esa información para calcular el valor de cada ángulo del triángulo siguiente.



Heteroevaluación “le cuento a mi profesor”

Con tu profesor, resuelve la siguiente rejilla.

Lee el enunciado y señala con una x la categoría correspondiente, según lo que has aprendido:

Qué sé hacer	Superior	Alto	Básico	Bajo
Clasifico cualquier número como \mathbb{N} , \mathbb{Z} , \mathbb{Q} , \mathbb{I} , \mathbb{R} .				
Establezco relaciones de orden entre dos o más números al escribirlos en la recta numérica.				
Resuelvo ecuaciones e inecuaciones.				
Grafico en la recta numérica la solución de una inecuación.				
Resuelvo problemas y ejercicios con potencias enteras y reales.				
Reconozco la radicación como una de las operaciones inversas de la potenciación.				
Racionalizo, opero y resuelvo ejercicios.				
Calculo potencias de números reales utilizando algunas de las propiedades de la potenciación.				
Resuelvo y propongo problemas que involucren las operaciones con números reales en diversos contextos.				
Utilizo las sucesiones para interpretar información dada.				
Observo, analizo y aprecio las sucesiones en mi entorno.				

Autoevaluación

Participo y aprendo	Superior	Alto	Básico	Bajo
Participo de manera activa en clase, formulando o respondiendo preguntas.				
Aplaudo las actitudes creativas que inviten a buscar nuevas soluciones a situaciones problemáticas.				
Participo activamente en los grupos de trabajo.				
Comparto mis saberes y dudas con mis compañeros.				
Fomento la disciplina dentro del grupo.				
Permito la libre discusión.				
Propongo problemas o actividades para resolver en clase.				
Repaso en casa lo suficiente, sobre lo aprendido en el colegio.				

Geometría

Resolvamos

Te has preguntado: ¿Qué importancia tiene la geometría en nuestra vida?


Sabemos que la geometría surgió desde muy temprano en la historia de la humanidad. Es así como hace unos 6,000 años, los egipcios se vieron obligados a usarla para medir extensiones de tierra sobre Valle del Nilo y determinar los límites de sus propiedades. Ellos conocían muchas relaciones geométricas prácticas con las cuales desarrollaron métodos de medición que aún se emplean. Un ejemplo práctico de su desarrollo geométrico lo constituyen sus pirámides.

En papiros egipcios de épocas antiquísimas se han encontrado fórmulas geométricas, entre las cuales hay algunas muy exactas y otras tan sólo aproximadas. Sin embargo, fueron los antiguos griegos quienes sintetizaron los conocimientos geométricos de la época, ellos presentaron la geometría en

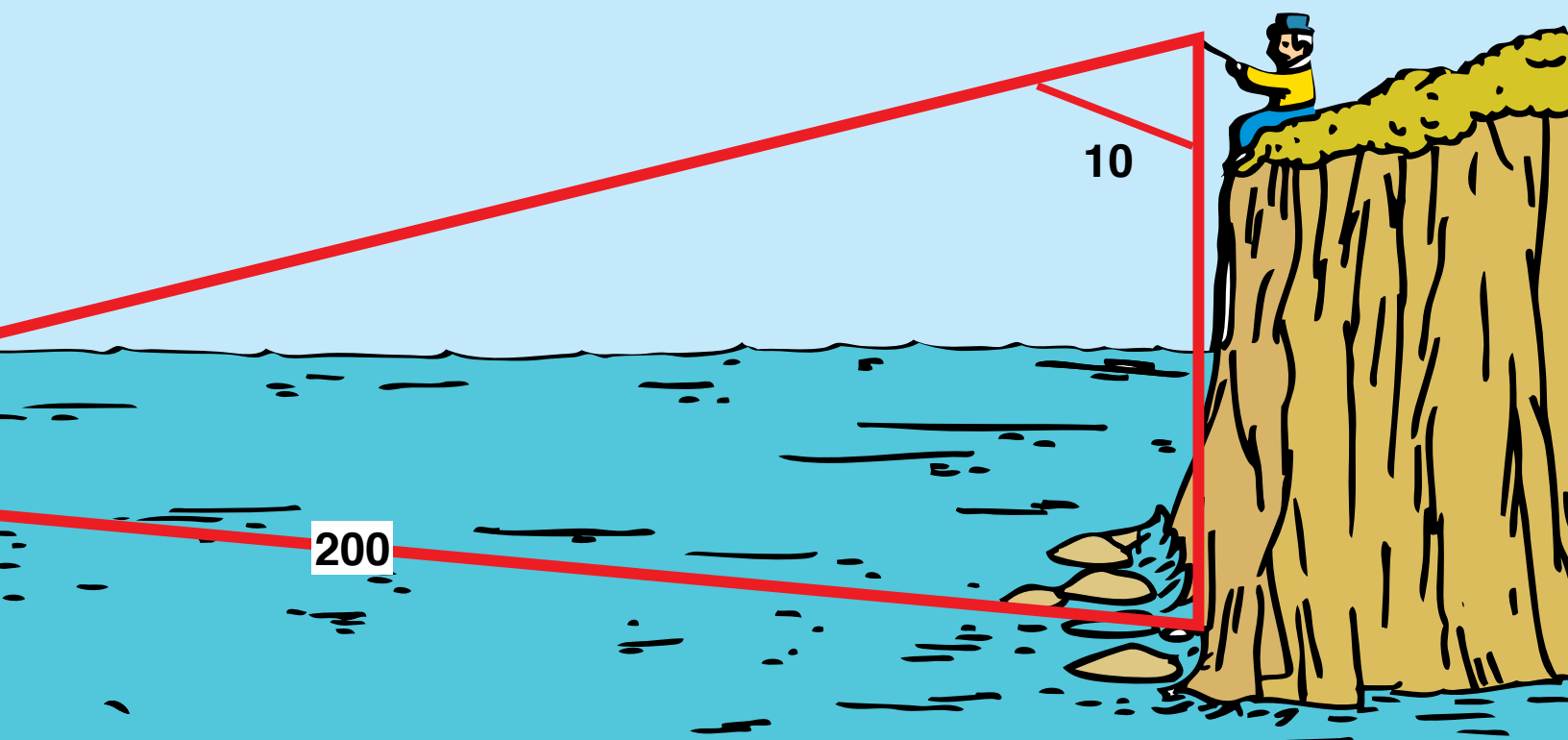
forma deductiva, basada en demostraciones coherentes más que en aplicaciones prácticas.

Uno de los geómetras griegos más importantes fue Tales de Mileto, fundador de la escuela jónica, quien vivió aproximadamente en el Siglo VII a.C., considerado como uno de los “siete sabios”. Durante gran parte de su vida se dedicó al estudio de la filosofía y de las ciencias, especialmente, de la geometría.

Sus estudios lo condujeron a resolver ciertas cuestiones como la determinación de distancias inaccesibles, la igualdad de los ángulos de la base en el triángulo isósceles, el valor de un ángulo inscrito en una circunferencia y la demostración del conocido teorema que lleva su nombre, el cual se refiere a la proporcionalidad de segmentos determinados en dos rectas cortadas por un sistema de paralelas.



Referentes de calidad	Capítulos
Conjeturo y verifico las propiedades de congruencias y semejanzas entre figuras bidimensionales y entre objetos tridimensionales en la solución de problemas.	1. Razones geométricas y trigonométricas 2. Cuerpos geométricos
Reconozco y contrasto propiedades y relaciones geométricas utilizadas en demostración de teoremas básicos (Pitágoras y Tales).	
Aplico y justifico criterios de congruencia y semejanza entre triángulos en la resolución y formulación de problemas.	
Uso representaciones geométricas para resolver y formular problemas en las matemáticas y en las otras disciplinas.	
Resuelvo problemas y simplifico cálculos usando propiedades y relaciones de los números reales y de las relaciones y operaciones entre ellos.	
Justifico la pertinencia de utilizar unidades de medida estandarizadas en situaciones tomadas de distintas ciencias.	
Selecciono y uso técnicas e instrumentos para medir longitudes, áreas de superficie, volúmenes y ángulos con nivel de precisión apropiados.	



Razones geométricas y trigonométricas

Hemos estudiado que un polígono puede dibujarse a escala más grande, más pequeño o de igual tamaño y se conserva su forma, es decir dibujamos polígonos semejantes cuando sus ángulos son congruentes y sus lados son proporcionales. Las razones se establecen entre los lados de los polígonos.

Cuando los polígonos son triángulos rectángulos, establecemos unas relaciones entre sus catetos y su hipotenusa, entrando así en el campo de la trigonometría.

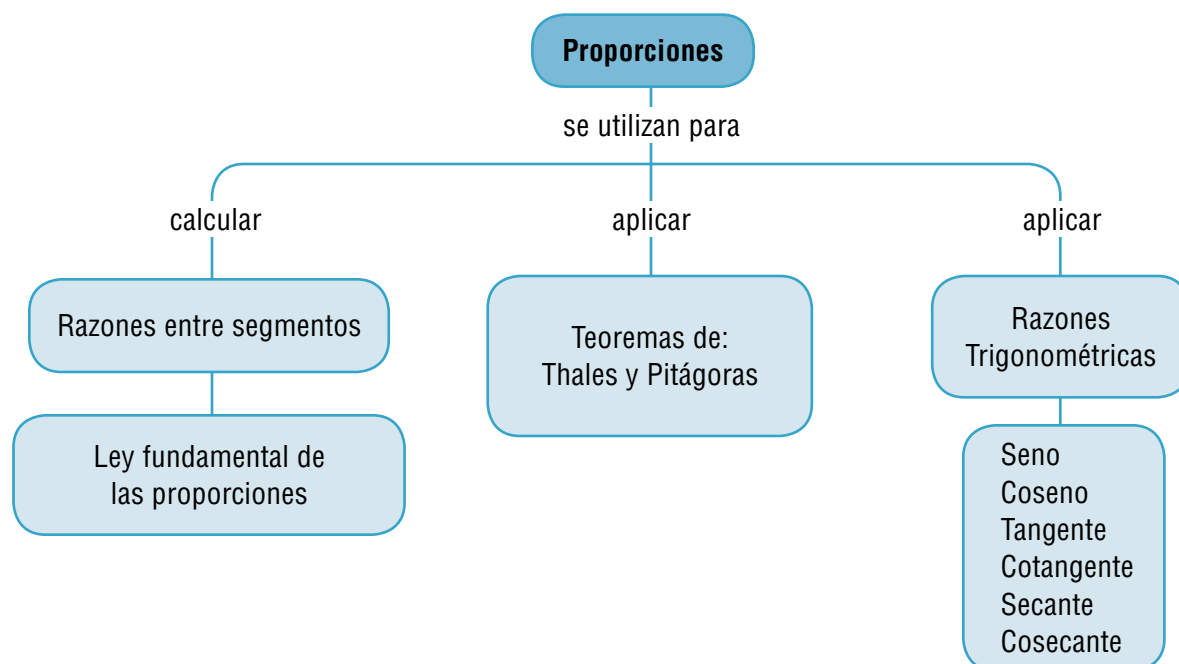
La palabra trigonometría se deriva del griego trigonon (triángulo) y metron (medición). Es una rama de las matemáticas que estudia las relaciones entre los elementos de los triángulos, proporcionando un método para calcular sus medidas. La trigonometría nació en el siglo II a.C. Fueron sus fuentes los intentos de hacer mediciones de

las observaciones astronómicas, la navegación, la agrimensura y la cartografía.

Posteriormente, el estudio de fenómenos periódicos como el movimiento de las olas del mar, los latidos del corazón, el movimiento de la cuerda de una guitarra, entre otros, fueron los que permitieron modelar expresiones matemáticas que involucraron las funciones que llamamos periódicas.

Gracias a los avances tecnológicos, hoy pueden hacerse exámenes médicos con gran precisión mediante el envío de ondas adecuadas sobre tejidos u órganos que son analizadas por el computador.

Los fenómenos ondulatorios como el sonido, la electricidad, el electromagnetismo, los rayos X, se analizan matemáticamente y se utilizan como en la radio, el radar, la televisión, el sonar, el microscopio electrónico, la resonancia magnética y muchos más.



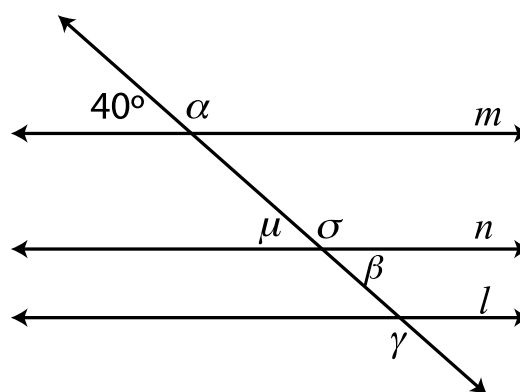
Tema 1. Semejanza y congruencia, Teorema de Tales



Indagación

En el curso anterior, estudiamos el teorema de las paralelas cortadas por una transversal, que forma parejas de ángulos iguales: alternos internos, alternos externos, opuestos por el vértice y correspondientes.

Analiza el siguiente dibujo e identifica las parejas de ángulos iguales con sus respectivos nombres y valores. Puedes trabajar con un compañero y después comparar con otros grupos.

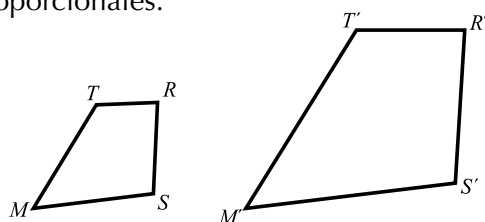


Conceptualización

En el curso anterior estudiamos cuándo dos polígonos son semejantes y cuándo son congruentes. Recordémoslo.

Semejanza

Dos polígonos son semejantes cuando tienen los ángulos homólogos iguales y los lados homólogos proporcionales.



Los ángulos homólogos son iguales:

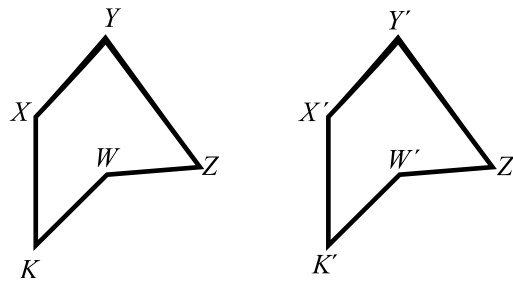
$$\angle M = \angle M', \angle S = \angle S', \angle R = \angle R', \angle T = \angle T'$$

Los lados homólogos son proporcionales:

$$\frac{\overline{MS}}{\overline{M'S'}} = \frac{\overline{SR}}{\overline{S'R'}} = \frac{\overline{RT}}{\overline{R'T'}} = \frac{\overline{TM}}{\overline{T'M'}}$$

Congruencia

Dos o más figuras geométricas son congruentes si tienen la misma forma y el mismo tamaño. Sus ángulos homólogos son iguales y sus lados homólogos son iguales.



Los ángulos homólogos tienen igual medida:

$$\angle K = \angle K', \quad \angle W = \angle W', \quad \angle Z = \angle Z', \quad \angle Y = \angle Y', \quad \angle X = \angle X'$$

Los lados homólogos miden lo mismo:

$$\overline{KW} = \overline{K'W'} \quad \overline{WZ} = \overline{W'Z'} \quad \overline{ZY} = \overline{Z'Y'} \quad \overline{LY} = \overline{L'Y'} \quad \overline{XK} = \overline{X'K'}$$

Criterios de congruencia de triángulos

Criterio	Enunciado	Triángulos
L, L, L	Dos triángulos son congruentes, si sus lados correspondientes son congruentes.	
L, A, L	Dos triángulos son congruentes si dos lados correspondientes y el ángulo comprendido entre ellos son congruentes.	
A, L, A	Dos triángulos son congruentes si dos ángulos correspondientes y el lado comprendido entre ellos son congruentes.	

Teorema de Tales

Trabaja en tu cuaderno, siguiendo las instrucciones:

Traza dos rectas r y r' , que se corten en un punto que señales como O. Dibuja rectas paralelas que corten a las rectas r y r' .

Los puntos de corte de una de estas paralelas con r y r' se llaman correspondientes, por ejemplo A y A' , B y B' , entre otros. También los segmentos que se determinan sobre r y r' .

Se llaman segmentos correspondientes, como \overline{BC} y $\overline{B'C'}$

Procura que al trazar las paralelas los segmentos \overline{BC} y \overline{DE} sean congruentes, es decir, de igual medida.

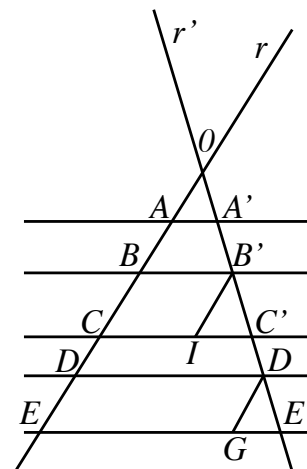
$\overline{BC} = \overline{DE}$ nos preguntamos: ¿Serán correspondientes los segmentos $\overline{B'C'}$ y $\overline{D'E'}$? es decir, $\overline{B'C'} = \overline{D'E'}$?

¿Serán también congruentes? ¿Medirán lo mismo?

Veamos la forma de contestar estas preguntas:

Traza por B' y D' paralelas a la recta r , y determina los segmentos $\overline{B'F}$ y $\overline{D'G}$.

¿Por qué $\overline{B'F} = \overline{D'G}$? ¿Cómo son $\overline{B'F}$ y $\overline{D'G}$ y $\overline{B'C'}$ y $\overline{D'E'}$? Explica.



Si haces una traslación del triángulo a lo largo de $\overline{BD'}$ este triángulo se superpone exactamente con el triángulo $D'GE'$

Es decir: $\overline{B'F}$ se superpone con $\overline{D'G}$

$\overline{F'C'}$ se superpone con $\overline{GE'}$

$\overline{B'C'}$ se superpone con $\overline{D'E'}$

Por lo tanto $\overline{BC} = \overline{DE}$

Se ha comprobado que a segmentos iguales de r corresponden segmentos iguales de r' .

Considera ahora un segmento de r como \overline{AD} , es la suma de \overline{AB} , \overline{BC} y \overline{CD} es decir:
 $\overline{AD} = \overline{AB} + \overline{BC} + \overline{CD}$

Su correspondiente es: $\overline{A'D'} = \overline{A'B'} + \overline{B'C'} + \overline{C'D'}$

Es decir $\overline{A'D'}$ es la suma de los tres segmentos correspondientes: $\overline{A'B'} + \overline{B'C'} + \overline{C'D'}$.

De esta forma se puede concluir que los segmentos cortados por las paralelas sobre r y los correspondientes cortados sobre r' son proporcionales. Este resultado lo conocemos como el teorema de Tales:

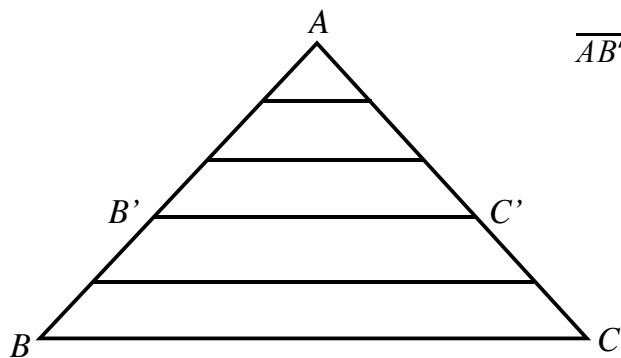
Si tres o más paralelas son cortadas por transversales, la razón entre las medidas de los segmentos determinados en una transversal es igual a la razón de las medidas de los segmentos correspondientes de la otra, por lo que son proporcionales.

Esta proporcionalidad permite, escribir las siguientes igualdades con respecto a las medidas de los segmentos:

$$\frac{\overline{AB}}{\overline{A'B'}} = \frac{\overline{BC}}{\overline{B'C'}} = \frac{\overline{CD}}{\overline{C'D'}} = \frac{\overline{BE}}{\overline{B'E'}}$$

Ahora, analicemos el ejercicio siguiente: sea el $\triangle ABC$, en donde el lado \overline{AB} se divide en cinco segmentos congruentes entre sí.

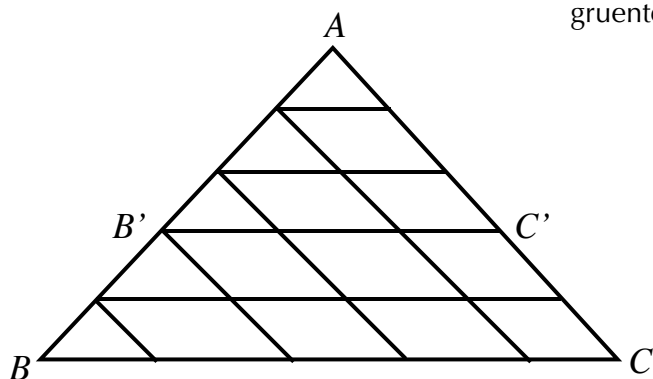
Se traza el segmento $\overline{B'C'}$ paralelo al \overline{BC} y se forman los segmentos $\overline{AB'}$ y $\overline{B'B}$. Para determinar la razón que existe entre las medidas de los segmentos:



$$\overline{AB'} \text{ y } \overline{AB}, \text{ se tiene que: } \frac{\overline{AB'}}{\overline{AB}} = \frac{3}{5}$$

Lo cual significa que \overline{AB} está dividido en cinco segmentos congruentes entre sí y $\overline{AB'}$ abarca tres de ellos.

Si ahora, al $\triangle ABC$ se le trazan unas paralelas a \overline{AC} , se observará que $\overline{B'C'}$ queda dividido en tres segmentos congruentes entre sí, y \overline{BC} queda dividido en cinco segmentos.



$$\text{Por lo que resulta: } \frac{\overline{B'C'}}{\overline{BC}} = \frac{3}{5}$$

lo cual quiere decir que, si $\overline{B'C'} \parallel \overline{BC}$,

$$\text{entonces: } \frac{\overline{AB'}}{\overline{AB}} = \frac{\overline{AC'}}{\overline{AC}} = \frac{\overline{B'C'}}{\overline{BC}}$$

Además, en la figura se observa que los ángulos de los dos triángulos $\triangle ABC$ y $\triangle A'B'C'$ son congruentes,

esto es: $\angle A \cong \angle A'$ Por la propiedad reflexiva de la congruencia de ángulos.

$\angle B \cong \angle B'$ Por ser ángulos correspondientes entre paralelas.

$\angle C \cong \angle C'$ Por ser ángulos correspondientes entre paralelas.

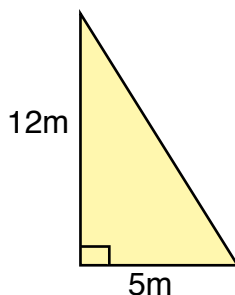
Esto indica que los $\triangle ABC$ y $\triangle A'B'C'$ son semejantes, ya que sus ángulos correspondientes son congruentes y sus lados son proporcionales. De aquí se deriva otra forma de enunciar el teorema de Tales, que dice:

Si en un triángulo una recta es paralela a uno de sus lados, ésta divide a los otros dos lados en segmentos proporcionales y los triángulos formados son semejantes.

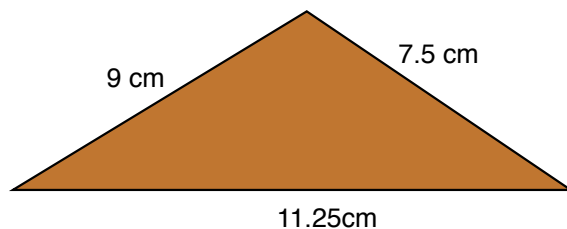
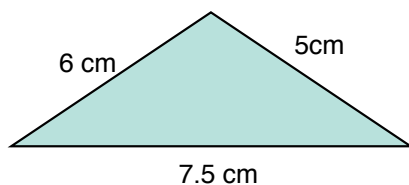


Aplicación

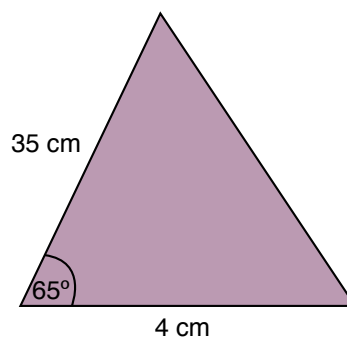
1. Un triángulo rectángulo tiene como catetos 12 m y 5 m. ¿Cuánto medirán los catetos de un triángulo semejante al primero cuya hipotenusa mide 52 m?



2. Dibuja dos triángulos, ΔABC y $\Delta A'B'C'$, de diferente tamaño, tales que $\angle A = \angle A'$ y $\angle B = \angle B'$. Explica cómo son esos triángulos.
3. Dos triángulos son semejantes si tienen dos lados proporcionales y el ángulo comprendido entre ellos igual. Verifícalo con un dibujo.
4. Dibuja un triángulo isósceles y se divide su base en 4 partes iguales. Identifica los triángulos congruentes pintándolos del mismo color
5. Verifica si los triángulos siguientes son semejantes:



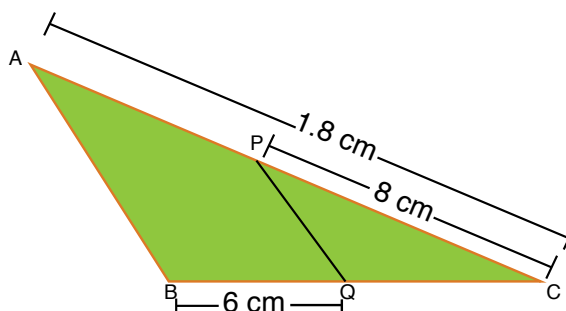
6. Dibuja un triángulo semejante al Dado, que sea 3.5 veces más grande.



7. Los catetos de un triángulo rectángulo que miden 24 m y 10 m.
¿Cuánto medirán los catetos de un triángulo semejante al primero cuya hipotenusa mide 52 m?

8. Dibuja un triángulo rectángulo que tenga un ángulo de 70° y otro triángulo semejante a él cuyos lados sean la mitad de los lados del primero.

9. Dada la figura, calcular los valores de los segmentos: AP y QC.

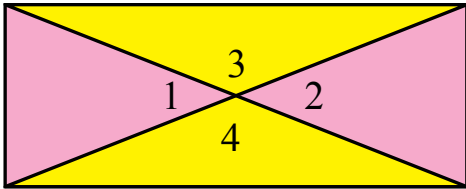


10. Dibuja un triángulo escaleno que sea semejante con otro 3 veces mayor que él.

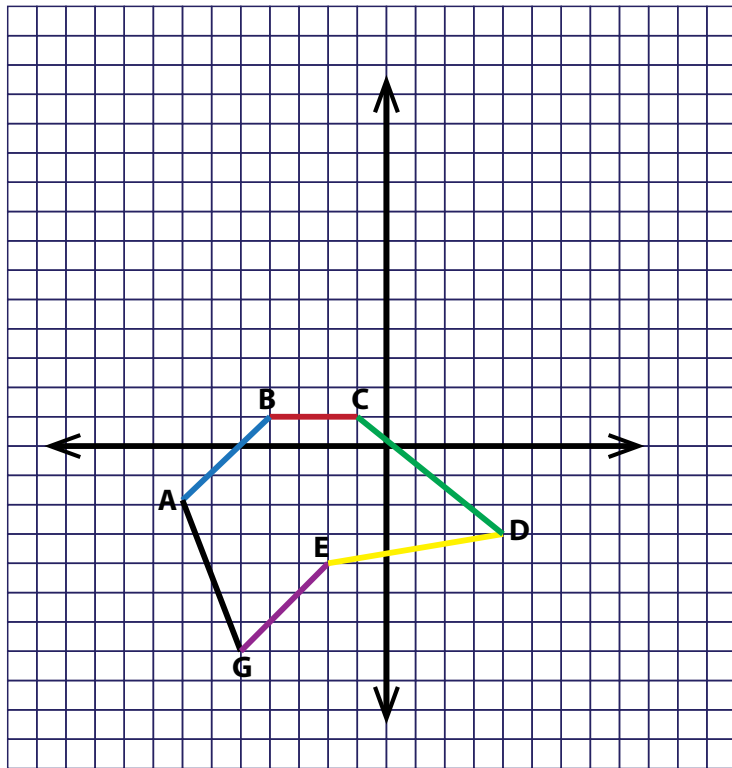
Entendemos por...

Ángulos congruentes aquellos que tienen la misma medida. Por ejemplo, los ángulos opuestos por el vértice que forman las diagonales de un rectángulo:

$$\angle 1 \cong \angle 2 \text{ y } \angle 3 \cong \angle 4$$

**Diversión matemática**

Corriendo cada punto A, B, C, D, E, F, G, 2 unidades (cuadritos) hacia la derecha y 3 unidades hacia arriba, trasladar el polígono de la cuadrícula.



Día a día

La clonación

En febrero de 1997 se dio a conocer la existencia de la oveja Dolly, el primer mamífero clónico desarrollado en un laboratorio, que en ese momento constaba ya con siete meses de edad.

Era la primera vez que se conseguía con éxito la copia genéticamente idéntica de un mamífero adulto. La clonación fue obra del biólogo escocés Ian Wilmut y un equipo de científicos del instituto Roslin de Edimburgo (Escocia), finalmente por una compañía farmacéutica productora de medicamentos a partir de la leche de oveja.



El experimento que dio la vida de Dolly significó un importante avance científico para la humanidad, por su contribución a la lucha para combatir ciertas enfermedades, especialmente el cáncer y por mejorar la elaboración de algunos fármacos y facilitar la selección de linajes en la ganadería.

Con la clonación se abrieron también otras posibilidades de investigación, como la copia de animales transgénicos, es decir genéticamente modificados, para crear razas enteras con características predefinidas, de modo que, por ejemplo, fueran resistentes a los virus.

El enorme adelanto para la ciencia que supuso la clonación de la oveja Dolly reabrió en el mundo científico el debate sobre la posibilidad de clonar seres humanos y planteó graves interrogantes éticos, poniendo de manifiesto la necesidad de llenar el vacío legal existente en relación con los avances de la ingeniería genética

Tomado de: http://docente.ucol.mx/al028763/public_html/2.htm



Tema 2. Razones trigonométricas



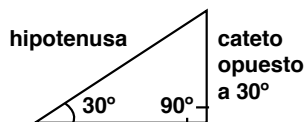
Indagación

Haz grupo con dos estudiantes y analicen las dos situaciones siguientes:

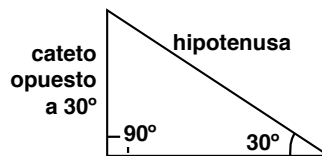
1. Clasifiquen los triángulos según el cuadro dado.

	Según sus lados	Según sus ángulos
		
		
		
		

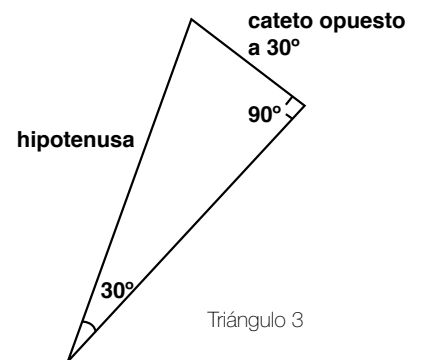
2. En tu cuaderno, dibuja tres triángulos rectángulos, como los triángulos 1, 2 y 3, cada uno de ellos tiene un ángulo de 30° .



Triángulo 1



Triángulo 2



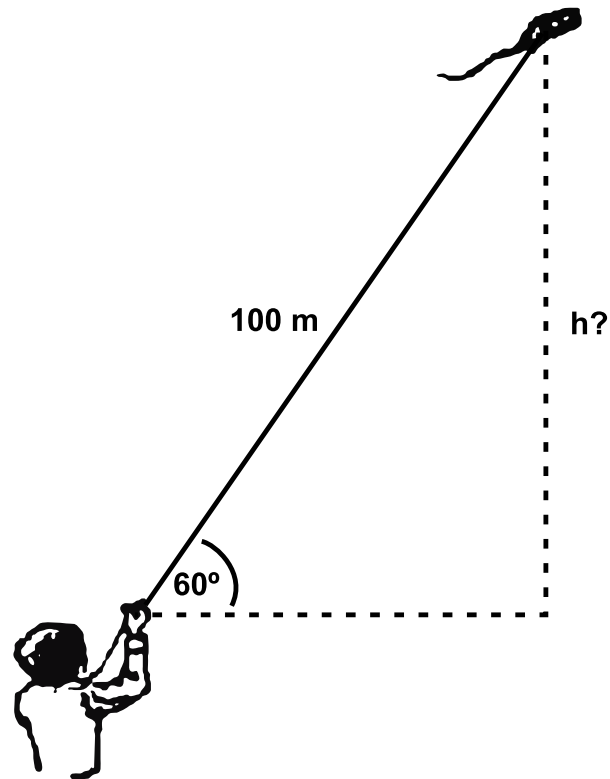
Triángulo 3

Con una regla o escuadra y un transportador, toma la medida de los lados y ángulos de los triángulos construidos y anótalos en la figura respectiva.



Conceptualización

Tenemos el caso de un niño que vuela su cometa. Ha soltado 100 m. de cuerda, que en este momento hace un ángulo de 60° con la horizontal. ¿Podremos saber a qué altura de la mano del niño se encuentra la cometa?



Situación como ésta, no es posible solucionarla con los conocimientos que hasta ahora tenemos.

Aunque el triángulo que se forma es rectángulo no podemos aplicar el teorema de Pitágoras.

Recordemos que el teorema de Pitágoras dice que en todo triángulo rectángulo, el cuadrado de la hipotenusa es igual a la suma de los cuadrados de los catetos. Aquí, solo conocemos un dato y para encontrar h tendríamos que conocer dos lados del triángulo.

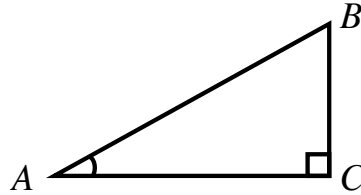
Estudiemos algo nuevo.

Razones trigonométricas

La trigonometría esencialmente se ocupa de encontrar las relaciones entre los lados y los ángulos de un triángulo.

Seno y cosecante

En un triángulo rectángulo, ΔABC , fijamos la atención en uno de sus ángulos agudos, en este caso vamos a fijarnos en él $\angle A$. Si establecemos la razón entre el cateto opuesto al $\angle A$ y la hipotenusa (lado opuesto o frente al ángulo recto),

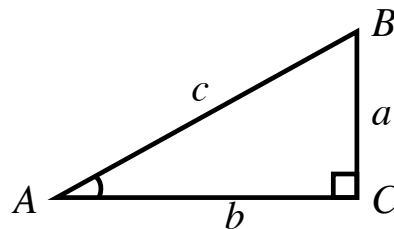


tenemos:

$$\frac{\text{Longitud del cateto opuesto al ángulo } A}{\text{Longitud de la hipotenusa}}$$

A esta razón la llamaremos **seno del ángulo A** y la escribimos así:

$$\text{sen } \angle A = \frac{\text{Cateto opuesto a } \angle A}{\text{Hipotenusa}}$$



En el ΔABC marcamos con letra minúscula el lado que queda frente (opuesto) al ángulo que se marca con letra mayúscula.

Así:

El lado opuesto al $\angle A$ es a

El lado opuesto al $\angle B$ es b

El lado opuesto al $\angle C$ es c

El cateto que ayuda a formar cada ángulo agudo del triángulo rectángulo se llama **lado adyacente** a ese ángulo. Así:

El lado adyacente al $\angle A$ es b

El lado adyacente al $\angle B$ es a

Hemos dicho que: $\text{sen } \angle A = \frac{\text{Cateto opuesto a } \angle A}{\text{Hipotenusa}}$,

según la figura, $\text{sen } \angle A = \frac{\text{Cateto opuesto a } \angle A}{\text{Hipotenusa}} = \frac{a}{c}$

Si establecemos inversamente la razón $\text{sen}\angle A$ es decir:

$$\frac{\text{Longitud de la hipotenusa}}{\text{Longitud del cateto opuesto al ángulo A}}$$

Obtenemos la relación llamada **cosecante del ángulo A** escrito abreviadamente $\text{csc}\angle A$:

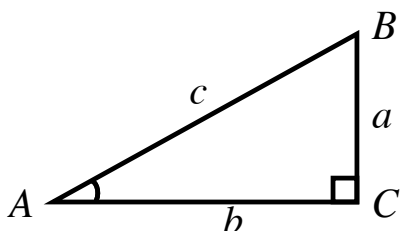
$$\text{Como } \text{sen}\angle A = \frac{\text{Cateto opuesto a } \angle A}{\text{Hipotenusa}} = \frac{a}{c} \text{ y } \text{csc}\angle A = \frac{\text{Hipotenusa}}{\text{Cateto opuesto a } \angle A} = \frac{c}{a}$$

Entonces concluimos que $\text{sen}\angle A$ y $\text{csc}\angle A$ son relaciones inversas.

$$\text{Simbólicamente escribimos: } \text{csc}\angle A = \frac{1}{\text{sen}\angle A}$$

Coseno y secante

Dado el $\triangle ABC$, podemos establecer otras razones con relación al mismo $\angle A$, tales son:



Estableciendo la razón entre el cateto adyacente y la hipotenusa, tenemos:

$$\frac{\text{Longitud del cateto adyacente al ángulo A}}{\text{Longitud de la hipotenusa}}$$

Obtenemos la relación llamada **coseno del ángulo A** escrito abreviadamente $\text{cos}\angle A$:

$$\text{cos}\angle A = \frac{\text{Cateto adyacente a } \angle A}{\text{Hipotenusa}} = \frac{b}{c}$$

Si establecemos inversamente la razón del

$$\text{cos}\angle A \text{ nos queda: } \frac{\text{Hipotenusa}}{\text{Cateto adyacente a } \angle A} = \frac{c}{b},$$

a esta razón la llamamos **secante del ángulo A**, escrito abreviadamente $\text{sec}\angle A$:

$$\text{sec}\angle A = \frac{\text{Hipotenusa}}{\text{Cateto adyacente a } \angle A} = \frac{c}{b}$$

Concluimos que $\text{cos}\angle A$ y $\text{sec}\angle A$ son relaciones inversas.

$$\text{Simbólicamente escribimos: } \text{sec}\angle A = \frac{1}{\text{cos}\angle A}$$

Tangente y cotangente

También podemos relacionar los catetos entre ellos así:

$$\frac{\text{Longitud del cateto opuesto al ángulo A}}{\text{Longitud del cateto adyacente al ángulo A}}$$

A la razón entre los catetos opuesto y adyacente, la llamamos **tangente del ángulo A**.

Simbólicamente:

$$\text{tan}\angle A = \frac{\text{Cateto opuesto a } \angle A}{\text{Cateto adyacente a } \angle A} = \frac{a}{b}$$

Y a la razón entre los catetos adyacente y opuesto, la llamamos **cotangente del ángulo A**.

$$\frac{\text{Longitud del cateto adyacente al ángulo A}}{\text{Longitud del cateto opuesto al ángulo A}}$$

Simbólicamente:

$$\cotan \angle A = \frac{\text{Cateto adyacente a } \angle A}{\text{Cateto opuesto a } \angle A} = \frac{b}{a}$$

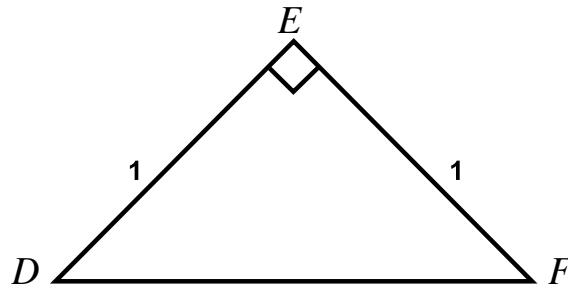
Observamos que $\tan \angle A$ y $\cotan \angle A$ son inversas,

pues $\tan \angle A = \frac{\text{Cateto opuesto a } \angle A}{\text{Cateto adyacente a } \angle A} = \frac{a}{b}$ y $\cotan \angle A = \frac{\text{Cateto adyacente a } \angle A}{\text{Cateto opuesto a } \angle A} = \frac{b}{a}$

Analicemos un triángulo especial

Dado el triángulo rectángulo isósceles DEF, de lado 1 unidad (puede ser 1 cm, 1 m, entre otros), calculemos el valor de:

- La hipotenusa
- Cada ángulo agudo
- $\sin 45^\circ$
- $\cos 45^\circ$
- $\tan 45^\circ$
- $\cotan 45^\circ$
- $\sec 45^\circ$
- $\csc 45^\circ$



Solución

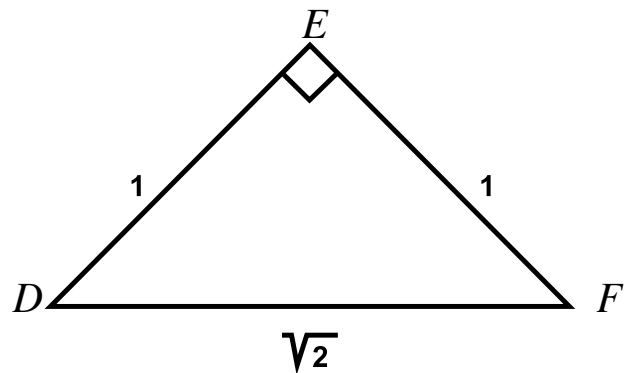
a) Según el teorema de Pitágoras la hipotenusa \overline{DF} se calcula así:

$$\overline{DF}^2 = \overline{DE}^2 + \overline{EF}^2$$

$$\overline{DF}^2 = 1^2 + 1^2 = 1 + 1 = 2$$

$$\sqrt{\overline{DF}^2} = \sqrt{2}$$

$$\overline{DF} = \sqrt{2} = 1.4142\dots$$



b) Como el triángulo es isósceles, tiene 2 lados iguales y por lo tanto 2 ángulos iguales, en este caso $\angle D = \angle F$ y como la suma de los 3 ángulos interiores de todo triángulo suman 180° , entonces,

$$\angle D + \angle E + \angle F = 180^\circ$$

$$\angle D + 90^\circ + \angle F = 180^\circ$$

Como $\angle D = \angle F$ entonces,

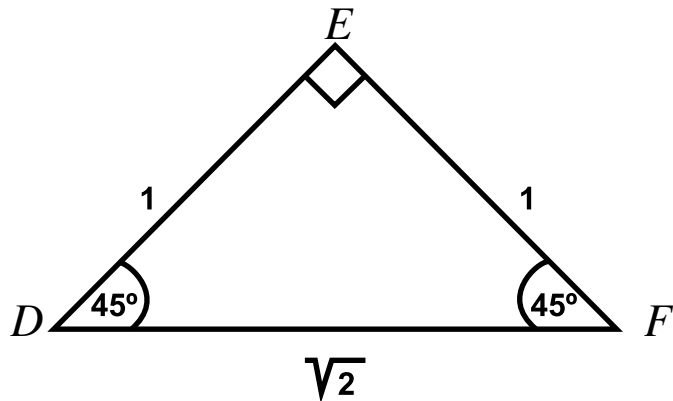
$$\angle F + \angle E + \angle F = 180^\circ$$

$$2\angle F + 90^\circ = 180^\circ$$

$$2\angle F = 180^\circ - 90^\circ$$

$$\angle F = \frac{90^\circ}{2}$$

$$\angle F = 45^\circ$$



Entonces $\angle D = 45^\circ$ por ser $\angle D = \angle F$

Con base en la figura con sus medidas deduciremos las razones trigonométricas.

$$\text{c) } \operatorname{sen} 45^\circ = \frac{\text{Cat. opuesto a } 45^\circ}{\text{hipotenusa}}$$

$$\operatorname{sen} 45^\circ = \frac{1}{\sqrt{2}} = \frac{1 \times \sqrt{2}}{\sqrt{2} \times \sqrt{2}} = \frac{\sqrt{2}}{\sqrt{2}^2}$$

$$\operatorname{sen} 45^\circ = \frac{\sqrt{2}}{2} = \frac{1.4142}{2} = 0.707\dots$$

$$\text{Luego, } \operatorname{sen} 45^\circ = \frac{\sqrt{2}}{2} \text{ o } \operatorname{sen} 45^\circ = 0.707\dots$$

$$\text{d) } \operatorname{cos} 45^\circ = \frac{\text{Cat. opuesto a } 45^\circ}{\text{hipotenusa}}$$

$$\operatorname{cos} 45^\circ = \frac{1}{\sqrt{2}} = \frac{1 \times \sqrt{2}}{\sqrt{2} \times \sqrt{2}} = \frac{\sqrt{2}}{\sqrt{2}^2}$$

$$\operatorname{cos} 45^\circ = \frac{\sqrt{2}}{2} = \frac{1.4142}{2} = 0.707\dots$$

$$\text{Luego, } \operatorname{cos} 45^\circ = \frac{\sqrt{2}}{2} \text{ o } \operatorname{cos} 45^\circ = 0.707\dots$$

De los puntos c) y d) podemos deducir que $\operatorname{sen} 45^\circ = \operatorname{cos} 45^\circ$.

Observando la figura deducimos:

$$e) \tan 45^\circ = \frac{\text{cateto opuesto}}{\text{cateto adyacente}} = \frac{1}{1} = 1$$

Luego, $\tan 45^\circ = 1$

$$f) \cotan 45^\circ = \frac{\text{cateto ayacente}}{\text{cateto opuesto}} = \frac{1}{1} = 1$$

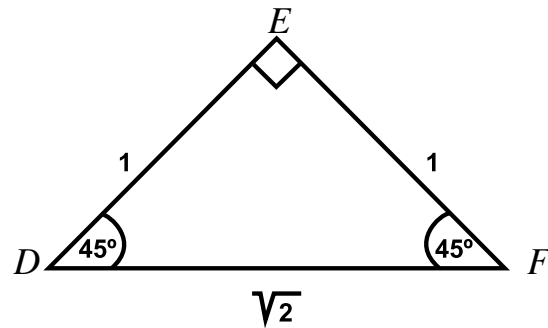
Luego, $\cotan 45^\circ = 1$

$$g) \sec 45^\circ = \frac{\text{Hipotenusa}}{\text{Cateto adyacente a } 45^\circ} = \frac{\sqrt{2}}{1} = \sqrt{2} = 1.4142\dots$$

Luego, $\sec 45^\circ = \sqrt{2} = 1.4142$

$$h) \csc 45^\circ = \frac{\text{Hipotenusa}}{\text{Cateto opuesto a } 45^\circ} = \frac{\sqrt{2}}{1} = \sqrt{2} = 1.4142\dots$$

Luego, $\csc 45^\circ = \sqrt{2} = 1.4142$



Aplicación

Los ejercicios 1, 2 y 3, se resuelven con la información y gráfica siguientes:

Dado el triángulo equilátero de lado 1 unidad
Calcular:

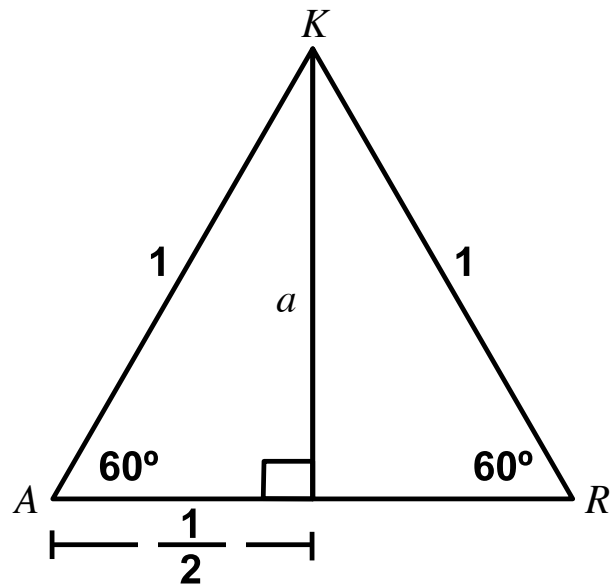
1. El valor de la altura sobre uno de sus lados.

2. Hallar

- | | |
|-------------------|---------------------|
| a) Sen 60° | d) Cotan 60° |
| b) Cos 60° | e) Sec 60° |
| c) Tan 60° | f) Csc 60° |

3.

- | | |
|-------------------|---------------------|
| a) Sen 30° | d) Cotan 30° |
| b) Cos 30° | e) Sec 30° |
| c) Tan 30° | f) Csc 30° |

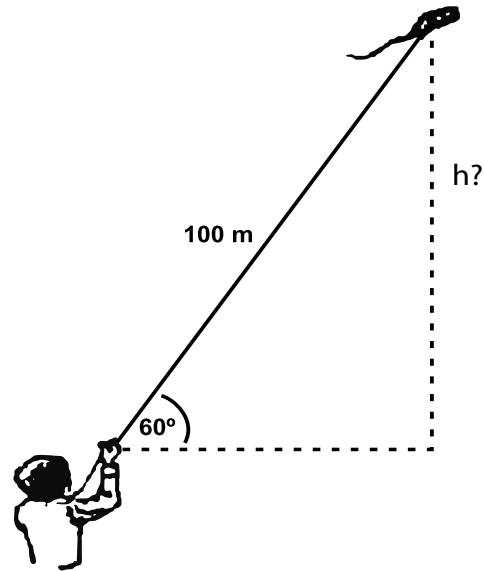


4. Retomando el caso del niño que vuela su cometa. Podemos saber a qué altura de la mano del niño se encuentra la cometa, analizando la figura y recordando la definición de seno de 60° .

Según la solución de la parte a) del ejercicio 2,

$$\text{sen } 60^\circ = \frac{\sqrt{3}}{2} = \frac{1.732...}{2} = 0.866...$$

Ahora, encuentra la altura a la que se encuentra la cometa de la mano del niño.



5. Dagoberto tiene una tabla cuadrada cuya diagonal mide 25 cm.
- Dibuja la tabla y encuentra el valor del lado.
 - Encuentra las razones: seno, coseno, tangente, cotangente secante y cosecante del ángulo formado por la diagonal y uno de los lados del cuadrado
6. Escribe alguna justificación para asegurar que $\text{sen } 0^\circ = 0$ y $\text{sen } 90^\circ = 1$
7. Completa la tabla

Ángulo	Sen	Cos	Tan	Cotan	Sec	Cosec
0°						
30°						
45°						
60°						
90°						

La información siguiente se requiere para solucionar los ejercicios 8,9 y 10. Se tiene el triángulo rectángulo ABC, con ángulo recto B, de hipotenusa 10 cm y uno de sus lados 6 cm.

- Realizar el dibujo correspondiente.
- Calcular la longitud de su otro lado.
- Expresar las razones trigonométricas para el ángulo A.
- Expresar las razones trigonométricas para el ángulo C.

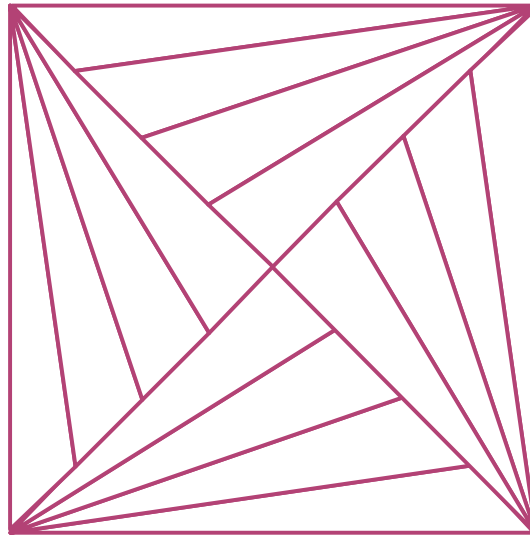
Entendemos por...

Hipotenusa, el lado opuesto al ángulo recto de un triángulo rectángulo.

Cateto, cada uno de los lados que forman el ángulo recto, de un triángulo rectángulo.

Diversión matemática

¿Cuántos triángulos puedes contar en la imagen?



Día a día

En la Antigüedad, los marinos navegaban guiados por la posición de las estrellas y con la ayuda de cartas y tablas de navegación.

Sin embargo, para determinar su posición con precisión no solo necesitaban mirar al cielo, sino, además, conocer la hora en que lo estaban haciendo y así poder comparar las posiciones de las constelaciones que observaban, con las posiciones establecidas en las tablas para esa hora del día.

Este método de localización fue mejorado con el uso de relojes cada vez más precisos pero aun presentaba sus principales dificultades: no podía usarse continuamente y lo afectaban las condiciones atmosféricas.

Actualmente el sistema de localización más usado es conocido como Sistema de Posicionamiento Global o GPS. El Sistema Mundial de Localización por Satélite (GPS, Global Positioning System), desarrollado por el Departamento de Defensa estadounidense a principios de los años 70, permite a los barcos navegar por los océanos, a los aviones volar sobre las nubes, rastrear a las flotillas de camiones y a los mineros buscar metales preciosos.



Pero los creadores de esta tecnología tienen visiones aún más grandes. Se dice que la tecnología GPS es la cosa más grande que llega al aire desde la televisión. También se dice que será la próxima ola en servicios de información comercial. Los teléfonos celulares y el correo electrónico actualmente le permiten a cualquier persona contactarte.

<http://www.eveliux.com/mx/el-futuro-de-la-localizacion-mundial-por-satelite.php>

Cuerpos geométricos

Los cuerpos geométricos son aquellos elementos que ocupan un volumen en el espacio. Constan de tres dimensiones: largo, ancho y alto, y se componen de figuras geométricas.

Entre los sólidos son conocidos los llamados “sólidos platónicos” estudiados por todas las civilizaciones a lo largo de la historia.

Hemos estudiado que los sólidos o cuerpos geométricos se clasifican en poliedros y cuerpos

redondos. El significado de los poliedros se remonta a las primeras civilizaciones.

Las propiedades de los poliedros fueron conocidas desde la Antigüedad, hay referencias de unas bolas neolíticas de piedra labrada, encontradas en Escocia 1,000 años antes de la existencia de Platón. En este capítulo profundizaremos en el conocimiento de los cuerpos geométricos, su área y su volumen.



Tema 1. Características de los sólidos



Indagación

El ser humano ha utilizado diversas formas geométricas en la arquitectura, ingeniería, los objetos del arte y en muchos otros campos.

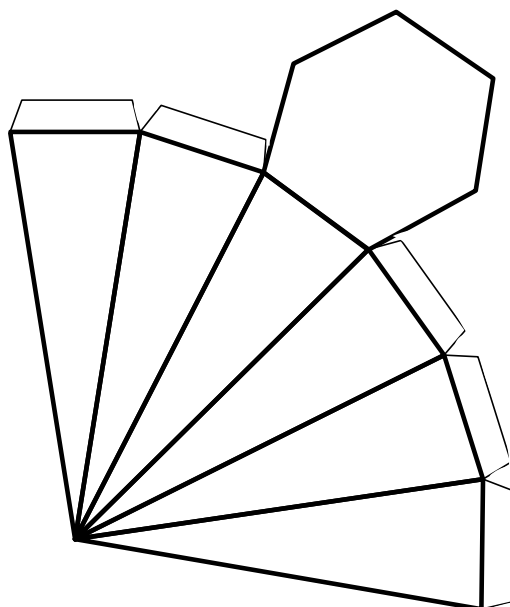
Seguramente has visto productos empacados en cajas de formas: prismática, piramidal, cilíndrica, cónica o esférica. En cursos anteriores, modelaste algunos sólidos.

Copia ampliado el siguiente molde para que armes tu pirámide de base pentagonal, del tamaño que quieras.

Trae tus conocimientos acerca de las pirámides.

¿Cómo definirías este cuerpo geométrico?

Escribe una definición y compárala con la siguiente.



Conceptualización

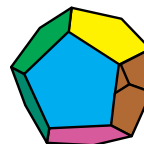
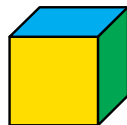
Clasificación de los cuerpos geométricos

En los cursos anteriores hemos estudiado sobre los polígonos y algunos sólidos.

Recordemos: los sólidos son cuerpos geométricos que pueden estar limitados por superficies planas o superficies curvas.

Sólidos

Poliedros: Cuerpos geométricos limitados por superficies planas y de contorno poligonal. Tienen caras, aristas, ángulos y vértices. Existen 5 poliedros regulares, llamados también sólidos platónicos.



Tetraedro

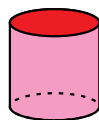
Hexaedro

Octaedro

Dodecaedro

Icosaedro

Cuerpos redondos: no están limitados por polígonos, sino por superficies curvas.



Cilindro





Cono

Esfera

Las caras de los poliedros son polígonos, por ello, revisamos su clasificación.


Los polígonos

Como los cuerpos geométricos tienen superficies que pueden ser polígonos, recordemos aspectos importantes algunos de ellos.


Polígono	Perímetro	Área
Triángulo 	Suma de longitudes de los lados	$\frac{\text{Base} \times \text{altura}}{2}$
Cuadrado 	Suma de longitudes de los lados	Lado x lado
Rectángulo 	Suma de longitudes de los lados	Base x altura
Círculo 	Longitud de la circunferencia = $2 \times \pi \times \text{radio}$ $2 \pi r$	Pi x radio al cuadrado πr^2

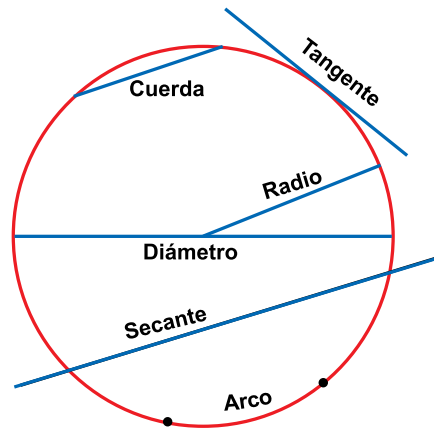
Elementos de la circunferencia y el círculo

Circunferencia

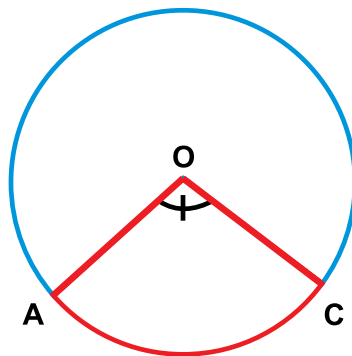


Círculo

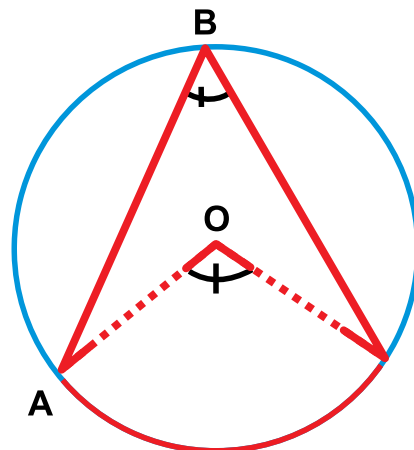




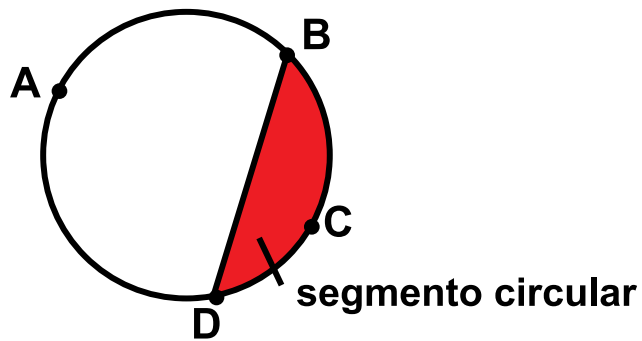
Ángulo central: es el ángulo cuyo vértice es el centro de la circunferencia y sus lados son dos radios de ella.



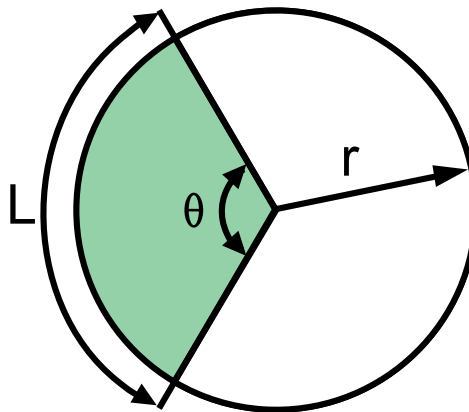
Ángulo inscrito: es el ángulo cuyo vértice está sobre la circunferencia y sus lados son cuerdas de ella. Para todo ángulo inscrito, existe un ángulo del centro que subtiende el mismo arco. El ángulo inscrito es igual a la mitad del ángulo central que subtiende el mismo arco.



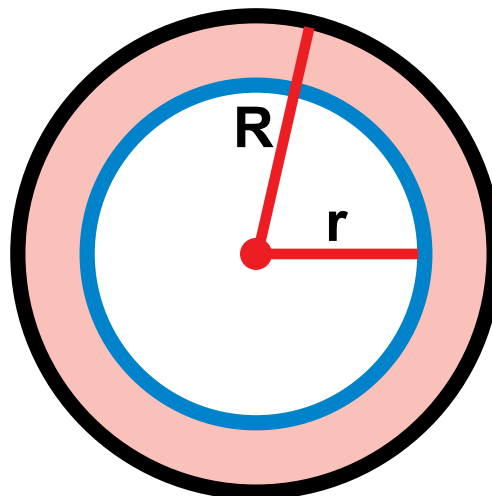
Segmento circular: es cada una de las partes en que se divide un círculo cuando se traza una cuerda DB. Si la cuerda es un diámetro, cada parte será un semicírculo,



Sector circular: es la parte del círculo limitada por dos radios y un arco.



Corona circular: es la porción del plano comprendida entre dos circunferencias concéntricas (tienen el mismo centro).





Aplicación

En tu cuaderno, copia los siguientes ejercicios, resuélvelos y compara con tus compañeros:

Utilizando instrumentos de geometría: regla, escuadra, transportador y compás, realiza las construcciones:

1. Una circunferencia cuyo diámetro mida 7.5 cm.
2. Una circunferencia de radio 7.5 cm y una cuerda de 4 cm.
3. Un ángulo central de 50° .
4. Un ángulo 65° , inscrito en una circunferencia de 5 cm de radio.
5. Un arco cuyo ángulo central es 60° .
6. Una corona circular de 3 cm de ancho en un círculo de 7 cm de radio.
7. Un sector circular correspondiente a un ángulo de 120° .
8. Verifica que a un ángulo de 50° , inscrito en un círculo, corresponde con un ángulo central de 100° .
9. En tu cuaderno describe cómo es cada línea de la circunferencia: radio, diámetro, cuerda, arco, secante y tangente.
10. Dos polígonos regulares de 5 y de 8 lados.

Entendemos por...

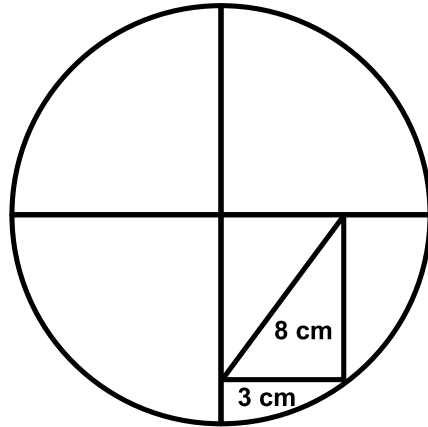
Circunferencia la línea curva cerrada cuyos puntos equidistan de un punto fijo llamado centro. La circunferencia tiene longitud igual a 2π por el radio.

Círculo aquella superficie plana limitada por una circunferencia. Como el círculo es la parte interior de una circunferencia, entonces el círculo tiene área.

Diversión matemática

¿Diagonal igual que radio?

Aquí te presentamos un caso en el que debes verificar si una diagonal de ese rectángulo coincide con el radio del círculo.



Tomado de: http://divulgamat2.ehu.es/divulgamat15/index.php?option=com_content&view=article&id=6143:el-radio-del-culo&catid=113:acertijos&directory=67

Día a día

Círculos en los cultivos

Una mañana de 1979, los habitantes de Winchester, Inglaterra, quedaron asombrados cuando en sus campos de trigo aparecieron gigantes dibujos circulares. Extrañas formas, algunas de ellas verdaderas obras de arte, que se volvieron cada vez más complejas y numerosas. Después de esto, figuras similares aparecieron en Alemania, Hungría y Nueva Zelandia.

Los ufólogos, especialistas en el fenómeno Ovni, atribuyeron estas figuras a alguna forma de comunicación entre seres extraterrestres y sus naves.

Pasaron 21 años y nos llenaron de hipótesis descabelladas, hasta que al fin el misterio se develó: Doug Bower y Dave Chorley, 2 aburridos jubilados ingleses, confesaron públicamente ser los autores de los primeros dibujos. Y los reprodujeron a la perfección mostrando que utilizaban hilos para trazar las formas y valiéndose de tablas aplastaban las plantas.

La técnica dio origen a una más reciente camada de artistas ingleses que en este momento exponen sus maravillas en la página web www.circlemakers.org y hasta las venden para



avisos publicitarios. En Hungría, en cambio, los hacían un par de adolescentes traviesos.

Hoy, conociendo la técnica, surgen los más variados dibujos por todas partes, unos cuantos de ellos con demasiado humor. Y ya casi ningún ufólogo defiende su origen extraterrestre.

Tomado de: <http://www.webmisterios.com/general/ovni-circulos-en-los-cultivos.html>

Tema 2. Áreas y volúmenes de los sólidos



Indagación

Recordemos que volumen es la medida del espacio ocupado por un cuerpo. El volumen de los cuerpos es el resultado de sus tres dimensiones: ancho, alto y profundidad.

En escultura y pintura, la manera de tratar la tridimensionalidad (tres dimensiones: largo, ancho y alto) de las masas.

En escultura, se le llama volumen a una estructura formal tridimensional, así como también volumen a las partes componentes del todo escultórico, cuando éstas tiene el carácter de masas.

En arquitectura, se le llama volumen al conjunto exterior de un edificio, que encierra el espacio interior.

Escribe en tu cuaderno a cerca del volumen, por ejemplo, cuáles objetos de tu casa tienen volumen. Compara tu trabajo con dos o tres compañeros.

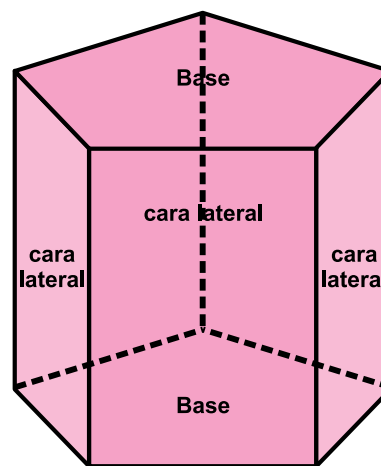


Conceptualización Prisma

Es un poliedro limitado por dos polígonos congruentes y paralelos llamados bases y varios paralelogramos llamados caras laterales.

Los prismas se clasifican según el polígono que corresponde a sus bases. Así, los prismas pueden ser triangulares, pentagonales, hexagonales, entre otros.

En cualquier prisma se puede calcular el área lateral, el área total y el volumen.



Área Lateral (A_L)

Es la suma de las áreas de las caras laterales y corresponde al producto de la altura del prisma por el perímetro de una de las bases.

$$A_L = h \cdot P_B$$

Área total (A_T)

Es la suma del área de las dos bases y el área lateral del prisma.

$$A_T = A_L + 2A_B$$

Volumen

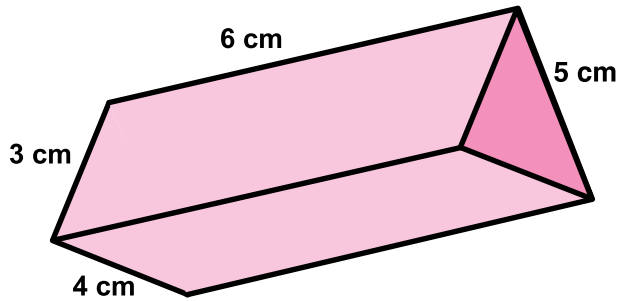
Es el producto del área de la base por la altura del prisma.

$$V = A_B \cdot h$$

Analicemos la situación siguiente:

Una caja prismática de base triangular tiene las dimensiones como muestra la figura.

Queremos conocer su: área lateral, área total y volumen.



Para calcular el área lateral del prisma se calcula el perímetro de la base y se multiplica por la altura.

$$P = 3 \text{ cm} + 4 \text{ cm} + 5 \text{ cm} = 12 \text{ cm}$$

$$A_L = h \cdot P_B$$

$$A_L = 6 \text{ cm} \cdot 12 \text{ cm} = 72 \text{ cm}^2$$

Para calcular el área total del prisma, se calcula el área de la base.

Luego, se suma el área lateral con el doble del área de la base.

$$A_B = \frac{3 \text{ cm} \cdot 4 \text{ cm}}{2} = 6 \text{ cm}^2$$

$$A_T = A_L + 2A_B$$

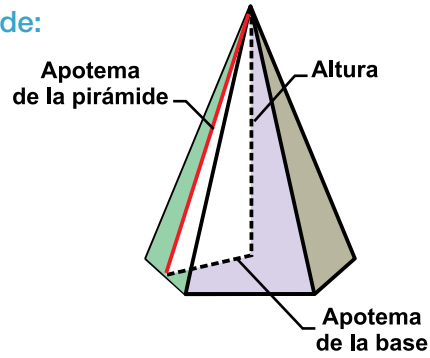
$$A_T = 72 \text{ cm}^2 + 2 \cdot 6 \text{ cm}^2 = 84 \text{ cm}^2$$

Y para calcular el volumen del prisma, se multiplica el área de la base por la altura:

$$V = A_B \cdot h$$

$$V = 6 \text{ cm}^2 \cdot 6 \text{ cm} = 36 \text{ cm}^3$$

Pirámide:



La pirámide es un poliedro en el cual una de sus caras, llamada *base*, es un polígono y las otras caras, llamadas *caras laterales*, siempre son triángulos que concurren en un vértice común.

Las pirámides se clasifican según el polígono que corresponde a su base, en pirámide triangular, hexagonal, pentagonal, entre otras. Además, una pirámide puede ser recta u oblicua.

Una pirámide es recta si todas sus caras laterales son triángulos isósceles y es oblicua si alguna de sus caras laterales es un triángulo escaleno.

En cualquier pirámide se puede calcular el área lateral, el área total y el volumen.

Área Lateral (A_L): es la suma de las áreas de las caras laterales. Así, si "n" es el número de lados de la base y "A" es el área de una de las caras laterales, se tiene que:

$$A_L = n \cdot A$$

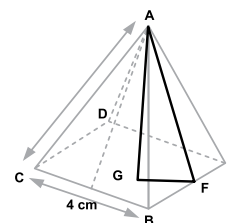
Área total (A_T): es la suma del área de la base y el área lateral.

$$A_T = A_B + A_L$$

Volumen: es la tercera parte del producto del área de la base y la altura de la pirámide.

$$V = \frac{1}{3}(A_B \cdot h)$$

Ejemplo: calcular el área lateral y el volumen de una pirámide cuya base es un cuadrado de lado 4 cm. y cuyas caras laterales son triángulos equiláteros.



Para calcular el área lateral se halla el área del triángulo EBA y se multiplica por el número de lados de la base, así:

Primero hallamos la altura del triángulo EBA, aplicando el Teorema de Pitágoras, recordemos que la altura va del ángulo al lado opuesto y es perpendicular al punto medio:

$$h = \sqrt{(4cm)^2 - (2cm)^2} = \sqrt{16cm^2 - 4cm^2} = \sqrt{12cm^2} = 3.46cm$$

Luego, se calcula el área del triángulo EBA:

$$A_{\Delta} = \frac{4cm \cdot 3,46cm}{2} = \frac{13.84}{2} cm^2 = 6.92cm^2$$

Luego se calcula el área lateral, para ello se multiplica por 4 el área del triángulo EBA, (la pirámide tiene cuatro caras, pues su base es cuadrada):

$$A_L = n \cdot A$$

$$A_L = 4 \cdot (6.92cm^2) = 27.68cm^2$$

Para calcular el volumen, primero debemos hallar la altura de la pirámide, aplicando el Teorema de Pitágoras:

$$AG = \sqrt{(3.46cm)^2 - (2cm)^2} = \sqrt{11.97cm^2 - 4cm^2} = 2.82cm$$

Por lo tanto el volumen es:

$$V = \frac{1}{3}(A_B \cdot h)$$

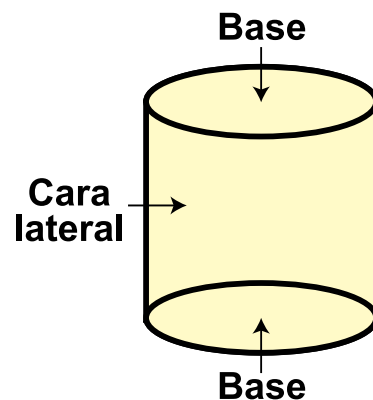
$$V = \frac{1}{3}(16cm^2 \cdot 2.82cm) = \frac{1}{3}(45.12cm^3) = 15.04cm^3$$

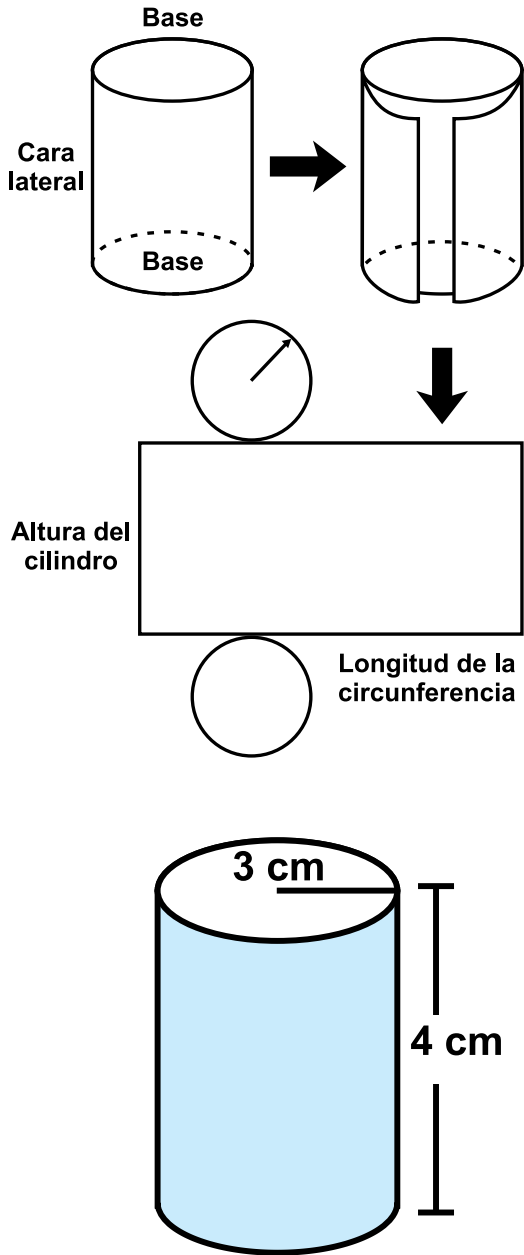
Cuerpos redondos: son sólidos limitados por superficies curvas o por superficies planas y curvas. Los principales cuerpos redondos son: el cilindro, el cono y la esfera.

Cilindro

Es un cuerpo redondo limitado por una superficie curva y dos caras planas circulares.

La superficie curva que conforma el cilindro se denomina *cara lateral* y las dos caras circulares se denominan *bases*.





Al efectuar el desarrollo de un cilindro se puede observar que la cara lateral pertenece a un rectángulo cuyo largo es la longitud de la circunferencia que corresponde a la base y cuyo ancho es la altura del cilindro.

Por tanto, si “h” es la altura del cilindro y “r” el radio de la base se tiene que:

El área lateral (A_L) del cilindro corresponde al área del rectángulo que representa su desarrollo.

$$A_L = (2 \cdot \pi \cdot r)h$$

El área total del cilindro es la suma del área de las dos bases y el área lateral.

$$A_T = A_L + 2A_B = (2 \cdot \pi \cdot r)h + 2 \cdot \pi \cdot r^2 = (2 \cdot \pi \cdot r)(h + r)$$

El volumen del cilindro es el producto del área de la base por la altura del cilindro.

$$V = A_B \cdot h = \pi \cdot r^2 \cdot h$$

Analicemos el área lateral, área total y el volumen del cilindro de radio 3 cm. y altura 4 cm.

Se reemplazan las medidas del radio y de la altura en las expresiones correspondientes al área lateral, al área total y al volumen del cilindro.

Luego, se realizan las operaciones indicadas así:

Área lateral:

$$A_L = (2 \cdot \pi \cdot r)h = 2 \cdot 3.14 \cdot 3\text{cm} \cdot 4\text{cm} = 75.36\text{cm}^2$$

Área total:

$$A_T = (2 \cdot \pi \cdot r)(h + r) = (2 \cdot 3.14 \cdot 3\text{cm})(4\text{cm} + 3\text{cm}) = 131.88\text{cm}^2$$

Volumen:

$$V = \pi \cdot r^2 \cdot h = 3.14(3\text{cm}^2) \cdot 4\text{cm} = 113.04\text{cm}^3$$

Cono

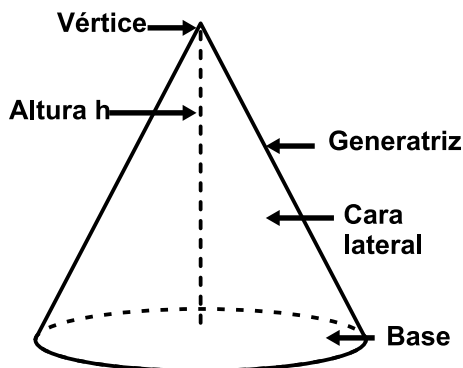
Es un cuerpo redondo limitado por una superficie curva y una cara plana circular.

El cono está conformado por los siguientes elementos: cara lateral, base, vértice, altura y generatriz.

La generatriz es el segmento que tiene como puntos extremos el vértice del cono un punto de la circunferencia de la base.

La altura es la medida del segmento perpendicular a la base, cuyo punto extremo es el vértice del cono.

Si simbolizamos con “r” el radio de la base del cono, con “g” la generatriz del cono y con “h” su altura, se tiene que:



El área lateral (A_L) del cono corresponde al área del sector circular que resulta de su desarrollo.

$$A_L = \pi \cdot r \cdot g$$

El área total (A_T) del cono es la suma del área de la base y el área lateral.

$$A_T = A_L + A_B = \pi \cdot r \cdot g + \pi \cdot r^2 = \pi \cdot r \cdot (g + r)$$

El volumen del cono es un tercio del producto del área de la base por la altura del cono.

$$V = \frac{1}{3} A_B \cdot h = \frac{1}{3} (\pi \cdot r^2 \cdot h)$$

Veamos cómo resolver el problema de un cono:

Calcular la medida de la generatriz, el área lateral, área total y el volumen de un cono cuyo radio es 5 cm. y su altura es 6 cm.

Para hallar la medida de la generatriz, se aplica el Teorema de Pitágoras:

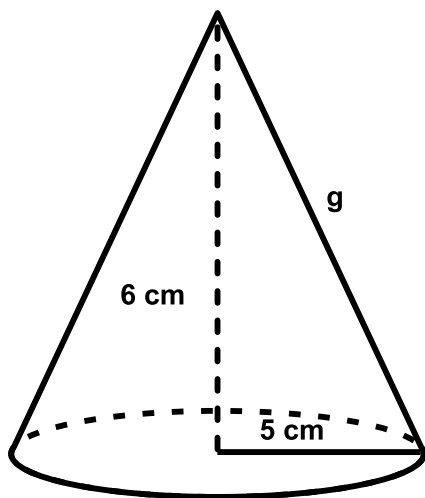
$$g = \sqrt{(6\text{cm})^2 + (5\text{cm})^2} = \sqrt{36\text{cm}^2 + 25\text{cm}^2} = \sqrt{61\text{cm}^2} \approx 7,81\text{cm}$$

Luego, se reemplazan las medidas del radio, la altura y la generatriz para calcular el área lateral, el área total y el volumen.

$$A_L = \pi \cdot r \cdot g = 3,14 \cdot 5\text{cm} \cdot 7,81\text{cm} = 122,617\text{cm}^2$$

$$A_T = \pi \cdot r \cdot (g + r) = 3,14 \cdot 5\text{cm} \cdot (7,81\text{cm} + 5\text{cm}) = 201,11\text{cm}^2$$

$$V = \frac{1}{3} (\pi \cdot r^2 \cdot h) = \frac{1}{3} (3,14 \cdot (5\text{cm})^2 \cdot 6\text{cm}) = 157\text{cm}^3$$

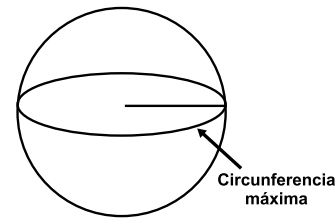


Esfera

Es un cuerpo redondo limitado por una superficie curva. Todos los puntos de la superficie de la esfera equidistan de un punto llamado centro.

La distancia entre un punto de la superficie de la esfera y el centro se denomina radio.

La intersección de la superficie de la esfera con un plano que pasa por su centro se denomina circunferencia máxima y el círculo determinado por esta se denomina círculo máximo.



Si se representa con "r" el radio de la esfera se tiene que:

El área de la superficie de la esfera es cuatro veces el área del círculo máximo.

$$A_E = 4\pi r^2$$

El volumen de la esfera se calcula mediante la expresión:

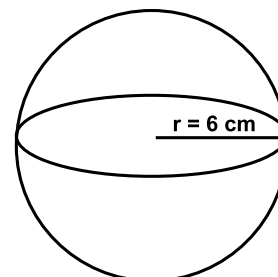
$$V_E = \frac{4}{3} \pi r^3 \quad \text{en donde } r \text{ es el radio de la esfera.}$$

Ejemplo: calcular el área de la superficie de una esfera y su volumen, si su diámetro es 12 cm.

Como la esfera tiene un diámetro de 12 cm, su radio es 6 cm. Luego se reemplaza la medida del radio para calcular el área de la superficie y su volumen.

$$A_T = 4\pi \cdot r^2 = 4 \cdot 3,14 (6\text{cm})^2 = 4 \cdot 3,14 \cdot 36\text{cm}^2 = 452,39\text{cm}^2$$

$$V = \frac{4}{3} \pi \cdot r^3 = \frac{4}{3} \cdot 3,14 \cdot (6\text{cm})^3 = \frac{4}{3} \cdot 3,14 \cdot 216\text{cm}^3 = 904,32\text{cm}^3$$



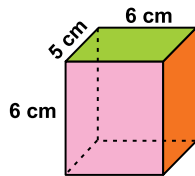


Aplicación

En forma individual, resuelve los siguientes ejercicios, en tu cuaderno. Dibuja las figuras que sean necesarias.

1. Marisol tiene una cajita como muestra la figura. Ella quiere saber:

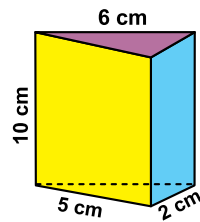
- El área lateral
- El área total
- El volumen



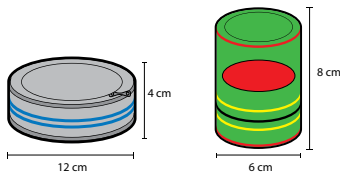
2. Un trozo de madera tiene la forma y las medidas que muestra la figura.

Calcula:

- El área lateral
- El área total
- El volumen



3. En una empresa de enlatados se utilizan recipientes con forma cilíndrica para empacar arvejas como se muestra a continuación:

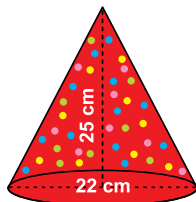


- ¿Cuál de los dos recipientes tiene mayor capacidad?
- ¿En cuál de los dos recipientes se utiliza mayor cantidad de hojalata para su elaboración?
- Si en cada recipiente la etiqueta cubre toda la cara lateral, ¿en cuál de las dos etiquetas se utiliza mayor cantidad de papel?

4. Josefa elaboró unos gorritos para una fiesta infantil. El diseño y medidas se muestran en la figura.

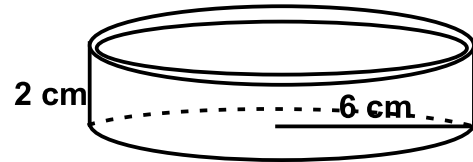
Calcula:

- El área lateral
- El área total
- El volumen

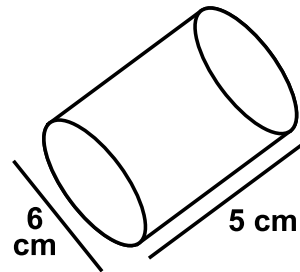


Calcula área lateral, área total y volumen de los cuerpos siguientes:

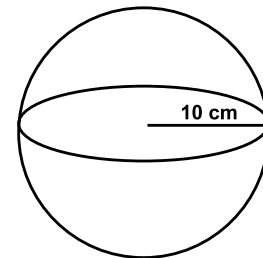
5.



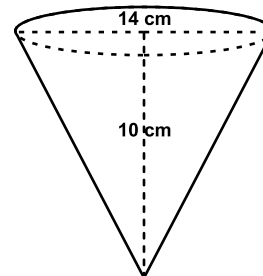
6.



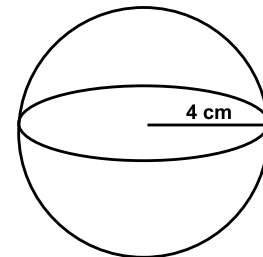
7.



8.



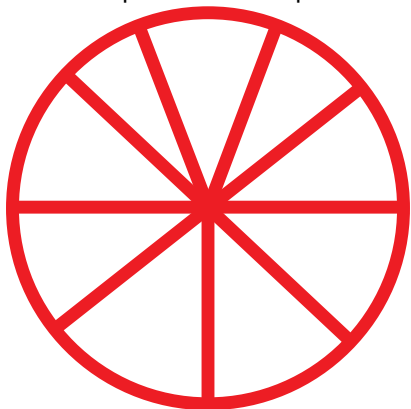
9.



10. Realiza el dibujo y calcula el área lateral, el área total y el volumen de una caja cúbica de 75.25 cm de lado.

Entendemos por...

Equidistante aquel punto que queda a la misma distancia de otro. Por ejemplo, el centro de una circunferencia es equidistante de los puntos de ella.



Diversión matemática

1. En la sopa de letras siguiente aparecen los nombres de diez matemáticos. Búscalos:

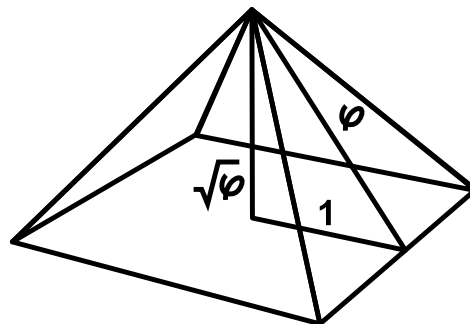
Bolzano, Cauchy, Euclides, Euler, Fermat, Gauss, Leibniz, Newton, Pitágoras y Taylor.

G	C	A	U	S	E	R	H	U	P
L	A	P	N	A	F	O	D	R	I
E	U	L	E	R	O	L	Y	A	T
U	C	O	W	O	S	Y	U	P	A
C	H	N	T	G	A	U	S	S	M
L	Y	A	O	A	Z	W	M	I	R
I	L	Z	N	T	O	E	G	B	E
D	A	L	E	I	B	N	I	Z	F
E	R	O	T	P	I	T	A	E	A
S	A	B	N	I	Z	O	R	T	N

Día a día

Sección áurea y la Gran Pirámide de Gizeh

La gran pirámide de Gizeh se construyó hace 4,500 años aproximadamente y se incluyó entre las siete maravillas del mundo, siendo la más antigua y sin embargo la única que se conserva en la actualidad.



Legendas de todo tipo han acompañado a cualquier manifestación de esta cultura fascinante y desconocida: sus dioses, sus faraones, sus jeroglíficos y, por supuesto, sus increíbles templos y construcciones funerarias nos hablan de grandeza y de misterio. Y de saberes ocultos celosamente guardados por poderosos sacerdotes.

Entre estos saberes secretos se hallan, cómo no, los conocimientos matemáticos. Mucho se ha escrito sobre las matemáticas de las pirámides, y se pueden leer todo tipo de fantásticas relaciones numéricas encarnadas en las formas y medidas de esas enormes moles de piedra. La cuestión es que efectivamente hay matemáticas, y no hay más que fijarse en la forma elegida, pero quizá no tantas como se cree. Veamos un ejemplo de estos supuestos conocimientos: imaginemos que alguien nos muestra el siguiente dibujo, en el que la letra φ representa la sección áurea.

Según el historiador griego Heródoto, la Gran Pirámide de Gizeh construyó de modo que la superficie de una cara fuese igual a la de un cuadrado que tuviese por lado la altura de la pirámide.

Es decir: el apotema de la pirámide, la distancia que va desde la cúspide de la pirámide hasta el punto medio de una de las aristas horizontales, se eligió de modo que la superficie de cada una de las caras triangulares fuese igual al cuadrado de la altura.

Tomado de: <http://www.epsilon.es/paginas/t-historias1.html>



Este capítulo fue clave porque

Aprendí a calcular el área y el volumen de figuras geométricas como la pirámide, el cono, la esfera y el cilindro.

Comprendí la importancia de aprovechar las figuras geométricas en maximizar la economía.

Aprendí a utilizar las razones trigonométricas, y su aplicación en la resolución de problemas.

Aprendí el uso de la calculadora en funciones trigonométricas

Conectémonos con Biología



Geometría en el cuerpo humano

Polígono. La sangre llega al cráneo por dos caminos o dos pares de arterias: las carótidas por delante y las vertebrales por detrás. Para evitar que la obstrucción de una de ellas dañe a un órgano tan importante como el cerebro, se comunican entre sí por otras pequeñas arterias que adoptan en la base del cráneo la forma de un hexágono: se trata del polígono de Willis. Son un muy acertado mecanismo de seguridad.

Triángulo. El triángulo de Scarpa es bien conocido por los toreros. Tiene su base en la ingle, y su vértice, hacia abajo, y puede apreciarse bien en la parte anterior e interna del muslo en las personas delgadas. Su importancia radica en que por él discurren, muy superficialmente, la arteria femoral, las venas femoral y safena interna y el nervio crural. Se considera que es uno de los lugares preferidos por el toro para cornear y sus lesiones pueden ser extremadamente graves.

Tomado de: <http://www.eltiempo.com/archivo/documento/MAM-442258>

Repasemos lo visto



Inicialmente decíamos:

Te has preguntado: ¿Qué importancia tiene la geometría en nuestra vida?

Revisamos cómo desde la Antigüedad el ser humano ha utilizado métodos de medición para solucionar sus problemas de la vida diaria y con el correr de los siglos se ha constituido la geometría en una ciencia no solo práctica sino con todo un desarrollo teórico digno de estudiar.

Las construcciones definen el ambiente físico que rodea al ser humano, y forman parte de la cultura e historia de cada civilización.

Cada construcción se diseña pensando en su funcionalidad, belleza y disposición de los volúmenes, usando figuras geométricas en su diseño.

No olvidemos que:

Las razones trigonométricas nos ayudan a resolver problemas donde podemos calcular alturas de gran longitud, sin necesidad de medir dicha altura.

$$\text{sen} = \frac{CO}{HIP}; \quad \text{cos} = \frac{CA}{HIP}; \quad \text{tan} = \frac{CO}{CA}; \quad \text{sec} = \frac{1}{\text{cos}}; \quad \text{csc} = \frac{1}{\text{sen}}; \quad \text{ctg} = \frac{1}{\text{tan}}$$

Gráficamente, podemos determinar cuándo dos figuras son semejantes, por medio del Teorema de Tales.

Es necesario tener presente las fórmulas de área y volumen de los diferentes sólidos.

Solido	Fórmula	Grafica
Prisma	Área lateral (cara lateral) $A_L = h \cdot P_B$	
	Área total $A_T = A_L + 2A_B$	
	Volumen $V = A_B \cdot h$	
Pirámide	Área lateral $A_L = n \cdot A$	
	Área total $A_T = A_B + A_L$	
	Volumen $V = \frac{1}{3}(A_B \cdot h)$	
Cilindro	Área lateral $A_L = (2 \cdot \pi \cdot r)h$	
	Área total $A_T = A_L + 2A_B = (2 \cdot \pi \cdot r)h + 2 \cdot \pi \cdot r^2 = (2 \cdot \pi \cdot r)(h + r)$	
	Volumen $V = A_B \cdot h = \pi \cdot r^2 \cdot h$	
Cono	Área lateral $A_L = \pi \cdot r \cdot g$	
	Área Total $A_T = A_L + A_B = \pi \cdot r \cdot g + \pi \cdot r^2 = \pi \cdot r(g + r)$	
	Volumen $V = \frac{1}{3}A_B \cdot h = \frac{1}{3}(\pi \cdot r^2 \cdot h)$	
Esfera	área total $A_T = 4 \cdot \pi \cdot r^2$	
	Volumen $A_T = 4\pi \cdot r^2$ $V = \frac{4}{3}\pi \cdot r^3$	

Mundo rural

Ayuda al guiado en labores agrícolas con elevado ancho de trabajo mediante AGROSAT

Con el aumento en precisión de los receptores de posicionamiento GPS, varios han sido los productos destinados al guiado de tractores en parcelas agrícolas; es un sistema de guiado cuya característica fundamental es su adaptabilidad a parcelas de geometría irregular.

Los sistemas de guiado basados en GPS

En los últimos 5 años, han surgido en el mercado productos destinados a la asistencia al guiado basados en GPS para aplicaciones agrícolas con elevado ancho de trabajo. Su principal destino ha sido la distribución de fertilizantes y la aplicación de herbicidas en parcelas cerealistas. En el resto de aplicaciones agrícolas como labores de arada, preparación del terreno, y siembra, estos productos no aportan ventajas a una conducción tradicional visual.

El total de productos que actualmente se ofertan en el mercado no supera la docena. Dichos productos, la mayoría de origen estadounidense, están orientados a trabajar en parcelas grandes y de geometría regular, e indican al operario el sentido y la magnitud de lo que tienen que mover el volante en cada momento para realizar una pasada paralela a la pasada anterior.

La empresa nacional GMV Sistemas especializada en la realización de proyectos de ingeniería avanzada y en particular de sistemas de navegación por satélite, acaba de lanzar al mercado su producto AGROSAT.

“Hemos detectado una demanda creciente de este tipo de productos en el sector, que cada vez son más solicitados ya que facilitan la labor así como la reducción de los costes de opera-

ción. Asimismo, se han cuidado al máximo distintos aspectos en el diseño del producto, como la adecuación al tipo de parcelas que se da en nuestra región y en el territorio nacional, al tiempo que se ha hecho un esfuerzo importante por facilitar en lo posible todos los aspectos de manejo del dispositivo”.

El dispositivo AGROSAT, proporciona prestaciones similares a los que ya existen en el mercado añadiendo nuevas funcionalidades: se adapta a parcelas de geometría irregular, en la Figura 1 se muestran los elementos de AGROSAT, así como su instalación en un tractor agrícola.

Instalación de AGROSAT

La instalación de AGROSAT es extremadamente sencilla. Se coloca en el salpicadero del tractor y dispone de dos entradas; una toma de corriente de 12 voltios, y el cable de la antena receptora GPS, que se coloca en la parte superior externa de la cabina del tractor.

Tomado de: http://www.mappinginteractivo.com/plantilla-ante.asp?id_articulo=1410



AGROSAT instalado en el tractor.



AGROSAT

Dato curioso



Los egipcios: primeros topógrafos

Cuando las inundaciones del Nilo dejaban cubiertas de fértil limo sus riberas, los egipcios medían la tierra para repartirla entre los cultivadores por medio triángulos y polígonos; así nació la geometría (del griego geo = tierra, metron = medida).

Los egipcios además formaban a partir de cuerdas, divididas por nudos de 3, 4 y 5 unidades de longitud, triángulos con un ángulo recto exacto.

Fue tal la importancia de su saber geométrico, que a uno de los lados del triángulo rectángulo (cateto), le llamaban “Piremus” de cuyo nombre se deriva la palabra pirámide, figura central de toda la cultura egipcia



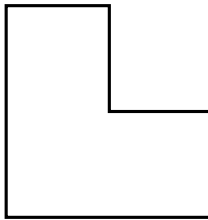
¿En qué vamos?



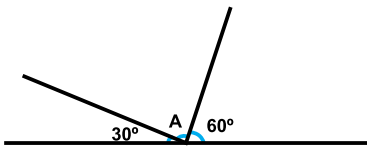
Reflexiono y trabajo con mis compañeros

Resuelve cada ejercicio en tu cuaderno.

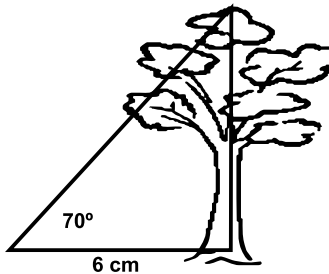
1. Un padre desea dividir el terreno de la figura entre sus cuatro hijos, pero de tal forma que a todos les toque la misma forma geométrica. ¿Cómo puede hacerlo?



2. ¿Cuál es el ángulo que forman las manecillas de un reloj si son las 12 y 15?

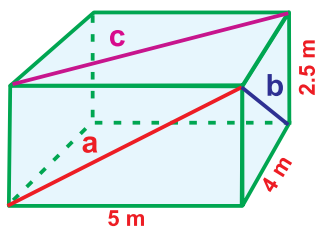


3. ¿Cuánto vale el ángulo A?
4. Un árbol proyecta una sombra de 6 m. si los rayos del Sol forman un ángulo de 70° respecto al piso, calculemos la altura del árbol.

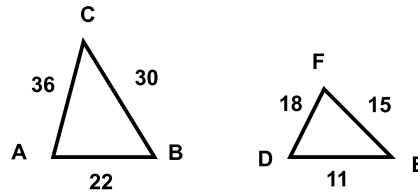


Según la figura, calcula:

5. Diagonal a.
6. Diagonal b.
7. Diagonal c.



Responde las preguntas 8, 9 y 10 a partir de las siguientes figuras:



8. Respecto al triángulo ABC es falso afirmar que:
- es un triángulo escaleno.
 - el mayor de sus ángulos es el ángulo ABC.
 - es un triángulo isósceles.
 - el menor de sus ángulos es el ángulo ACB.
9. Es posible afirmar que el triángulo ABC es semejante al triángulo DEF porque:
- poseen la misma forma y orientación
 - sus lados correspondientes son proporcionales.
 - cada lado de ABC es mayor que cada lado de DEF.
 - cada lado de ABC es menor que cada lado de DEF.
10. Para el ángulo DFE se verifica que.
- es congruente con $\angle CAB$
 - es congruente con $\angle FED$
 - es congruente con $\angle ACB$
 - es congruente con $\angle FDE$

Le cuento a mi profesor

Con tu profesor, resuelve la siguiente rejilla.

Lee el enunciado y señala con una x la categoría correspondiente, según lo que has aprendido.

Qué sé hacer	Superior	Alto	Básico	Bajo
Calculo el área lateral, total y el volumen de un prisma.				
Calculo el área lateral, total y el volumen de una pirámide.				
Calculo el área lateral, total y el volumen de un cono.				
Calculo el área lateral, total y el volumen de una esfera.				
Calculo el área lateral, total y el volumen de un cilindro.				
Resuelvo problemas que involucran el cálculo de áreas o volúmenes de sólidos.				
Resuelvo triángulos rectángulos utilizando razones trigonométricas.				
Aplico las razones trigonométricas de ángulos de 30° , 45° , 60° en la resolución de triángulos rectángulos y problemas asociados con éstos.				
Resuelvo problemas prácticos por medio de triángulos rectángulos.				
Encuentro las razones trigonométricas de un ángulo cualquiera.				
Utilizo la definición de semejanza para determinar si dos figuras son o no semejantes, utilizando el Teorema de Tales.				

Autoevaluación

Participo y aprendo	Superior	Alto	Básico	Bajo
Participo de manera activa en clase, formulando o respondiendo preguntas.				
Aplaudo las actitudes creativas que inviten a buscar nuevas soluciones a situaciones problemáticas.				
Participo activamente en los grupos de trabajo.				
Comparto mis saberes y dudas con mis compañeros.				
Fomento la disciplina dentro del grupo.				
Permito la libre discusión.				
Propongo problemas o actividades para resolver en clase.				
Repaso en casa lo suficiente, sobre lo aprendido en el colegio.				

Funciones: Lineal, cuadrática, exponencial y logarítmica, y sistemas lineales

Resolvamos

Te has preguntado: ¿Qué importancia tienen las funciones en nuestra vida?


Cuando un cuerpo se ve primero en un lugar y luego en otro, es lógico decir que se desplaza; pero si no se observó en cada instante ese cambio de posición, es difícil saber qué tan rápido lo hizo.

La velocidad es el cambio de posición en un tiempo determinado.


La aceleración es el cambio de velocidad en un tiempo determinado.

En la vida diaria, conocemos diferentes movimientos: cuando caminamos, cuando vamos en un vehículo, cuando montamos a caballo, etc.

Todas esas actividades pueden analizarse matemáticamente a través de análisis de variables que constituyen las funciones y son el objeto de estudio de esta unidad

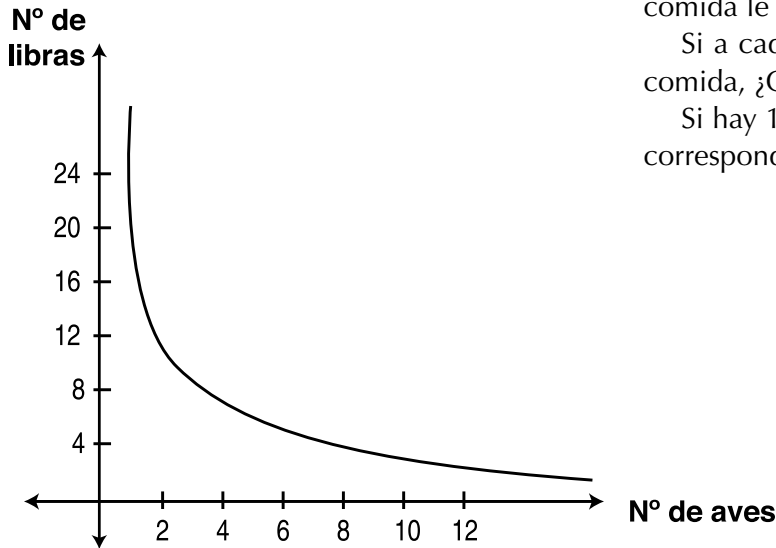


Referentes de calidad	Capítulos
Identifico relaciones entre propiedades de las gráficas y propiedades de las ecuaciones algebraicas.	1. Funciones y ecuaciones lineal y cuadrática 2. Funciones Exponencial y logarítmica
Construyo expresiones algebraicas equivalentes a una expresión algebraica dada.	
Uso procesos inductivos y lenguaje algebraico para formular y poner a prueba conjeturas	
Modelo situaciones de variación con funciones polinómicas.	
Identifico diferentes métodos para solucionar sistemas de ecuaciones lineales.	
Analizo los procesos infinitos que subyacen en las notaciones decimales.	
Identifico y utilizo diferentes maneras de definir y medir la pendiente de una curva que representa en el plano cartesiano situaciones de variación.	
Identifico la relación entre los cambios en los parámetros de la representación algebraica de una familia de funciones y los cambios en las gráficas que las representan.	
Analizo en representaciones gráficas cartesianas los comportamientos de cambio de funciones específicas pertenecientes a familia de funciones polinómicas, racionales, exponenciales y logarítmicas.	



Funciones lineal y cuadrática

Pedro tiene un galpón y ha registrado la relación existente entre el número de aves y ración de comida, en libras, por ave.

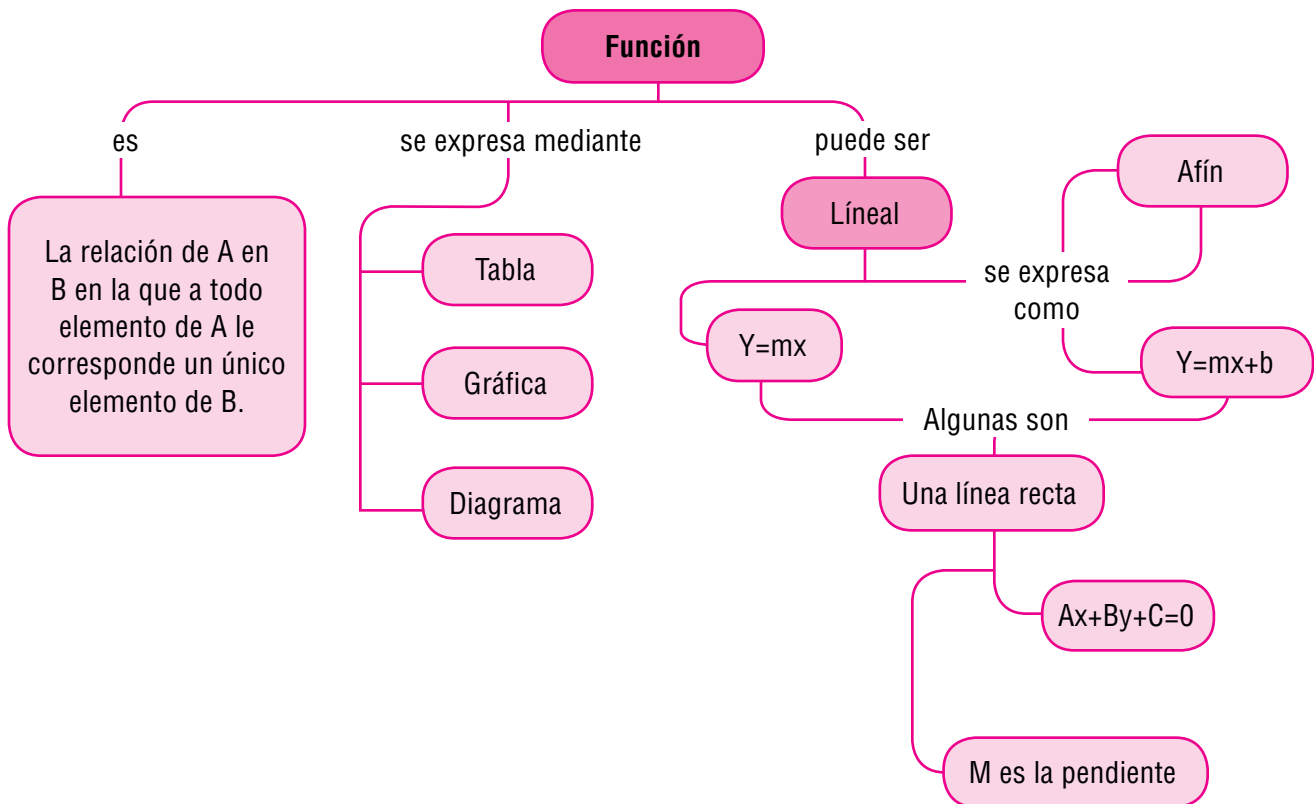


En gráficas como ésta puedes encontrar la información que da respuesta a algunas preguntas como:

Si en el corral hay 6 aves, ¿Cuántas raciones de comida le corresponden a cada una?

Si a cada ave le corresponden dos raciones de comida, ¿Cuántas aves hay en el corral?

Si hay 10 aves, ¿Cuántas raciones de comida le corresponden a cada una?



Tema 1. Funciones y ecuaciones lineales



Indagación

¿Mi velocidad de crecimiento y mi peso están relacionados?



Las tablas de crecimiento son cuadros de medidas que permiten valorar y comparar el crecimiento de niños, jóvenes y adultos en relación con un grupo estándar. Las tablas de crecimiento aceptadas a nivel nacional se basan en datos de mediciones recopilados por el Centro Nacional de Estadísticas en Salud. Los parámetros que se miden, principalmente en ellas son la estatura y el peso.

En los niños y jóvenes deportistas es especialmente importante hacer un seguimiento permanente de los cambios de peso y estatura. Esto se realiza mediante la elaboración de las curvas de crecimiento y aumento de peso, elaboradas por los médicos y nutricionistas, las cuales se basan en las tablas y gráficas de crecimiento del Instituto Colombiano de Bienestar Familiar (ICBF). Analicemos la tabla siguiente:

Velocidad de crecimiento al año		
Edad (años)	Estatura (cm)	Peso (kg)
10-11	6	4
11-12	6.5	5
12-13	6.5	5
13-14	7	5
14-15	6	6.5
15-16	4	5.5
16-17	3	4
17-18	1.5	3

1. Qué sucede con el peso de un adolescente a medida que aumenta su edad?
2. Qué sucede con la estatura de un adolescente a medida que aumenta su edad?
3. Identifica la variable independiente y la variable dependiente de la tabla anterior.
4. Entre qué edades se espera que un adolescente crezca más rápido?

Función (f) a la relación entre un conjunto dado X (llamado dominio) y otro conjunto de elementos Y (llamado codominio) de tal forma que a cada elemento x del dominio le corresponde un único elemento $f(x)$ del codominio (los que forman el recorrido, también llamado rango o ámbito).



Conceptualización

Observa la siguiente grafica y con tus compañeros de grupo resuelve:



1. ¿Cuál es el límite mínimo de la frecuencia del pulso para una persona de 20 años?
2. ¿Cuál es el límite máximo de la frecuencia del pulso para una persona de 20 años?
3. ¿Cuál es el límite máximo de la frecuencia del pulso para una persona de 45 años?
4. ¿Cuál es el límite mínimo de la frecuencia del pulso para una persona de 50 años?

Representación gráfica de funciones

Analicemos las situaciones siguientes:

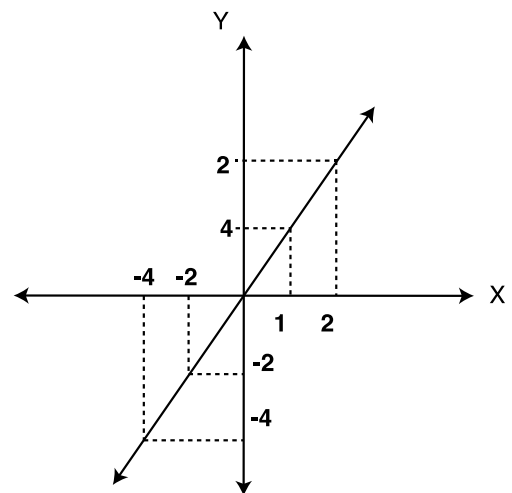
Dada la función: $y = 2x$, ésta puede representarse en el plano cartesiano, así:

Escribimos la expresión algebraica es $y = 2x$, construimos una tabla de valores y después graficamos.

Tabla de valores

x	y	(x,y)
2	4	(2,4)
1	2	(1,2)
0	0	(0,0)
-1	-2	(-1,-2)
-2	-4	(-2,-4)

Gráfica $y = 2x$



Se va dando valores arbitrarios a x

Se calcula el valor de y reemplazando x en $y = 2x$

Se escriben las parejas o puntos (x, y)

Toda función se puede representar por:

- Una expresión algebraica
- Una tabla de valores
- Una gráfica

La ecuación lineal es de la forma $y = ax + b$

Para graficar una ecuación de la forma $y = ax + b$, se construye una tabla dándole valores a x y determinamos los valores de y . Señalamos dichos valores en un plano cartesiano y graficamos. (Mínimos se necesitan 2 puntos para trazar una gráfica).

Analicemos la siguiente ecuación

$$y = 3x + 2$$

x	0	1	2	-1
y	2	5	8	-1

Si la ecuación no está de la forma: , se puede encontrar de la forma general:

Cómo se grafican estas ecuaciones?

Buscamos las intersecciones con los ejes x e y .

Para determinar la intersección con el eje y , le damos el valor de 0 a x , y despejamos y

Así por ejemplo:

$$3x = 6y - 12, \text{ si } x=0, \text{ entonces}$$

$$3 \cdot 0 = 6y - 12,$$

$$0 = 6y - 12$$

$$12 = 6y$$

$$2 = y.$$

La intersección con el eje Y , ocurre en el punto $(0,2)$

Para determinar la intersección con el eje x , le damos el valor de 0 a y , y despejamos x

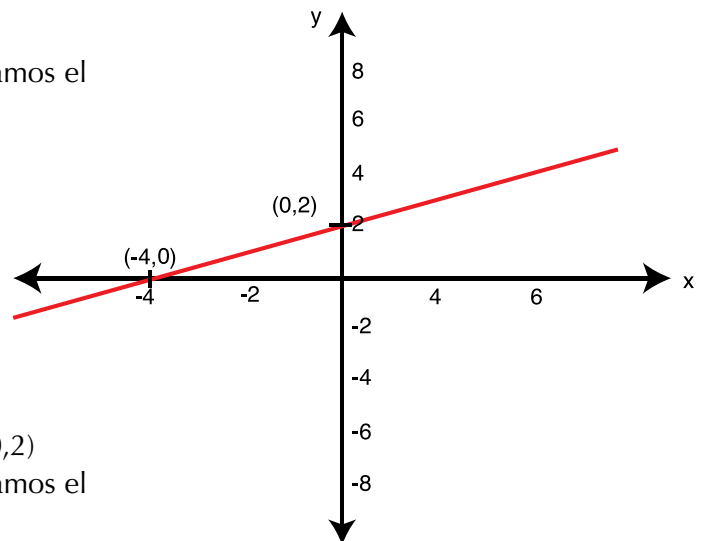
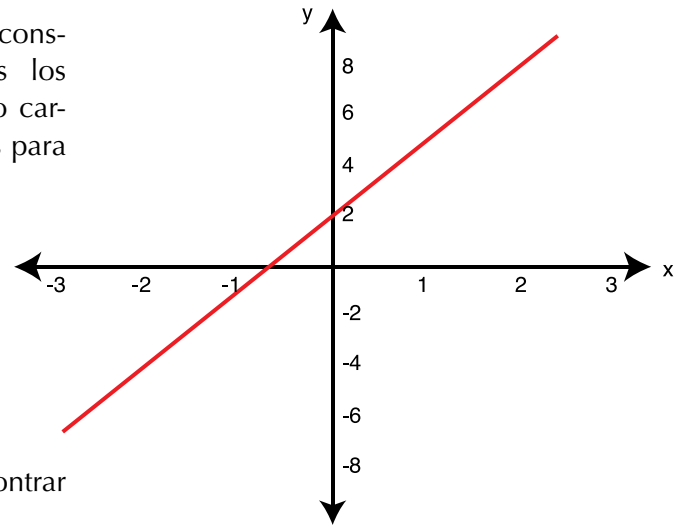
$$3x = 6y - 12$$

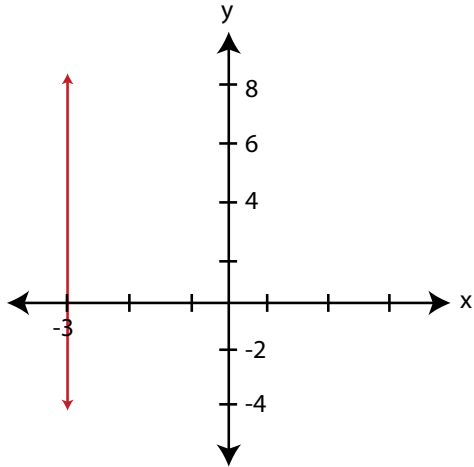
$$\text{si } y=0, \text{ entonces, } 3x = 6(0) - 12$$

$$3x = 0 - 12$$

$$3x = -12$$

$$x = \frac{-12}{3} = -4$$

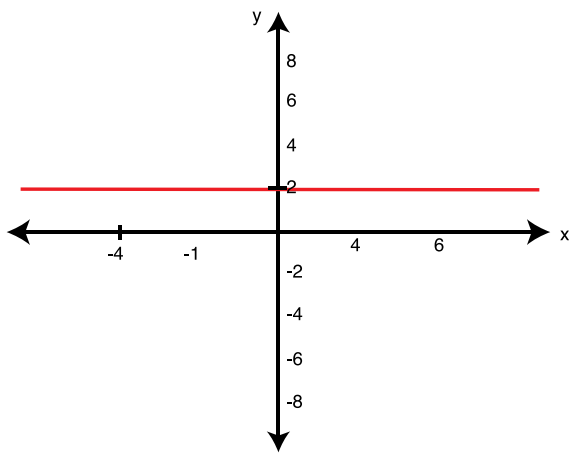




La intersección con el eje x, ocurre en el punto $(-4,0)$.
 La gráfica de la ecuación de la forma $x = a$, será una recta vertical paralela al eje y

Representemos la ecuación $x = -3$
 Para cada valor de y, x siempre será $= -3$:

$(-3,0)$; $(-3,1)$; $(-3,2)$; $(-3,-1)$; $(-3,-3)$;



La gráfica de la ecuación de la forma $y = b$, dará una recta vertical paralela al eje x

Representemos $y = 2$
 Para cada valor de x, y siempre será $= 2$

$(0,2)$; $(-1,2)$; $(-2,2)$; $(3,2)$; $(1,2)$;

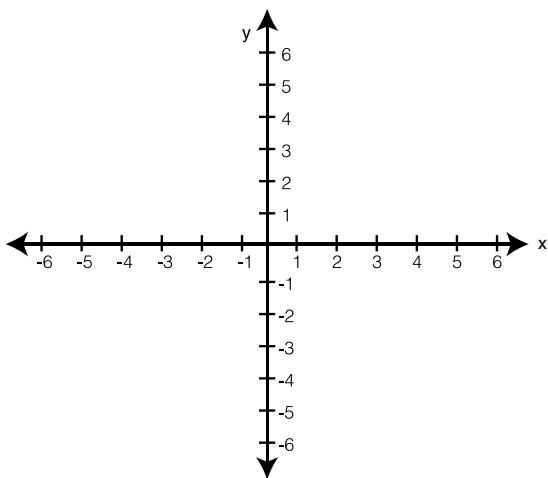


Aplicación

En forma individual, realiza los ejercicios siguientes y después compara tu trabajo con el realizado por tus compañeros.

Para cada una de las funciones siguientes, completa la tabla de valores y realiza la gráfica correspondiente

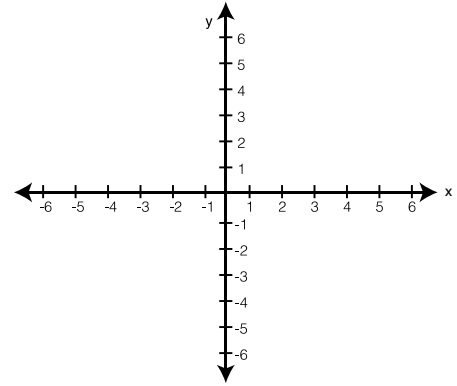
1. $2x = y$ Esta función puede escribirse como $y = 2x$



x					
y					

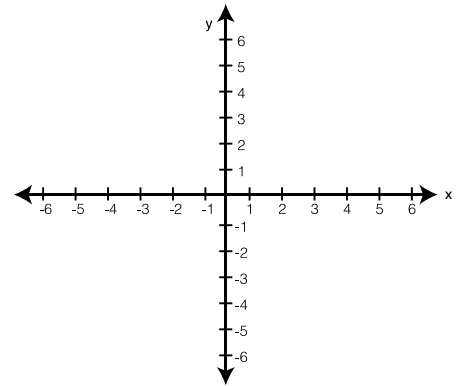
2. $y = -2x + 5$

x					
y					



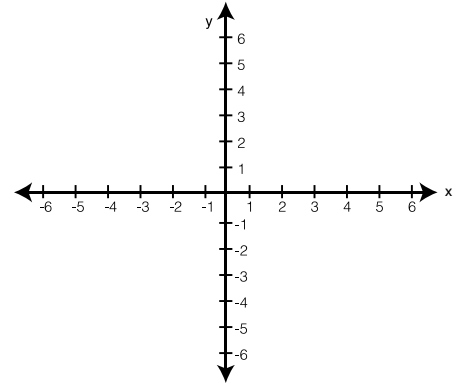
3. $y = -5$

x					
y					



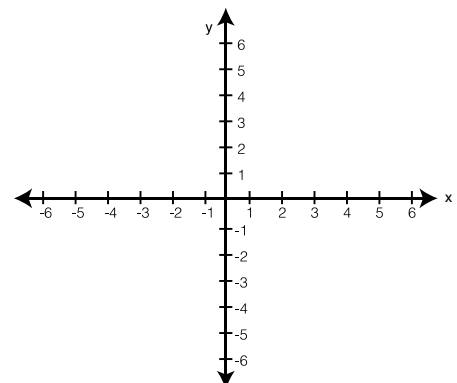
4. Si $3y = -6$ entonces $y =$ _____

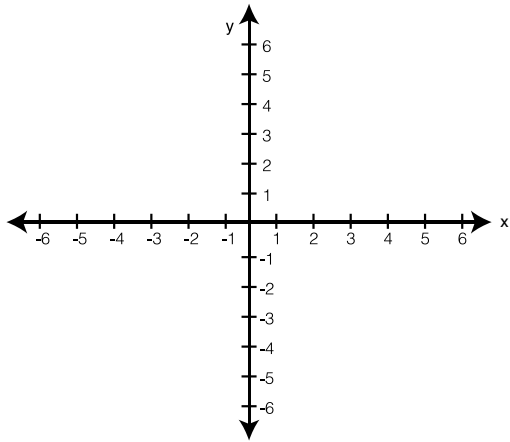
x	0	0.5	1	-1	-2
y					



5. $2x + 1 = 6$

x					
y					





6. $2x = 6$

x									
y									

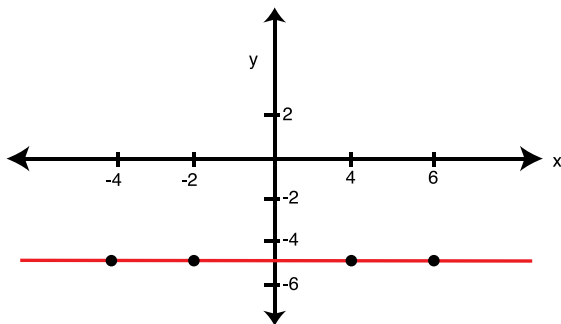
7. En las 10 primeras semanas de cultivo de una planta, que medía 2 cm, se ha observado que su crecimiento es directamente proporcional al tiempo, viendo que en la primera semana ha pasado a medir 2.5 cm. Establece una función a fin que dé la altura de la planta en función del tiempo y representarla gráficamente.

x (semanas)	1	2	3	4						
y (crecimiento en cm)	2.5 cm									

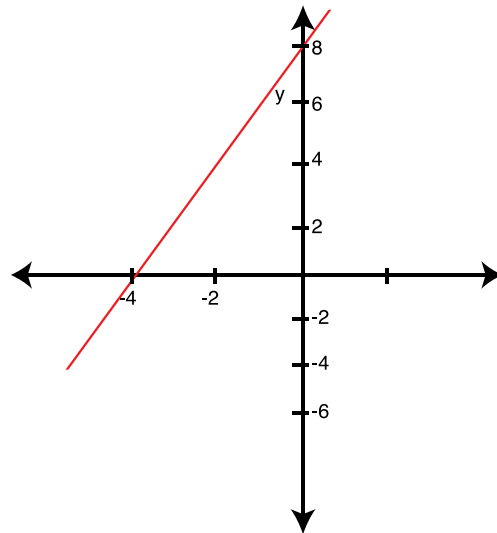
Función: _____

Escribe la expresión algebraica que se encuentra representada en cada plano cartesiano:

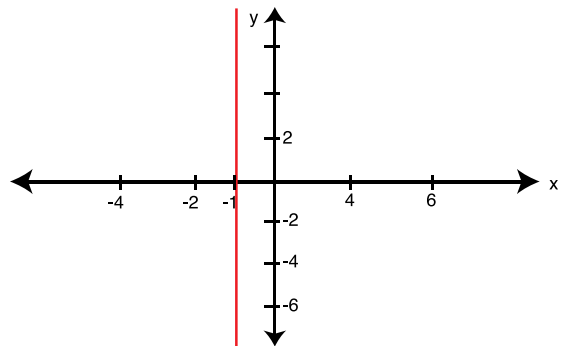
8.



10.

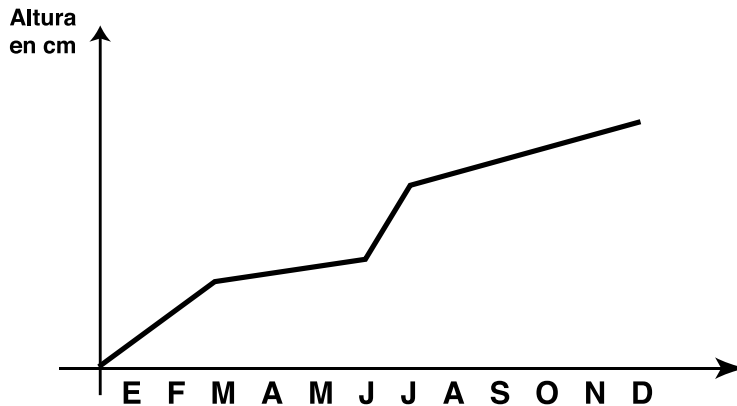


9.



Pendiente de una recta

La siguiente grafica representa el crecimiento de un árbol durante un año.



En la gráfica observamos que cada pedazo tiene su propia inclinación.

Ahora contesta:

¿En cuáles meses se produjo el mayor crecimiento del árbol?

¿Fue uniforme el crecimiento del árbol?

¿En cuáles meses se produjo el menor crecimiento del árbol?

Para ver qué tan inclinada está una recta, es decir, “qué tan pendiente” está una recta, procedemos así:

Tomamos dos puntos de ella, por ejemplo los puntos $P(2,3)$ y $Q(4,6)$. En el triángulo rectángulo que se forma, establecemos la razón entre sus catetos opuesto y adyacente al ángulo P y la llamamos m .

Esto es:

$$m = \frac{6-3}{4-2} = \frac{3}{2} = 1.5$$

En general, si llamamos (x_1, y_1) a P y (x_2, y_2) a Q ,

Esto es: $(x_1, y_1) = P$ y $(x_2, y_2) = Q$,

expresaremos la pendiente $m = \frac{y_2 - y_1}{x_2 - x_1}$

La pendiente m sirve para determinar la ecuación de la recta.

¿Cuál es la ecuación de la recta que pasa por los puntos $P(2,3)$ y $Q(4,6)$?

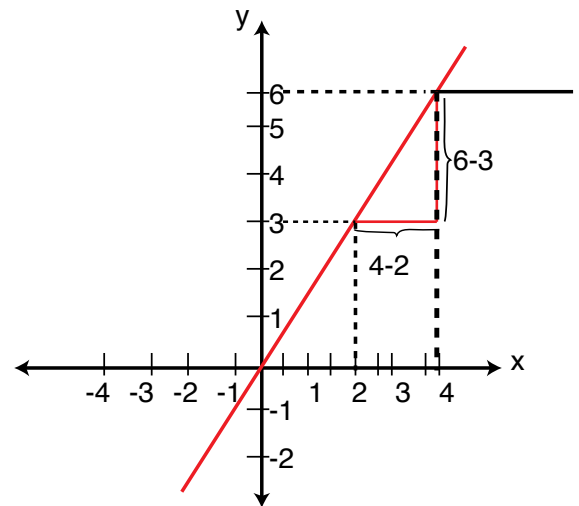
Hemos dicho que: $m = \frac{y_2 - y_1}{x_2 - x_1}$, de donde podemos

decir que $m(x_2 - x_1) = (y_2 - y_1)$

Sabemos que $m = \frac{y_2 - y_1}{x_2 - x_1} = \frac{6 - 3}{4 - 2} = \frac{3}{2}$

Reemplazado un punto de la recta, por ejemplo $P(2,3)$ y

$$m = \frac{3}{2} \text{ en } m = \frac{y_2 - y_1}{x_2 - x_1} \text{ tenemos: } \frac{3}{2} = \frac{y_2 - 3}{x_2 - 2} .$$



Por la ley fundamental de las proporciones nos queda:

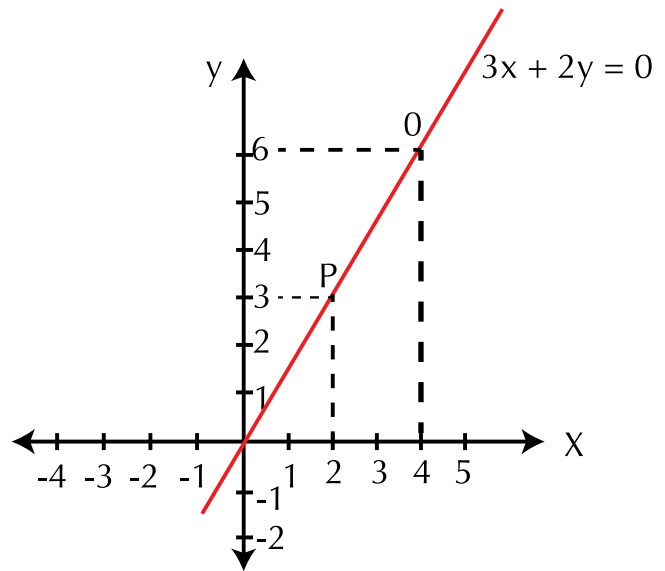
$$3(x_2 - 2) = 2(y_2 - 3)$$

$$3x_2 - 6 = 2y_2 - 6$$

$$3x_2 - 2y_2 = -6 + 6$$

$$3x_2 - 2y_2 = 0$$

Que podemos escribir como: $3x_2 - 2y_2 = 0$

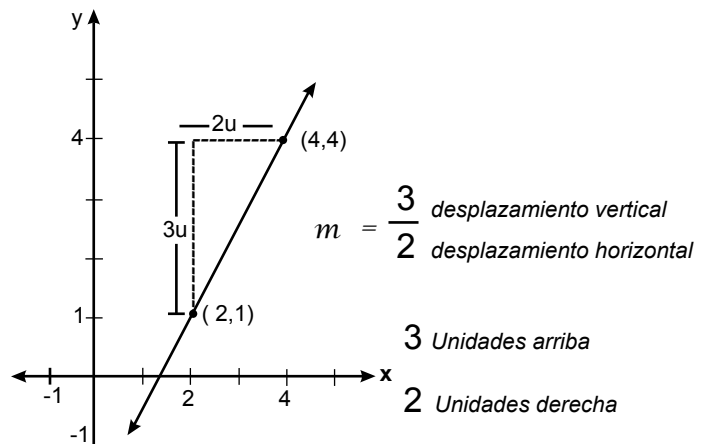
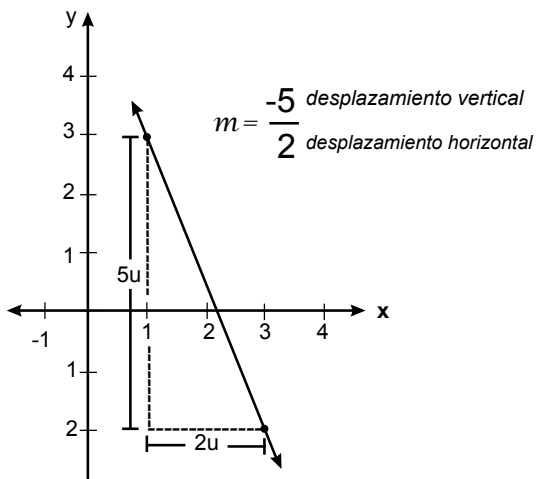


La ecuación de la recta dados: su pendiente m y un punto (x_1, y_1) es $y - y_1 = m(x - x_1)$ y se conoce con el nombre de ecuación de la forma punto pendiente.

En general, la ecuación de la recta que pasa por el punto (x, y) y tiene pendiente m es: $y = mx + b$ en donde m es la pendiente y b es el punto de intersección de la recta con el eje Y

Sobre el plano cartesiano, la pendiente muestra el desplazamiento tanto vertical como horizontal

Para representar las rectas, primero se ubica el punto dado y a partir de allí, se realizan los desplazamientos horizontal y vertical que indique la pendiente, así:



Posiciones de dos rectas en el plano

1. **Paralelas:** Si dos rectas tienen la misma pendiente, entonces son paralelas.

Analicemos si las dos rectas: $y = 3x + 1$ y $2y = 6x + 4$ son paralelas.

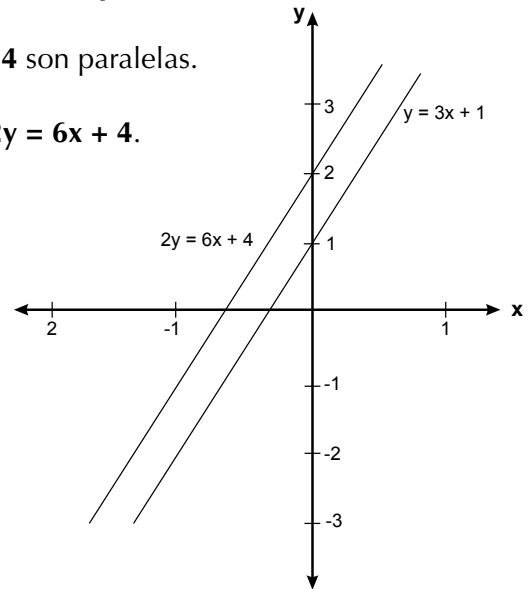
La pendiente de la recta $y = 3x + 1$ es $m_1 = 3$

Ahora, veamos cómo es la pendiente de la ecuación $2y = 6x + 4$.

Despejando la incógnita y tenemos:

$$y = \frac{6x+4}{2} = \frac{6x}{2} + \frac{4}{2} = \frac{6x}{2} + \frac{4}{2} = 3x+2$$

Como $2y = 6x + 4$ es equivalente a $y = 3x+2$ y su pendiente es $m_2 = 3$, concluimos son paralelas.



Perpendiculares: Si la pendiente de una es el recíproco negativo de la otra, lo cual significa que dos rectas son perpendiculares si su producto es -1 .

Analicemos si las dos rectas: $3y + 2x = -1$ y $2y - 3x = -1$ son perpendiculares.

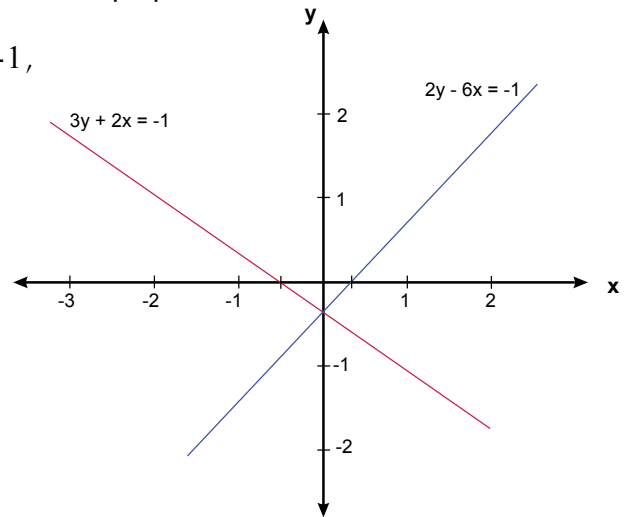
De la ecuación $3y + 2x = -1$ tenemos: $y = \frac{-2}{3}x - 1$,

luego su pendiente es $m_1 = \frac{-2}{3}$

De la ecuación $2y - 3x = -1$ tenemos: $y = \frac{3}{2}x - 1$,

luego su pendiente es $m_2 = \frac{3}{2}$

Por lo tanto: $m_1 \cdot m_2 = \frac{-2}{3} \cdot \frac{3}{2} = -1$



Concluimos que las rectas $3y + 2x = -1$ y $2y - 3x = -1$ son perpendiculares.

Sistemas de ecuaciones lineales con dos incógnitas

Cuando tenemos un sistema de dos ecuaciones, cada una de ellas con dos incógnitas (x,y u otras letras), puede ser que al graficarlas nos resulten:

Paralelas, lo que significa que no tienen puntos comunes, entonces no tienen solución.

Intersecantes en un punto es decir que se corten en un punto y ese punto es la solución de ellas porque nos da el valor para cada incógnita.

Que coincidan en todos los puntos, entonces son la misma ecuación y tendrán infinitas soluciones.

Existen varios métodos para la solucionar un sistema de ecuaciones lineales con dos incógnitas y pueden utilizarse cualquiera de ellos, pero no olvides siempre verificar su solución.

Estos métodos son: Gráficamente, por sustitución, por igualación o por reducción.

Gráficamente o método gráfico

En la compra de un cuaderno y un lapicero se pagan \$8,000, ¿cuál es el precio de cada artículo, si la diferencia de ambos es de \$2,000?

Seguramente puedes dar una respuesta inmediata.

Organicemos los datos:

Cuaderno = x Precio del cuaderno

Lapicero = y Precio del lapicero

Las ecuaciones son:

$$x + y = 8,000 \text{ (Ecuación 1)}$$

$$x - y = 2,000 \text{ (Ecuación 2)}$$

Estas dos ecuaciones son las que representan la situación del problema.

Las ecuaciones 1 y 2 forman un sistema de ecuaciones de primer grado, llamadas también ecuaciones simultáneas de primer grado con dos incógnitas.

Analicemos cómo se resuelve el sistema de ecuaciones que representan la situación del problema, por método gráfico:

$$x + y = 8,000$$

$$x - y = 2,000$$

Despejando la y de la ecuación 1 se tiene: $y = 8,000 - x$

Despejando a y de la ecuación 2 se tiene: $-y = 2,000 - x$, es decir, $y = -2,000 + x$

Para efectos de tabulación y de gráfica vamos a adoptar una escala de 1:1,000, es decir cada valor de las parejas representa unidades de mil y cada punto de las rectas en el gráfico también representa miles.

Tabulando estas dos expresiones con $x = 1000, 2000, 3000, 4000$, se obtiene:

Tabulación de la ecuación 1

$$y = 8,000 - x$$

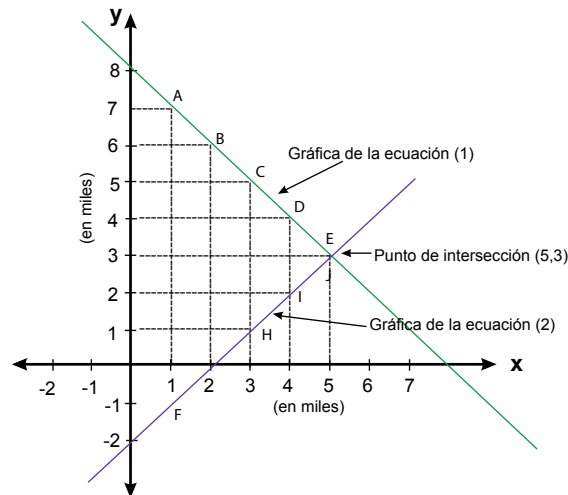
x	y	Punto (x,y)
1	7	A(1,7)
2	6	B(2,6)
3	5	C(3,5)
4	4	D(4,4)
5	3	E(5,3)

Tabulación de la ecuación 2

$$y = x - 2,000$$

x	y	Punto (x,y)
1	-1	F(1,-1)
2	0	G(2,0)
3	1	H(3,1)
4	2	I(4,2)
5	3	J(5,3)

Localizando los puntos A, B, C, D, E, F, G, H, I y J en el plano cartesiano, tenemos:



Observemos que las gráficas de las ecuaciones se cortan en un lugar que corresponde a los puntos E y J; por lo tanto, las coordenadas de dicho punto son $x=5$ y $y=3$.

Como 5 y 3 representan miles, entonces la solución al problema es: $x = 5,000$; $y = 3,000$.

En el sistema que representa la situación del problema, se sustituyen las dos variables por los valores hallados, para comprobar que la solución es correcta.

Reemplazamos en la ecuación 1:

$$\begin{aligned}x + y &= 8,000 \\5,000 + 3,000 &= 8,000 \\8,000 &= 8,000\end{aligned}$$

Reemplazamos en la ecuación 2

$$\begin{aligned}x - y &= 2,000 \\5,000 - 3,000 &= 2,000 \\2,000 &= 2,000\end{aligned}$$

De acuerdo con lo anterior, el precio de cada artículo es: **Cuaderno: \$5,000** y **lapicero: \$3,000**

De esta forma, se dice que el sistema es compatible o consistente, cuando en las gráficas se cortan las rectas en un punto de intersección.

Concluyendo, podemos decir que:

El método gráfico consiste en trazar la gráfica que corresponde a cada ecuación, en el plano cartesiano, determinar el punto en que se cortan dichas gráficas, que es su solución y que pertenece simultáneamente a las dos rectas trazadas.

Método de Sustitución



En la mesa **A** se sirvieron 3 jugos de frutas y 2 limonadas y se pagaron \$13 500.

En la mesa **B** se sirvieron 2 jugos y una limonada, la cuenta fue de \$8 500.

¿Cuál es el valor de un jugo y cuál el valor de una limonada?

Haz algunos tanteos sucesivos, antes de proceder con lápiz y papel y llama **j** al jugo y **l** a la limonada.

La ecuación para la mesa **A** es: $3j + 2l = 13,500$ Ecuación 1

La ecuación para la mesa **B** es: $2j + 1l = 8,500$ Ecuación 2

Despejamos la incógnita **l** en Ecuación 2: $l = 8\,500 - 2j$

Reemplazamos o sustituimos en Ecuación 1 el valor encontrado para **l**

$$\begin{aligned} 3j + 2(8,500 - 2j) &= 13,500 \\ 3j + 17,000 - 4j &= 13,500 \\ 3j - 4j &= 13,500 - 17,000 \\ -j &= -3\,500 \\ j &= 3,500 \end{aligned}$$

Ahora reemplazamos el valor de **j** en Ecuación 1:

$$\begin{aligned} 3j + 2l &= 13,500 \\ 3(3,500) + 2l &= 13,500 \\ 7,000 + 2l &= 13,500 \\ 2l &= 13,500 - 7,000 \\ 2l &= 6,500 \\ l &= 6,500 \div 2 \\ l &= 3,250 \end{aligned}$$

El procedimiento general del método de sustitución consiste en:

1. Despejar una variable en función de la otra, en alguna de las dos ecuaciones.
2. Sustituir la variable despejada en la otra ecuación.
3. Resolver la ecuación resultante, y encontrar el valor de una variable.
4. Sustituir el valor hallado en cualquiera de las ecuaciones originales del sistema, para encontrar el valor de la otra variable.
5. Comprobar en ambas ecuaciones los valores encontrados.

Método de igualación

Analicemos la situación siguiente:

Isidro y Juan sembraron maíz en parcelas contiguas. Si juntas miden 860 m^2 de área y la parcela de Isidro mide 120 m^2 más que la de Juan, ¿cuál es el área de cada parcela?

Solución:

Se simbolizan las incógnitas con variables:

x = área parcela de Isidro

y = área parcela de Juan

Planteando el problema por medio de un sistema de ecuaciones se tiene:

$$x + y = 860$$

$$x = y + 120$$

Si se despeja en ambas ecuaciones la misma incógnita, se tendrá:

$$x = 860 - y \quad x = y + 120$$

Como el primer miembro en ambas ecuaciones es el mismo, en este caso es x , se igualan los segundos miembros y se halla el valor de una incógnita.

$$\left. \begin{array}{l} x = 860 - y \\ x = y + 120 \end{array} \right\} \text{ De aquí concluimos que } \begin{array}{l} 860 - y = y + 120 \\ 860 - 120 = y + y \\ 740 = 2y \\ y = 370 \end{array}$$

Al sustituir el valor de y en alguna de las dos ecuaciones se encuentra el valor de la otra incógnita.

$$\begin{array}{l} x = y + 120 \\ x = 370 + 120 \\ x = 490 \end{array}$$

Por tanto, la parcela de Isidro mide 490 m^2 y la de Juan 370 m^2 .

Al comprobar los valores encontrados en las dos ecuaciones, se tiene:

$$\begin{array}{ll} x + y = 860 & x = y + 120 \\ 490 + 370 = 860 & 490 = 370 + 120 \\ 860 = 860 & 490 = 490 \end{array}$$

El procedimiento general del método de igualación consiste en:

1. Se despeja en ambas ecuaciones la misma incógnita.
2. Se igualan los segundos miembros y se halla el valor de una incógnita.
3. Se sustituye este valor en alguna de las ecuaciones para hallar el valor de la otra incógnita.
4. Se comprueban los valores encontrados en las dos ecuaciones.

Por reducción o cancelación

Solucionemos el sistema de ecuaciones:

$$\begin{aligned} x + 2y &= 10 \\ -x + y &= -1 \end{aligned}$$

Se observa en el sistema anterior que las x son simétricas, por lo cual es posible sumar ambas ecuaciones y eliminar dicha literal.

$$\begin{aligned} x + 2y &= 10 \\ -x + y &= -1 \\ \hline 0 + 3y &= 9 \end{aligned}$$

dividiendo por 3 ambos miembros de la igualdad $3y = 9$, obtenemos $y = 3$
Sustituyendo el valor de y en una de las ecuaciones, se puede obtener el valor de x:

$$\begin{aligned} x + 2y &= 10 \\ x + 2(3) &= 10 \\ x + 6 &= 10 \\ x + 6 - 6 &= 10 - 6 = 4 \end{aligned}$$

Comprobamos sustituyendo ambos valores en la segunda ecuación:

$$\begin{aligned} -x + y &= -1 \\ -4 + 3 &= -1 \\ -1 &= -1 \end{aligned}$$

El procedimiento general del método de reducción o cancelación consiste en:

- | | |
|---|--|
| <ol style="list-style-type: none"> 1. Eliminar una de las dos incógnitas por medio de la suma o resta de las ecuaciones. | <ol style="list-style-type: none"> 2. Sustituir el valor encontrado en una de las ecuaciones. 3. Comprobar los resultados en la otra ecuación. |
|---|--|



Aplicación

Copia los ejercicios siguientes en tu cuaderno, resuélvelos y compara tus respuestas con algunos compañeros.

Resuelve por el método gráfico:

1. Un joven compró 2 conejos y un pollo, pagó por ello \$ 35,000. Otro joven adquirió 1 conejo y 3 pollos y le cobraron un total de \$ 35,000. ¿Cuál era el precio de cada conejo y de la gallina, si los objetos eran idénticos?

$$2. \begin{cases} 4x + 3y = 2 \\ -3x - 2y = -1 \end{cases}$$

Resuelve por el método de sustitución:

3. María vende pollos en el mercado. Los pollos pequeños los vende a \$ 12 000 y los más grandes a \$20 000. Al finalizar el día había vendido un total de 9 pollos y recaudó \$ 140 000. ¿Cuántos pollos de cada tamaño vendió?

$$4. \begin{cases} 2x + y = 9 \\ x - y = 3 \end{cases}$$

Resuelve por el método de Igualación

5. Pedro y Armando empaican fruta en cajas. Las cajas de pera deben pesar 25 kg y las de manzana 40 kg; al terminar su turno han empaicado entre los dos un total de 25 cajas con un peso de 790 kg. ¿Cuántas cajas de pera empaicaron y cuántas de manzana?

$$6. \begin{cases} 8x - 3y = 7 \\ 8y - 3x = 18 \end{cases}$$

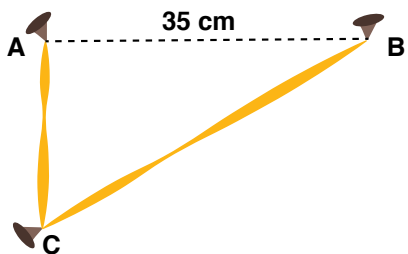
Resuelve por el método de reducción

$$7. \begin{cases} 6x - 4y = 12 \\ 3x + y = 9 \end{cases}$$

8. Juan compró 2 lechugas y una papaya, pagó por ello \$ 10,000 y Luís compró 1 lechuga y 1 papaya iguales a las de Juan, en \$ 6,000. ¿Cuánto cuesta cada lechuga y cada papaya?

Resuelve por el método que tú quieras

9. Una pita de 49 cm de largo se fija a tres clavos como lo indica el dibujo. Los clavos A y B están separados 35 cm y el clavo C se colocó para tensionar la pita y formar en A un ángulo recto. Así se tiene que el triángulo ABC es rectángulo. Calcula las longitudes AC y BC.
Pista: Utiliza el teorema de de Pitágoras.
Además tú sabes que: $y^2 - x^2 = (y + x)(y - x)$



10.
$$\begin{cases} \frac{1}{4}x + \frac{1}{3}y = 6 \\ x + \frac{2}{3}y = 16 \end{cases}$$

Entendemos por...

Rectas paralelas aquellas que nunca se cortan. Las líneas rectas que tienen la misma pendiente son paralelas.

Rectas perpendiculares aquellas que se cortan formando cuatro ángulos rectos. El producto de las pendientes de dos rectas perpendiculares es igual a -1.

Diversión matemática

Números narcisistas

El número 153 tiene la propiedad de ser igual a la suma de los cubos de sus cifras, así:


$$1^3 + 5^3 + 3^3 = 1 + 125 + 27 = 153. \text{ Esta propiedad también la cumplen: } 370, 371 \text{ y } 497. \text{ Compruébalo.}$$

Día a día

El sonido es cualquier fenómeno que involucra la propagación en forma de ondas elásticas audibles o casi inaudibles, a través de un medio elástico que genera el movimiento vibratorio de un cuerpo. La propagación del sonido implica transporte de energía en forma de ondas mecánicas que se propagan a través de la materia sólida, líquida o gaseosa. La velocidad de propagación del sonido varía dependiendo de los cambios de temperatura del medio a través del cual viajan las ondas sonoras.

Por ejemplo, sobre una superficie nevada, el sonido se desplaza atravesando grandes distancias, debido a las refracciones producidas bajo la nieve. Cada capa de nieve tiene una temperatura diferente. Así las capas más profundas donde no llega el sol, están más frías que las superficiales, y por tanto, en estas el sonido se propaga con menor velocidad. En el aire, la velocidad del sonido a una temperatura de 20°C es de 343 m/s, en tanto que a 0°C, la velocidad es de 331 m/s, y por cada grado que se incrementa la temperatura del aire, la velocidad del sonido aumenta 0,6 m/s.

Tomado de Supermat Matemáticas 7-Ed. Voluntad



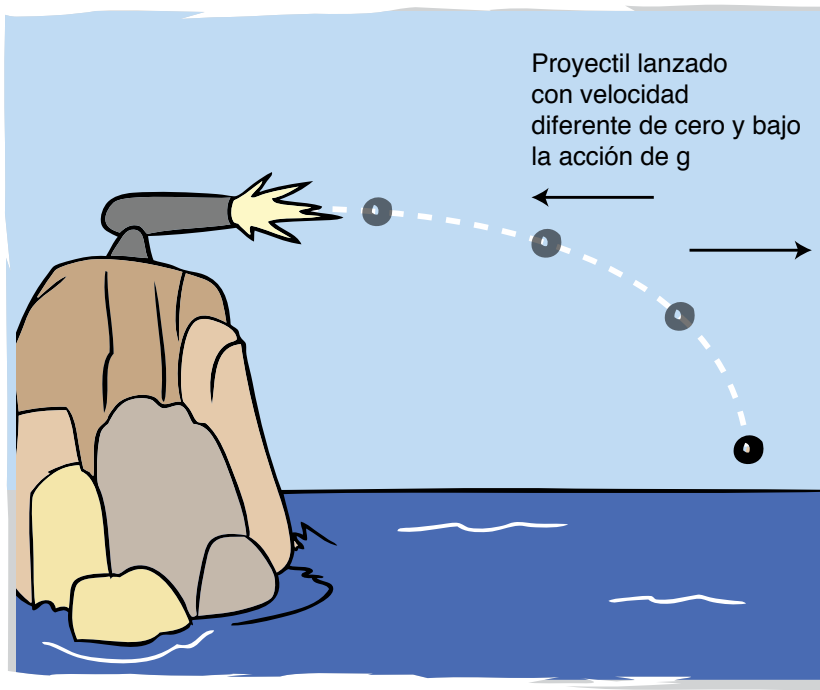
Tema 2. Funciones y ecuaciones Cuadráticas



Indagación

Analicemos la situación siguiente:

La trayectoria de un proyectil, ¿Es una ecuación de segundo grado?



La descripción de la trayectoria de un proyectil desde su salida hasta el punto en donde toca al suelo, fue uno de los grandes problemas de la ingeniería militar medieval.

En la edad Media se creía que los proyectiles ascendían oblicuamente hasta que se gastaba su provisión de ímpetu, una especie de fuerza que le imprimía la pólvora a la bala. Agotado el ímpetu, el proyectil caía perpendicularmente al suelo.

Esta teoría del movimiento entraba en desacuerdo con la observación: los proyectiles parecían describir una curva y no una línea quebrada.

La moderna teoría del movimiento, que aparece con Galileo, debe muchos de sus logros al problema del movimiento del proyectil.

Desde el siglo XVII se sabe que la trayectoria de un proyectil es una curva de segundo grado.

A partir de entonces, muchos de los problemas relacionados con estas trayectorias se resuelven usando Ecuaciones Cuadráticas.



Conceptualización

Existen problemas que se modelan con una ecuación lineal o con un sistema de ecuaciones lineales o con una ecuación cuadrática, llamada también ecuación de segundo grado.

Ejemplo: Se sabe que el cuadrado de un número es igual al doble de dicho número.

¿Cómo expresas el cuadrado de un número cualquiera?

¿Cómo expresas el doble de dicho número?

Si llamamos x al número, entonces llamaremos x^2 al cuadrado de x .

Si llamamos x al número, entonces llamaremos $2x$ al doble de x .

Como en nuestro ejemplo estos dos valores son iguales, entonces, la expresión matemática que representa esta situación será $x^2 = 2x$

Igualando a cero, es decir, restando $2x$ a ambos lados de la igualdad tenemos: $x^2 - 2x = 2x - 2x$

Por tanto resulta: $x^2 - 2x = 0$

Esta expresión es una ecuación de segundo grado, ya que el exponente mayor de x es 2.

La forma general de la ecuación completa de segundo grado es $ax^2 + bx + c = 0$

en donde x es la incógnita, a, b, c son las constantes, ax^2 es el término cuadrático, bx es el término lineal y c es el término independiente.

Ejemplos de ecuaciones de segundo grado son:

1. $x^2 + 3x - 15 = 0$

2. $4x^2 - 7 = 0$

3. $3x^2 + 4x = 0$

4. $x^2 + 5x = 18$ **equivale a** $x^2 + 5x - 18 = 0$


5. $3x^2 = -19$

Una ecuación que tiene todos sus términos se llama completa y si le falta alguno se llama incompleta. Así, en los ejemplos anteriores, las ecuaciones: 1 y 4 son completas y las ecuaciones 2, 3 y 5 son incompletas.

Solución de ecuaciones cuadráticas completas

Analicemos la situación siguiente:

Andrea es 4 años mayor que Juan. Si el producto de sus edades es 45,



¿cuál es la edad de Juan?

Solución:

Supongamos que x es la edad de Juan.

Como Andrea es 4 años mayor, entonces su edad podemos representarla con la expresión $x + 4$.

Además, el problema plantea que el producto de las edades de Andrea y Juan es igual a 45, por tanto escribimos: $x(x + 4) = 45$

Lo que equivale a: $x(x) + x(4) = 45$
 $x^2 + 4x = 45$

Veamos cómo la factorización es una buena estrategia para encontrar las raíces de una ecuación de segundo grado.

Igualamos a cero: $x^2 + 4x - 45 = 0$

Factorizamos la expresión de la izquierda, $(x + \quad)(x - \quad)$ buscando dos números que multiplicados den 45 y que restados den 4.

Entonces nos queda: $(x + 9)(x - 5) = 0$

Para que el producto de los dos paréntesis sea 0, uno de los factores debe ser 0, o los dos.

Si $(x + 9) = 0$, ya tienes una solución: $x = -9$

Si $(x - 5) = 0$, entonces, $x = 5$

Como x representa la edad de Juan, y esta debe ser un número positivo, entonces descartamos el valor de $x = -9$ y aceptamos el valor de $x = 5$.

Por tanto, concluimos que la edad de Juan es 5 años y la edad de Andrea es $x + 4 = 9$, es decir 9 años.

Solución general de la ecuación cuadrática

Una ecuación cuadrática puede resolverse por diferentes métodos de acuerdo con sus características.

Es interesante llegar a una expresión que permita resolver cualquier tipo de estas ecuaciones.

Recuerda que la expresión general de la ecuación cuadrática es: $ax^2 + bx + c = 0$

En donde: x es la incógnita, a es el coeficiente del término cuadrático, b es coeficiente del término lineal y c es el término independiente.

Las ecuaciones cuadráticas pueden resolverse por los métodos de: factorización, despeje y por fórmula general.

Dada la ecuación general $ax^2 + bx + c = 0$ podemos solucionarla con la fórmula

$$x = \frac{-b \pm \sqrt{b^2 - 4ac}}{2a}$$

Esta expresión para x , nos posibilita encontrar las dos soluciones o raíces de la ecuación.

Una solución es: $x = \frac{-b + \sqrt{b^2 - 4ac}}{2a}$

y la otra solución es $x = \frac{-b - \sqrt{b^2 - 4ac}}{2a}$

Aplicar la fórmula general es reemplazar a , por los valores que tiene la ecuación.

Ejemplo: Resolver la ecuación $x^2 - 2x + 1 = 0$

Solución:

Comparando la ecuación dada con la ecuación general tenemos:

$$\begin{array}{ccc} ax^2 + bx + c = 0 & & \\ \downarrow & \downarrow & \downarrow \\ 1x^2 - 2x + 1 = 0 & & \end{array}$$

Es decir que $a = 1$ $b = -2$ $c = 1$

Reemplazando esos valores en la fórmula general $x = \frac{-b \pm \sqrt{b^2 - 4ac}}{2a}$

Tenemos: $x = \frac{-(-2) \pm \sqrt{(-2)^2 - 4(1)(1)}}{2(1)} = \frac{2 \pm \sqrt{4-4}}{2} = \frac{2 \pm \sqrt{0}}{2} = \frac{2 \pm 0}{2}$

Significa que $x = \frac{2+0}{2} = \frac{2}{2} = 1$ o $x = \frac{2-0}{2} = \frac{2}{2} = 1$.

En este caso $x = 1$

Solución de ecuaciones cuadráticas incompletas:

Las soluciones o raíces de una ecuación son los valores de las incógnitas que la satisfacen.

Las ecuaciones de primer grado con una incógnita admiten una sola solución o raíz.

Las ecuaciones de segundo grado tienen siempre dos soluciones o raíces, porque existen dos valores de la incógnita que satisfacen a la ecuación.

Volvamos al ejemplo del problema inicial, que dice que el cuadrado de un número es igual al doble de dicho número.

Observa el procedimiento a seguir para resolverlo.

Tenemos que la ecuación es $x^2 - 2x = 0$

Para saber cuál es el valor de x factorizamos sacando el factor común y queda:

$$x(x-2) = 0$$

Tenemos dos factores cuyo producto da cero, significa que cada uno de ellos es igual a cero

Entonces $x = 0$ o $x - 2 = 0$.

Una solución es $x = 0$ y la otra solución es:

$$x - 2 = 0$$

$$x = 0 + 2$$

$$x = 2$$

Comprueba que el número que elevado al cuadrado es igual al doble de él puede ser 0 o también 2, es decir, hay dos valores que satisfacen la ecuación.

Representación gráfica de la función cuadrática

Las ecuaciones cuadráticas llamadas también de segundo grado, tienen representación en el plano cartesiano.

A la ecuación cuadrática $-3x^2 + 6x = 0$, le correspondiente la función cuadrática $y = -3x^2 + 6x$

En la ecuación cuadrática hay dos valores que cumplen la igualdad mientras que en la función

pueden irse dando muchísimos valores a x y resultarán los correspondientes valores para y que cumplen la igualdad.

Para graficar en el plano cartesiano la función, $y = -3x^2 + 6x$ damos valores que queramos a x , llamada variable independiente y calculamos los valores que le van correspondiendo a y , llamada variable dependiente. Así:

$$\text{Si } x = 0, \text{ entonces, } y = -3(0)^2 + 6(0) = 0 + 0 = 0$$

$$\text{Si } x = 1, \text{ entonces, } y = -3(1)^2 + 6(1) = -3 + 6 = 3$$

Si $x = -\frac{1}{2}$, entonces, $y = -3\left(-\frac{1}{2}\right)^2 + 6\left(-\frac{1}{2}\right) = -3\left(\frac{1}{4}\right) + 6\left(-\frac{1}{2}\right)$

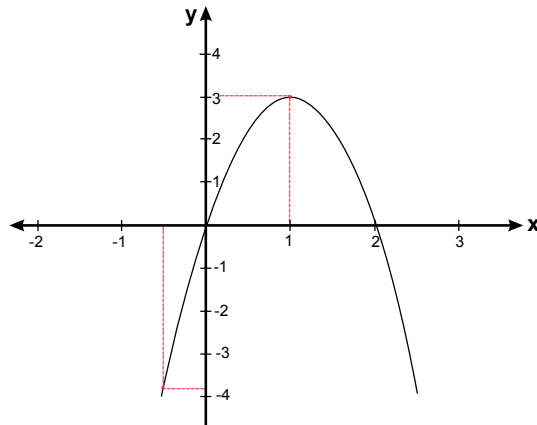
$$y = -\frac{3}{4} - 3 = -3\frac{3}{4}$$

Si $x = 2$, entonces, $y = -3(2)^2 + 6(2) = -3(4) + 6(2) = -12 + 12 = 0$

Podemos resumir los cálculos anteriores en una tabla así:

x	y	Puntos del plano
0	0	(0,0)
1	3	(1,3)
$-\frac{1}{2}$	$-3\frac{3}{4}$	$\left(-\frac{1}{2}, -3\frac{3}{4}\right)$
2	0	(2,0)

Localizamos esos puntos en el plano cartesiano y obtenemos la curva siguiente.



La función $y = -3x^2 + 6x$, graficada en el plano cartesiano, es una parábola y como el coeficiente del término cuadrático es negativo, entonces sus ramas se abren hacia abajo.

La parábola corta al eje de las abscisas o eje de las x en los valores 0 y 2

Entonces tenemos los valores de x : $y = -3x^2 + 6x$

¿Qué le ocurre a la función $y = -3x^2 + 6x$, en estos puntos?

Si $x = 0$, entonces, $y = -3(0)^2 + 6(0) = 0$

Si $x = 2$, entonces,

$$y = -3(2)^2 + 6(2) = -3(4) + 6(2) = -12 + 12 = 0$$

En estos puntos se cumple que: $-3x^2 + 6x = 0$.

Es decir que cuando la función toma el valor 0, se tiene la ecuación que permite hallar los ceros de la función. Despejando la variable x , encuentras las raíces o soluciones, esto es:

$$\begin{aligned} -3x^2 + 6x &= 0 \\ 3x(-x + 2) &= 0 \\ 3x &= 0 \text{ por lo tanto } x = 0 \\ -x + 2 &= 0 \text{ por lo tanto } x = 2 \end{aligned}$$



Aplicación

1. Dadas las ecuaciones siguientes, completa la tabla identificando sus términos.

Ecuación	Coficiente del término cuadrático (a)	Coficiente del término lineal (b)	Término independiente
$3x^2 - 15x = 0$			
$x^2 - 7x + 9 = 0$			
$x^2 + 6x - 8 = 0$			
$-x^2 + 2x = 0$			

2. Escribe la función correspondiente a cada ecuación

Ecuación	Función
$3x^2 - 15x = 0$	
$x^2 - 7x + 9 = 0$	
$x^2 + 6x - 8 = 0$	
$-x^2 + 2x = 0$	

3. La base de un triángulo mide 6 cm más que la altura y el área es de 20 cm². Calcular la base y la altura.
4. El área de un terreno rectangular es 360 m², y el largo excede al ancho en dos metros. ¿Cuántos metros lineales se necesitan para cercar el terreno?

5. Determina un número entero tal que el cuadrado del antecesor de su doble sea equivalente al cuadrado del número aumentado en 5.

Grafica las funciones:

6. $y = x^2$
 7. $y = x^2 = x + 1$
 8. $y = x^2 - 2x - 3$
 9. $y = x^2 + 2x + 3$
 10. $y = x^2 - 2x - 8$

Entendemos por...

Término cada uno de los sumandos que aparecen en una expresión algebraica.

Coficiente la constante que multiplica la parte literal de un término algebraico.

Incógnita cada una de las letras distintas que aparecen en una ecuación

Diversión matemática

Diviértete resolviendo este acertijo:

Una ardilla se encuentra en la entrada de su madriguera, en un árbol de 16 m. de altura. Si desde la copa del árbol hasta la madriguera hay tres veces la distancia que de la madriguera al suelo, a qué altura se encuentra la ardilla?



Día a día

Las ecuaciones cuadráticas se aplican en fórmulas físicas relacionadas con el movimiento, por ejemplo, un proyectil disparado verticalmente hacia arriba, con una velocidad inicial de 120 pies por segundo y teniendo en cuenta que la única fuerza sobre el proyectil es la gravedad, se tiene que la altura "h" en pies del proyectil sobre el suelo después de "t" segundos está dada por:
 $h = -16t^2 + 120t$

(Tomado de Hipertexto 9 Santillana).



Comprendí la importancia que tienen las funciones en la vida cotidiana, en el desempeño de los trabajos y en la vida escolar.

He podido reflexionar sobre la importancia de interpretar gráficas de función lineal, existentes en nuestro entorno, y que son conocimientos muy importantes en el diario vivir. Saber que existen situaciones que relacionan por ejemplo la cantidad de animales con el consumo de alimento, el crecimiento de las plantas con el abono que se aplica.



Este capítulo fue clave porque

Identifiqué la relación de las funciones con otras ciencias como: Biología, por ejemplo al relacionar la estatura y edad de los adolescentes; Física, al relacionar la velocidad del sonido con temperatura.etc.

He aprendido cómo solucionar ecuaciones tanto lineales como cuadráticas y aplicarlo en la solución de problemas.

Conectémonos con Economía




En la naturaleza existen muchos animales que tienen la capacidad de hacer saltos de gran altura, en proporción a su tamaño.

Por ejemplo, el antílope de África meridional puede saltar 15 veces su propia altura, el canguro rojo, que mide 2 metros, saltar hasta los 3 metros de alto, la pulga común puede saltar hasta una altura de 130 veces su tamaño corporal.

Este tipo de saltos se pueden mostrar usando gráficas que suponen una parábola, y se hace su análisis a partir de las características de ese tipo de gráficas.

Una pulga salta una distancia de hasta 200 veces la longitud de su cuerpo se debe a una estructura como un resorte en su cuerpo. Imágenes captadas a alta velocidad ahora revelan que el secreto radica en la forma en que las pulgas usan sus patas traseras como palancas articuladas. Este “efecto palanca” les permite a las pulgas llevar sus patas al suelo y liberar repentinamente energía como un resorte hacia delante y hacia arriba, afirman los científicos en la revista *Journal of Experimental Biology* (Revista de Biología Experimental).



Sutton agregó: “Esto nos muestra cuán poco sabemos acerca de la capacidad de insectos muy comunes”.

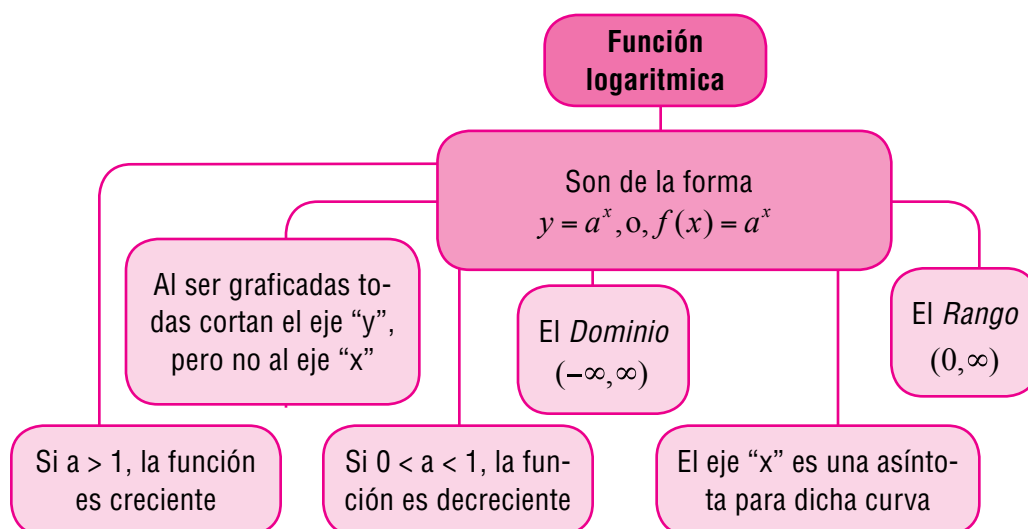
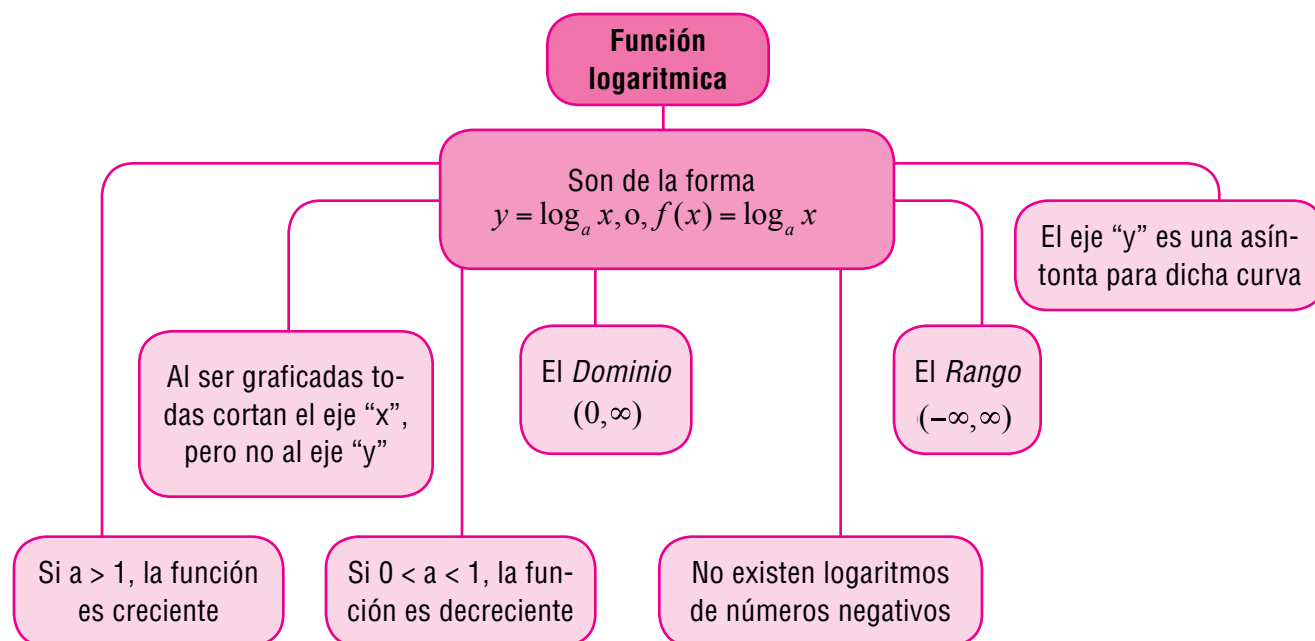
Y me imagino que todos concordamos con el doctor Sutton, que no conocemos ni siquiera una minúscula parte del mundo que nos rodea. Es impresionante el diseño que se ve hasta en estos minúsculos animalitos.

<http://www.planetacurioso.com/2011/02/11/por-que-las-pulgas-saltan-tan-alto-y-tan-rapido/>

Funciones exponencial y logarítmica

En la Arqueología y la Paleontología, las funciones exponenciales son muy importantes para calcular la Antigüedad de los fósiles. Mientras un animal o planta tenga vida, el carbono 14 se mantiene en una concentración constante en los tejidos. Sin embargo, cuando mueren, dejan de absorber el carbono, y con el paso del tiempo, el propio carbono 14 disminuye, por desintegración radioactiva.

El uso del logaritmo en la escala es para reflejar la energía que se desprende en un terremoto. El logaritmo incorporado a la escala hace que los valores asignados a cada nivel aumenten de forma exponencial, y no de forma lineal. Richter tomó la idea del uso de logaritmos en la escala de magnitud estelar, usada en la astronomía para describir el brillo de las estrellas y de otros objetos celestes.



Tema 1. Función y ecuación exponenciales



Indagación El crecimiento exponencial

El crecimiento exponencial ocurre en muchos campos de la ciencia y la tecnología.

Por ejemplo, el modelo de crecimiento bacteriano, el crecimiento demográfico y el interés compuesto, entre otros; son situaciones que se ajustan satisfactoriamente a una ecuación diferencial cuya solución conlleva a funciones exponenciales.

Tomado de: http://www.slideshare.net/TSUKUNE_CARLOS/crecimiento-exponencial

Comenta con dos o tres compañeros el anterior escrito.



Conceptualización

Analicemos diferentes funciones: $f(x) = x^2$

Es una **función cuadrática** en donde la base x es una variable; y el exponente 2 es una constante.

$$f(x) = 2^x$$

Es una **función exponencial** en donde la base 2 es constante; y el exponente x es la variable.

$$2^x = 0$$

Una ecuación en la que la incógnita aparece como exponente es una ecuación exponencial.

Realicemos las siguientes gráficas y analicémoslas:

Dadas las ecuaciones: $2^x = 0$ y $\left(\frac{1}{2}\right)^x = 0$

Las funciones exponenciales que les corresponden son:

$f(x) = 2^x$ y $g(x) = \left(\frac{1}{2}\right)^x$ respectivamente.



La función $f(x) = 2^x$ es una función creciente. Puesto que su base 2 es mayor que 1, entonces, a medida que x aumenta también $f(x)$.

La función $g(x) = \left(\frac{1}{2}\right)^x$ es decreciente. Puesto que su base $\frac{1}{2}$ es menor que 1, entonces, a medida que x aumenta $g(x)$ disminuye.

Realicemos la tabulación para la función $f(x) = 2^x$

Si $x = 0$, entonces $y = 2^0 = 1$; $y = 1$

Si $x = 1$, entonces $y = 2^1 = 2$; $y = 2$

Si $x = 2$, entonces $y = 2^2 = 4$; $y = 4$

Si $x = -1$, entonces $y = 2^{-1} = \frac{1}{2}$; $y = \frac{1}{2} = 0,5$

x	y = f(x)	Puntos (x,y)
0	1	(0, 1)
1	2	(1, 2)
2	4	(2, 4)
-1	1/2	(-1, 1/2)

Realicemos la tabulación para la función $g(x) = \left(\frac{1}{2}\right)^x$

Si $x = 0$, entonces $g(x) = \left(\frac{1}{2}\right)^x$

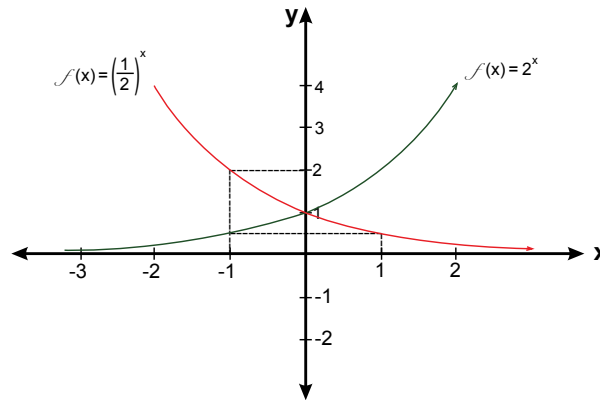
Si $x = 1$, entonces $y = \left(\frac{1}{2}\right)^0 = 1$; $y = 1$

Si $x = 2$, entonces $y = \left(\frac{1}{2}\right)^2 = \frac{1}{4}$; $y = \frac{1}{4}$

Si $x = -1$, entonces $y = \left(\frac{1}{2}\right)^{-1} = \left(\frac{2}{1}\right)^1$; $y = 2$

x	y = g(x)	Puntos (x,y)
0	1	(0,1)
1	1/2	(1,1/2)
2	1/4	(2,1/4)
-1	2	(-1,2)

Al graficar las dos funciones en el mismo plano obtenemos:



Contesta las preguntas:

¿Qué forma tienen las gráficas?

¿Por qué una es creciente y la otra decreciente?

Comenta con dos o tres compañeros.

Analizamos la siguiente ecuación y función:

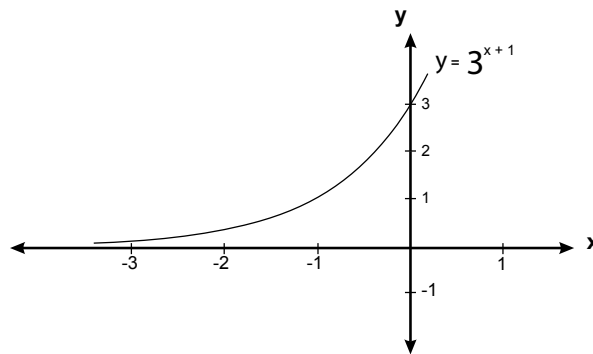
Dada la ecuación: $3^{x+1} = 0$, su función exponencial correspondiente es: $y = 3^{x+1}$

Dando valores a x en la función $y = 3^{x+1}$ obtenemos la siguiente tabulación:

Si $x = 0$, entonces $y = 3^{0+1} = 3^1 = 3$; $y = 3$
 Si $x = 1$, entonces $y = 3^{1+1} = 3^2 = 9$; $y = 9$
 Si $x = 2$, entonces $y = 3^{2+1} = 3^3 = 27$; $y = 27$
 Si $x = -1$, entonces $y = 3^{-1+1} = 3^0 = 1$; $y = 1$

x	y	Puntos (x;y)
0	3	(0,3)
1	9	(1,9)
2	27	(2, 27)
-1	1	(-1 ,1)

Al graficar la función obtenemos:



Casos especiales de funciones exponenciales

1. Dada la ecuación $2^x = 64$

Esta es una ecuación exponencial, porque la incógnita (o sea la variable), se encuentra en el exponente.

Observemos que $2^x = 64$ puede expresarse como $2^x = 2 \times 2 \times 2 \times 2 \times 2 \times 2 = 2^6$.

Para resolver una ecuación exponencial se debe hallar el valor de la incógnita que hace verdadera la igualdad.

Para esto, se aplican las propiedades de la potenciación y específicamente la siguiente propiedad: Si $a^x = a^y \Rightarrow x = y$

Como puedes observar, al tener la misma base se igualan los exponentes así:

$$2^x = 64 \text{ es equivalente a } 2^x = 2^6$$

2. Solucionemos la siguiente ecuación exponencial: $7^{3x} = 49^{x+3}$

Expresaremos el 49 en base 7, y así lograr que ambos miembros de la igualdad queden de la misma base.

$$7^{3x} = 49^{x+3}$$

$$7^{3x} = 49^{x+3}$$

$$7^{3x} = (7^2)^{x+3}$$

$$7^{3x} = 7^{2x+6}$$

Como puedes observar, los dos miembros de la igualdad tienen la misma base, por lo tanto podemos aplicar la propiedad de igualar los exponentes así:

Si $7^{3x} = 7^{2x+6}$ significa que $3x = 2x + 6$

Resolviendo la ecuación $3x = 2x + 6$ tenemos:

$$3x = 2(x + 3)$$

$$3x = 2x + 6$$

$$3x - 2x = 6$$

$$x = 6$$

Comprobación:

$$7^{3x} = 49^{x+3}$$

$$7^{3(6)} = 49^{6+3}$$

$$7^{18} = 49^9$$

$$7^{18} = (7^2)^9$$

$$7^{18} = 7^{18}$$

3. Solucionemos la siguiente ecuación exponencial: $3^{x^2-x} = 9$

Expresaremos el 9 en base 3, y así lograr que ambos miembros de la igualdad queden de la misma base.

Esto es: $3^{x^2-x} = 9$ por lo tanto, podemos igualar los exponentes:
 $x^2 - x = 2$

$$x^2 - x = 2$$

$$x^2 - x - 2 = 0$$

$$(x - 2)(x + 1) = 0$$

$$x - 2 = 0$$

entonces $x = 2$

$$x + 1 = 0$$

entonces $x = -1$

Los valores que satisfacen el valor de la incógnita x en el exponente son:
 $x_1 = 2$ y $x_2 = -1$

Comprobación:

Si $x = 2$, entonces: $3^{x^2-x} = 9$ Si $x = -1$, entonces: $3^{x^2-x} = 9$

$$3^{(-1)^2-(-1)} = 9$$

$$3^{(2)^2-2} = 9$$

$$3^{1+1} = 9$$

$$3^{4-2} = 9$$

$$3^2 = 9$$

$$3^2 = 9$$

$$9 = 9$$

$$9 = 9$$

Por lo tanto los valores de $x = 2$ y -1 , son soluciones de la ecuación exponencial $3^{x^2-x} = 9$

Aplicaciones y solución de problemas

Afrontar un problema puede ser un buen camino para profundizar y aprender más acerca del tema que acabamos de ver. Analiza el proceso a seguir en el siguiente problema, el cual te ayudará a comprender y profundizar en las aplicaciones de ecuaciones exponenciales:

1. Presión atmosférica

La presión atmosférica p en un globo o en un avión decrece conforme aumenta la altura.

Esta presión, medida en milímetros de mercurio, está relacionada con el número de kilómetros h sobre el nivel del mar, mediante la fórmula: $p = 760e^{-0.145h}$.

- Encontremos la presión atmosférica a una altura de 2 kilómetros.
- ¿Qué valor tiene p a una altura de 10 kilómetros?

Solución

- Para obtener el valor de la presión atmosférica, reemplazamos a h por 2 kilómetros de altura, en la ecuación $p = 760e^{-0.145h}$, esto es $h = 2$ y nos queda:

$$\begin{aligned} p &= 760e^{-0.145h} \\ p &= 760e^{-0.145(2)} \\ p &= 760e^{-0.29} \\ p &= 760(0.748263) \\ p &= 568.68 \end{aligned}$$

A una altura de 2 kilómetros, la presión atmosférica es de 568.68 milímetros de mercurio.

- Aquí tomamos $h = 10$ en la ecuación $p = 760e^{-0.145h}$ para obtener el valor de la presión atmosférica.

$$\begin{aligned} p &= 760e^{-0.145h} \\ p &= 760e^{-0.145(10)} \\ p &= 760e^{-1.45} \\ p &= 760(0.234570) \\ p &= 178.27 \end{aligned}$$

A una altura de 10 kilómetros, la presión atmosférica es de 178.27 milímetros de mercurio.

Analiza las dos respuestas, a medida que aumenta la altura la presión atmosférica decrece, a 2 Km. la presión es de 568.68 y a 10 Km. de altura la presión es de 178.27.

Siempre debes analizar las respuestas, ellas deben tener lógica y estar relacionadas con la realidad de los hechos que te presenta un problema.



Aplicación

Copia los ejercicios en tu cuaderno, realízalos y compara resultados con tus compañeros:

Información para resolver los ejercicios 1 y 2.

Crecimiento de la población

Supón que la función que da el crecimiento de la población mundial desde

1960, se ajusta mediante el modelo exponencial:
$$P(t) = \frac{36000}{1 + 11e^{-0.025t}}$$

Siendo “t” los años transcurridos desde 1960 y P(t) la población en millones de habitantes.

1. En 1960, ¿cuál era la población mundial, según este modelo?
2. ¿Cuál será la población mundial en el año 2010?

La siguiente información sirve para resolver los ejercicios 3 y 4.

Administración de un medicamento

La fórmula $D = 5e^{-0.4h}$ puede usarse para encontrar el número de miligramos “D” de una cierta medicina en el torrente sanguíneo de un paciente después de haberla recibido

3. ¿Cuántos miligramos estarán presentes después de 1 hora?
4. ¿Cuántos miligramos estarán presentes después de 6 horas?

Información para resolver los ejercicios 5 y 6

Satélites espaciales

El número “w” de watts proporcionados por la batería de un satélite espacial

en un periodo de “d” días está dado por la fórmula: $w = 50e^{-0.004d}$

5. ¿De cuánta potencia se dispondrá después de 30 días?
6. ¿Cuánta potencia se tendrá disponible después de 1 año (365 días)?

En los ejercicios 7 y 8, calcula el valor de x .

7. $5^{x+1} = 625$

8. $2^x = 8^{x+2}$

Representa los ejercicios 9 y 10 en el plano cartesiano.

9. $f(x) = 3^{-x}$

10. $f(x) = 2^{-x} + 1$


Entendemos por...

Función exponencial a la función cuya variable independiente está en el exponente, es decir, la función de la forma $f(x) = ax$.

Ejemplo: $f(x) = 4x$

Diversión matemática

¿Podrás encontrar la salida?



Día a día

El sonido

Los físicos definen la intensidad de una onda sonora como la cantidad de energía que la onda transmite a través de cierta área. Por ejemplo, el sonido menos intenso que el oído humano puede detectar es aproximadamente de 10^{-12} vatios (watts) por metro cuadrado. El decibelio unidad de medida utilizada para el nivel de potencia o nivel de intensidad del sonido.

Se utiliza una escala logarítmica porque la sensibilidad que presenta el oído humano a las variaciones de intensidad sonora sigue una escala aproximadamente logarítmica, no lineal. Por ello el belio (B) y su submúltiplo el decibelio (dB), resultan adecuados para valorar la percepción de los sonidos por un oyente.

El volumen del sonido es medido en decibeles, en honor de Alexander Graham Bell.



Tema 2.

Función y ecuación logarítmicas



Indagación

Recuerdas ¿qué es un logaritmo?

¿Cuál es el número al que hay que elevar a 10 para que dé como resultado 1,000?

Esto es, $10^? = 1,000$ escrito matemáticamente: $10^x = 1,000$

Sabemos que la base de la potencia es 10 y el exponente es la incógnita es **x**, entonces:

Para hallar el valor de x decimos: logaritmo en base 10 de 1,000 es x, simbólicamente:
 $\text{Log}_{10} 1,000 = 3$ porque $10^3 = 1,000$.

Siguiendo el anterior proceso, explica cuál sería $\text{Log}_2 8$. Análízalo con un compañero.



Conceptualización

Recordemos el concepto de logaritmo: $\log_a x \Leftrightarrow a^y = x$ en donde “a” se llama base del logaritmo.

Por ejemplo: ¿Cuál es el $\log_6 36$?

Aplicando el concepto de logaritmo, se debe buscar un número al cual hay que elevar a 6 para obtener 36.

Es decir: $6^? = 36$ dicho número es 2, porque $6 \times 6 = 36$ esto es $6^2 = 36$. Luego $\log_6 36 = 2$
 Cuando un logaritmo no tiene escrita su base son logaritmos en base “10”.

Ejemplo: $\text{Log}100 = 2$ porque $10^2 = 100$

Recuerda, siempre debes aplicar el concepto de logaritmo, para graficar funciones logarítmicas, expresándolas en forma exponencial: $f(x) = \log_a x \Leftrightarrow a^y = x$

También podemos escribir $y = \log_a x \Leftrightarrow a^y = x$, pues $f(x) = y$

Representación gráfica

Sean las funciones: $y = \log_5 x$ y $y = \log_{\frac{1}{5}} x$

Aplicando el concepto de logaritmo, encontraremos su ecuación exponencial correspondiente:

Si $y = \log_5 x$, entonces, $5^y = x$ y viceversa

Y Si $y = \log_{\frac{1}{5}} x$, entonces, $\left(\frac{1}{5}\right)^y = x$ y viceversa

Para graficar las dos funciones observemos lo siguiente: $y = \log_5 x$ es función creciente, porque su base es 5 y $5 > 1$ (5 es mayor que 1).

y $y = \log_{\frac{1}{5}} x$ es función decreciente, porque su base es $\frac{1}{5}$ y $0 < \frac{1}{5} < 1$ ($\frac{1}{5}$ es mayor que 0 y menor que 1)

Al efectuar las sustituciones correspondientes en la ecuación $5^y = x$ se obtiene:

Si $y = 0$, entonces $5^0 = x$; $1 = x$

Si $y = 1$, entonces $5^1 = x$; $5 = x$

Si $y = 2$, entonces $5^2 = x$; $25 = x$

Si $x = -1$, entonces $5^{-1} = x$; $\frac{1}{5} = x$

y	x	Puntos (x,y)
0	1	(1,0)
1	5	(5,1)
2	25	(25,2)
-1	1/5	(1/5,-1)

Al efectuar los reemplazos correspondientes en la ecuación $\left(\frac{1}{5}\right)^y = x$ se obtiene:

Si $y = 0$, entonces $\left(\frac{1}{5}\right)^0 = x$; $1 = x$

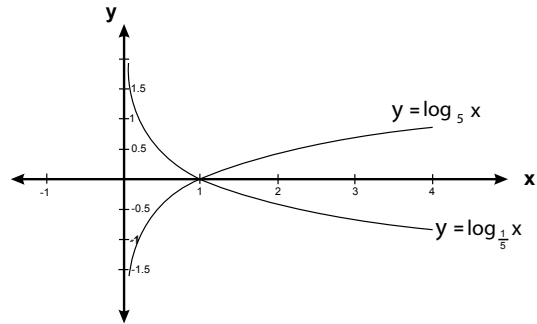
Si $y = 1$, entonces $\left(\frac{1}{5}\right)^1 = x$; $\frac{1}{5} = x$

Si $y = 2$, entonces $\left(\frac{1}{5}\right)^2 = x$; $\frac{1}{25} = x$

Si $x = -1$, entonces $\left(\frac{1}{5}\right)^{-1} = x$; $5 = x$

y	x	Puntos (x,y)
0	1	(1,0)
1	1/5	(1/5,1)
2	1/25	(1/25,2)
-1	5	(5,-1)

Al graficar las dos funciones en el mismo plano obtenemos:



¿Qué forma tienen las gráficas?
 Compara las gráficas de las funciones:
 ¿Por qué una es creciente y la otra decreciente?

Propiedades de los logaritmos

Analiza y apréndete las propiedades de los logaritmos, solo así podrás resolver ecuaciones logarítmicas.

Logaritmo de un producto

$$\log_a (x \cdot y) = \log_a x + \log_a y$$

Logaritmo de un cociente

$$\log_a \left(\frac{x}{y} \right) = \log_a x - \log_a y$$

Logaritmo de una potencia

$$\log_a X^y = y \log_a X$$

Logaritmo de una raíz

$$\log_a \sqrt[n]{X} = \frac{\log_a x}{n}$$

Cambio de base

$$\log_a X = \frac{\log x}{\log a}$$

1. Analiza el siguiente ejemplo, en donde aplicaremos las propiedades de los logaritmos:

$$\log\left(\frac{x^2}{y^3z^4}\right)$$

Aplicando la propiedad del cociente, obtenemos:

$$\log x^2 - \log(y^3z^4)$$

Aplicando la propiedad del producto, obtenemos:

$$\log x^2 - (\log y^3 + \log z^4)$$

Aplicando la propiedad del logaritmo de una potencia, y destruyendo paréntesis, obtenemos:

$$2\log x - 3\log y - 4\log z$$

2. Analiza el siguiente ejemplo, en donde aplicaremos las propiedades de los logaritmos, para simplificar la expresión: $\log 5 + \log 4$

Aplicando la propiedad del producto, obtenemos:

$$= \log(5 \times 4) = \log 20$$

3. Simplificar la expresión: $\log 100 - \log 5 + \log 3$

Aplicando la propiedad del cociente, obtenemos: $\log\left(\frac{100}{5}\right) + \log 3$, simplificamos y

Aplicando la propiedad del producto, obtenemos: $= \log(20 \cdot 3) = \log 60$

Ecuación logarítmica

Una ecuación logarítmica es aquella en la cual la incógnita (o sea la variable), se encuentra en un logaritmo.

Para resolver una ecuación logarítmica se debe hallar el valor de la incógnita que hace verdadera la igualdad. Para esto, se aplican las propiedades de los logaritmos y el concepto de logaritmo.

Solucionemos las siguientes ecuaciones logarítmicas:

1. $\log_4 x = 5$

Aplicando el concepto de logaritmo, podemos despejar a x: $4^5 = x$, por lo tanto $x = 1,024$

2. Solucionemos: $\log x + \log(x - 3) = 1$

Aplicando la propiedad del producto:

$$\log(x(x - 3)) = 1$$

$$\log(x^2 - 3x) = 1$$

Aplicando el concepto de logaritmo, podemos despejar a x: Si $\log(x^2 - 3x) = 1$ entonces, $10^1 = x^2 - 3x$

Factorizando e igualando a cero: $(x - 5)(x + 2) = 0$

Despejando x y encontrando las posibles soluciones tenemos:

$$(x - 5) = 0 \text{ entonces } x = 5$$

$$(x + 2) = 0 \text{ entonces } x = -2$$

Como $\log x$, está definido para $x > 0$, se tiene que $x = -2$ no es solución de la ecuación.

Por lo tanto, la única solución de la ecuación $\log x + \log(x - 3) = 1$, es $x = 5$

3. Solucionemos: $\log_3 2x - \log_3(x - 3) = 2$

Aplicamos la propiedad del cociente:

$$\log_3\left(\frac{2x}{x-3}\right) = 2$$

Aplicando el concepto de logaritmo, podemos despejar a x: $3^2 = \left(\frac{2x}{x-3}\right)$ es decir: $9 = \frac{2x}{x-3}$

$9(x - 3) = 2x$ (el término $x - 3$ que está dividiendo, pasa a multiplicar)

$9x - 27 = 2x$ se efectúa la propiedad distributiva de la multiplicación con respecto a la suma

$$9x + 2x = 27$$

$$11x = 27$$

$x = 27/11$ es la solución a la ecuación.



Aplicación

Copia los ejercicios en tu cuaderno, realízalos y compara resultados con tus compañeros:

- Una sola bacteria del Cólera, se divide cada media hora para producir dos bacterias completas. Si se comienza con una colonia de 500 bacterias, el tiempo que se requiere para que la colonia sea de A bacterias, se calcula mediante la expresión:

$$t = \frac{\log\left(\frac{A}{500}\right)}{2 \log 2}$$

¿Cuál será el valor de A bacteria en 5 horas?

- Completa la tabla:

Forma logarítmica	Forma exponencial
	$8^3 = 512$
$\log_{64} 4 = \frac{1}{3}$	
	$5^4 = 625$
$\log_2 128 = 7$	

Desarrolla cada expresión:

3. $\log_3 8 + \log_3 2$

4. $\log_8 2 + \log_8 5 - \log_8 7$

5. $\log_3 \left(\frac{xy^{\frac{1}{2}}}{z^5} \right)$

6. $\log_5 \left(\frac{200}{x^2} \right) + \log_5 \sqrt{x^3}$

Soluciona la ecuación:

7. $\log 5 + \log 2x = 3$

8. $3 \log_2 x = -\log_2 27$

9. $\log_4(5x - 3) = 5$

10. $\log 2(2x + 1) = 4$

Entendemos por...

Función aquellas relaciones especiales cuya correspondencia entre los conjuntos A y B, le asigna a cada elemento del conjunto A **uno y solamente uno** de los elementos del conjunto B. Los elementos de A se llaman preimágenes o dominio y los elementos del conjunto B se llaman imágenes o **codominio**.

En general, una función de una variable x es una regla de correspondencia o fórmula que asigna a cada valor de x del dominio un único número en el rango.

Función logarítmica: se llama función logarítmica a la relación:

$$f(x) = \log_a x$$

Cuyo dominio es el conjunto de los reales positivos y su ámbito son todos los números reales.

Día a día

Escala sismológica de Richter

La escala sismológica de Richter, también conocida como escala de magnitud local (ML), es una escala logarítmica arbitraria que asigna un número para cuantificar la energía liberada en un terremoto, denominada así en honor del sismólogo estadounidense, Charles Richter (1900-1985). Fue desarrollada por Charles Richter con la colaboración de Beno Gutenberg en 1935, ambos investigadores del Instituto de Tecnología de California, con el propósito original de separar el gran número de terremotos pequeños de los menos frecuentes terremotos mayores observados en California en su tiempo.

$$M = \log A + 3 \log(8\Delta t) - 9.92$$

donde:

A = amplitud de las ondas en milímetros, tomada directamente en el sismograma.

Δt = tiempo en segundos desde el inicio de las ondas **P** (Primarias) al de las ondas **S** (Secundarias).

M = magnitud arbitraria pero constante a terremotos que liberan la misma cantidad de energía.

El uso del logaritmo en la escala es para reflejar la energía que se desprende en un terremoto.

El logaritmo incorporado a la escala hace que los valores asignados a cada nivel aumenten de forma logarítmica y no de forma lineal.

Richter tomó la idea del uso de logaritmos en la escala de magnitud estelar, usada en la astronomía para describir el brillo de las estrellas y de otros objetos celestes.

Richter arbitrariamente escogió un temblor de magnitud 0 para describir un terremoto que produciría un desplazamiento horizontal máximo de $1 \mu\text{m}$ (1 micrómetro equivale a una millonésima de metro).

http://es.wikipedia.org/wiki/Escala_sismol%C3%B3gica_de_Richter



Este capítulo fue clave porque

Aprendí como las ecuaciones logarítmicas ayudaron en el cálculo de la energía disipada por un terremoto, sabiendo así el daño causado por este.

Aprendí a graficar y a analizar gráficas, interpretando la información que ésta suministra.

Aprendí el manejo de las propiedades de los logaritmos y sus aplicaciones en la solución de ecuaciones logarítmicas.

Me enseñó la importancia de la ecuación exponencial en situaciones de la vida real.

Aprendí a identificar los exponentes de ecuaciones en forma de potencia que tienen la misma base.

Apliqué conocimientos de álgebra, vistos anteriormente, en la solución de ecuaciones exponenciales.

Aprendí a representar gráficamente algunas funciones exponenciales.

Aprendí a interpretar gráficas de funciones exponenciales.

Conectémonos con Ciencias Naturales



Aplicaciones a la biología (crecimiento no inhibido)

La mitosis, o división celular, es un proceso universal indispensable en el crecimiento de los organismos vivos como las amibas, plantas, células humanas y muchas otras.

Con base en una situación ideal donde no mueren células ni hay efectos colaterales, el número de células presentes en un instante dado obedece a la ley del crecimiento no inhibido.

Sin embargo, en la realidad, después de cierto tiempo el crecimiento en forma exponencial cesa debido a la influencia de factores como la carencia de espacio, la disminución de la fuente alimenticia, entre otros.

La ley del crecimiento no inhibido solo refleja de manera exacta las primeras etapas del proceso de la mitosis.

El proceso de mitosis comienza con un cultivo de N_0 células donde cada célula crece durante cierto periodo y después se divide en dos células idénticas. Suponemos que el tiempo necesario para que cada célula se divida en dos es



constante y que no cambia al aumentar el número de células. Después, estas células crecen y se dividen en dos, y así sucesivamente.

Tomado de: http://docencia.udea.edu.co/ingenieria/calculo/pdf/1_3_3.pdf

Repasemos lo visto



En nuestra vida cotidiana, muchos fenómenos pueden ser vistos como relaciones funcionales entre dos variables, donde el comportamiento de una dependerá del comportamiento de la otra.

No olvidemos que:

Toda función se puede representar por:

1. Una expresión algebraica
2. Una tabla de valores
3. Una gráfica

Gráficamente, la pendiente muestra el desplazamiento vertical y el desplazamiento horizontal sobre el plano cartesiano.

La solución de una ecuación es el valor numérico por el cual se puede reemplazar la incógnita para que la igualdad sea verdadera.

Solucionar un sistema es encontrar un punto, que es a la vez, solución de cada una de las ecuaciones que intervienen.

El método gráfico consiste en trazar la gráfica que corresponde a cada ecuación, y determinar el punto en que se cortan dichas gráficas. Por su construcción, el punto pertenece simultáneamente a las dos rectas trazadas.

Mundo rural

Funciones lineales de costos

El costo es la expresión cuantitativa monetaria representativa del consumo necesario de factores de la producción que se emplean para producir un bien o prestar un servicio.

Las funciones lineales cumplen un importante papel en el análisis cuantitativo de los problemas económicos.

Costo lineal

Cuando una empresa produce cualquier bien o presta un servicio, deberá utilizar una serie de insumos que valorizados monetariamente le genera costos, que analizados en función a la relación con la producción total, los denominaremos costos fijos y costos variables. Los primeros, como lo indica su nombre, son independientes de las cantidades de un artículo que se produzca o un servicio que se preste (por ejemplo: alquiler de la parcela, depreciación de los bienes durables, determinados impuestos, entre otros).

En cambio, los costos variables dependen de la cantidad que se produzca de ese artículo o que se preste del servicio, (por ejemplo: costos de materiales, de mano de obra productiva, entre otros).


El costo total es la suma de ambos

$$\text{Costo total} = \text{Costos fijos} + \text{Costos variables}$$

Si a los costos fijos de producir x artículos lo indicamos como b pesos, estamos en presencia de una función constante de la forma $f(x) = b$.



Dato curioso



Cuenta la historia que Arquímedes un día que se encontraba en el baño, observó que sus piernas podía levantarlas fácilmente cuando estaban sumergidas. Esta fue la chispa que le permitió llegar a lo que ahora conocemos como “Principios de Arquímedes”.

Fue tan grande el entusiasmo que le produjo el descubrimiento de su principio que tomó la corona en una mano y salió desnudo del baño corriendo por las calles de Siracusa y gritando su célebre exclamación de júbilo: “¡Eureka!, ¡eureka! que quiere decir “ya lo encontré”. Lo que había hallado era un método para determinar la densidad de los cuerpos tomando como unidad la del agua.

En el campo militar se le debe la invención de catapultas, de garfios movidos por palancas para inventos mecánicos y ópticos logró defender durante tres años a Siracusa que estaba sitiada por los romanos. Dícese que empleando espejos “ustorios” que son espejos cóncavos de gran tamaño, logro concentrar los rayos solares sobre la flota romana incendiándola. Finalmente, el año 212 cayó Siracusa en manos de los romanos siendo Arquímedes asesinado por un soldado a pesar de haber ordenado el cónsul Marcelo respetar la vida del sabio.

<http://roble.pntic.mec.es/~tvirgos/maticos/archimedes.htm>

¿En qué vamos?



Reflexiono y trabajo con mis compañeros

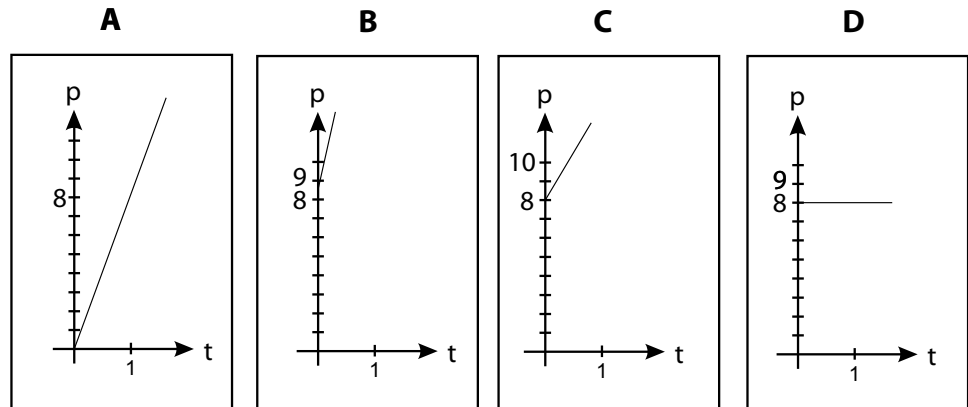
Resuelve en tu cuaderno y compara con tus compañeros:

Los ejercicios 1 y 2 se resuelven con la siguiente información:

Una partícula describe un movimiento uniforme con ecuación $p = 8t$, dados p en metros y t en minutos.

1. Es correcto afirmar que:
 - a. Justo antes de arrancar, el móvil avanza 2 m.
 - b. Por cada minuto que transcurre, el móvil avanza 8 m.
 - c. Justo antes de arrancar el móvil se halla en el punto Q.
 - d. Por cada 2 minutos que transcurren, el móvil avanza 4 m.

2. La grafica que representa la distancia p que recorre el móvil en función del tiempo es:



Responde las preguntas 3, 4 y 5 de acuerdo con la siguiente afirmación:
 Notamos con \mathbb{N} , conjunto de los números naturales; \mathbb{Z} , números enteros; \mathbb{Q} , números racionales; \mathbb{I} , números irracionales; \mathbb{R} , números reales que verifican:

$$\mathbb{N} \subset \mathbb{Z} \subset \mathbb{Q} \subset \mathbb{R} ; \mathbb{I} \subset \mathbb{R} ; \mathbb{Q} \cap \mathbb{I} = \emptyset ; \mathbb{Q} \cup \mathbb{I} = \mathbb{R}$$

3. La afirmación, $\mathbb{Z} \subseteq \mathbb{R}$, es:
 - a. Falsa porque $\mathbb{Z} \subseteq \mathbb{Q}$ pero $\mathbb{Q} \not\subseteq \mathbb{R}$
 - b. Falsa porque $\mathbb{Z} \subseteq \mathbb{Q}$ y $\mathbb{Q} \subseteq \mathbb{R}$
 - c. Verdadera porque $\mathbb{Z} \subseteq \mathbb{Q}$ y $\mathbb{Q} \subseteq \mathbb{R}$
 - d. Verdadera porque $\mathbb{Z} \subseteq \mathbb{Q}$ y $\mathbb{Q} \not\subseteq \mathbb{R}$

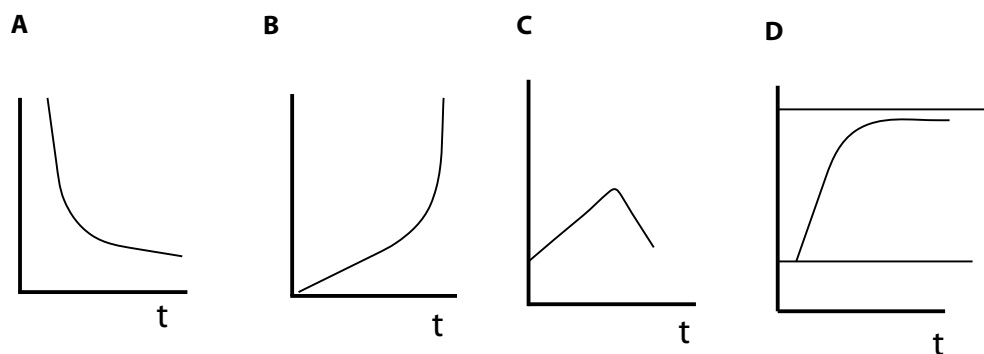
4. Es falso afirmar que:

- a. Todo número natural es un número real.
- b. Ningún número racional es irracional.
- c. Todo entero es irracional.
- d. Existen enteros que no son naturales.

5. Si $n \in \mathbb{Z}$ es posible afirmar que:

- a. $n \in \mathbb{Q}$ y $n \in \mathbb{R}$
- b. $n \notin \mathbb{Q}$ y $n \notin \mathbb{I}$
- c. $n \in \mathbb{I}$ y $n \in \mathbb{R}$
- d. $n \in \mathbb{Q}$ y $n \notin \mathbb{R}$

Responde las preguntas 6, 7 y 8, a partir de las siguientes graficas:



6. “La temperatura de una ciudad disminuye constantemente”. Este enunciado representa el comportamiento de la gráfica C. Esta afirmación es:

- a. Verdadera, porque muestra el cambio a través del tiempo.
- b. Falsa, porque la gráfica C representa una función creciente.
- c. Verdadera, porque muestra que decrece en función del tiempo.
- d. Falsa, porque no muestra el cambio en la temperatura.

7. Un enunciado que describe el comportamiento de la gráfica D es:

- a. Un avión que sobrevuela varias veces un aeropuerto antes que se permita su aterrizaje.
- b. La temperatura aumentó durante las horas de la mañana, pero nunca sobrepasó los 20° grados.
- c. Luego de suministrar un medicamento a un paciente sus pulsaciones disminuye hasta ser constantes.
- d. Las ventas en función del precio del producto.

8. La temperatura aumentó en la mañana. Hacia el mediodía descendió pues hubo un gran aguacero. La gráfica que representa mejor el enunciado anterior es:
- a. La gráfica A b. La gráfica B
c. La gráfica C d. La gráfica D

Responde las preguntas 9 y 10 de acuerdo con la siguiente información:
Se tiene una población de bacterias de 500 miembros. Después de una hora se observa que la población ha alcanzado las 1,500 bacterias. Una hora más tarde se observa que la población ha llegado a 4,500 bacterias.

9. La cantidad de bacterias que se espera observar en la próxima hora es:
- a. 13,000 b. 13,500
c. 14,000 d. 14,500
10. Con respecto a la información dada, es posible afirmar que:
- a. Por cada hora que transcurre la población aumenta en 1,000 bacterias.
b. Por cada hora que transcurre la población de bacterias se duplica.
c. Por cada hora que transcurre la población de bacterias se triplica.
d. Por cada hora que transcurre la población aumenta aproximadamente en 3,000 bacterias.

Le cuento a mi profesor

Con tu profesor, resuelve la siguiente rejilla.

Qué sé hacer	Superior	Alto	Básico	Bajo
Determino la ecuación de una recta a partir de elementos y viceversa				
Grafico rectas en el plano y hallo sus intersecciones				
Identifico rectas paralelas y rectas perpendiculares, según sus pendientes.				
Soluciono sistemas de ecuaciones lineales por los diferentes métodos estudiados.				
Resuelvo problemas planteando las ecuaciones y/o planteo las ecuaciones a partir del enunciado del problema.				
Represento información utilizando modelos de funciones, lineales, cuadráticas, exponenciales y logarítmicas.				
Resuelvo problemas que involucren crecimiento exponencial y/o logarítmico.				
Resuelvo ecuaciones cuadráticas.				
Calculo las raíces de una ecuación cuadrática por medio de la fórmula cuadrática.				
Grafico la función cuadrática, a partir de sus parámetros.				
Resuelvo problemas que involucren ecuaciones cuadráticas.				
Aplico las ecuaciones lineales, cuadráticas, exponenciales y/o logarítmicas en distintas situaciones de la vida diaria.				
Resuelvo ecuaciones logarítmicas y exponenciales.				
Grafico la función exponencial y/o logarítmica a partir de sus parámetros.				
Observo, analizo y aprecio las diferentes funciones en mi entorno.				

Autoevaluación

Participo y aprendo	S	A	Bs	Bj
Participo de manera activa en clase, formulando o respondiendo preguntas.				
Aplaudo las actitudes creativas que inviten a buscar nuevas soluciones a situaciones problemáticas.				
Participo activamente en los grupos de trabajo.				
Comparto mis saberes y dudas con mis compañeros.				
Fomento la disciplina dentro del grupo.				
Permito la libre discusión.				
Propongo problemas o actividades para resolver en clase.				
Repaso en casa lo suficiente, sobre lo aprendido en el colegio.				

Estadística

Resolvamos

Te has preguntado:


¿En qué se aplica la estadística?

El saber cuántos habitantes tiene un pueblo, una ciudad o una nación, ha sido siempre una necesidad de los gobernadores, para establecer las necesidades de su pueblo. Se tiene registro que esto se hacía desde la conformación de los reinos en la Antigüedad. Un ejemplo de esto, se encuentra en la biblia donde se cuenta la historia que el rey David, por ordenó a Joab, general del ejército, hacer un censo de Israel con la finalidad de conocer el número de habitantes, y el libro Crónicas describe el bienestar material de las diversas tribus judías.

Los griegos, hacia el año 594 a.C., efectuaron censos periódicamente con fines tributarios, sociales (división de tierras) y militares (cálculo de recursos y hombres disponibles). Parece que realizaron 69 censos para calcular los impuestos, determinar los derechos de voto y ponderar la potencia guerrera. Pero los romanos fueron los maestros de la organización política, quienes mejor supieron

emplear los recursos de la estadística. Cada cinco años llevaban a cabo un censo de la repoblación, y los funcionarios públicos tenían la obligación de anotar nacimientos, defunciones y matrimonios, sin olvidar los recuentos periódicos del ganado y de las riquezas contenidas en las tierras conquistadas. En la época del nacimiento de Cristo sucedía uno de estos empadronamientos de la población bajo la autoridad del Imperio.

Durante un brote de peste que apareció a fines del siglo XVI, el gobierno inglés comenzó a publicar estadísticas semanales de los decesos. En 1662, el capitán John Graunt, compiló documentos que abarcaban treinta años, mediante los cuales efectuó predicciones sobre el número de personas que morirían de diversas enfermedades, así como de las proporciones de nacimientos de hombres y mujeres que cabía esperar.




En nuestros días, la estadística se ha convertido en un método efectivo para describir con exactitud los valores de los datos económicos, políticos, sociales, psicológicos, biológicos y físicos, y sirve como herramienta para relacionar y analizar dichos datos. El trabajo del experto estadístico no consiste ya sólo en reunir y tabular los datos, sino sobre todo en interpretar esa información.

El desarrollo de la teoría de la probabilidad ha aumentado el alcance de las aplicaciones de la estadística. Muchos conjuntos de datos se pueden estudiar con gran exactitud utilizando determinadas distribuciones probabilísticas. La probabilidad es útil para comprobar la fiabilidad de las inferencias estadísticas y para predecir el tipo y la cantidad de datos necesarios en un determinado estudio estadístico.

Tomado de: <http://www.uv.mx/cienciahombre/revistae/vol18num2/articulos/historia/index.htm>

Referentes de calidad	Capítulos
Resuelvo y formulo problemas seleccionando información relevante en conjuntos de datos provenientes de fuentes diversas (prensa, revistas, televisión, experimentos, consultas, entrevistas).	1. Análisis e interpretación de datos 2. Combinatoria y probabilidad
Reconozco cómo diferentes maneras de presentación de información pueden originar distintas interpretaciones.	
Reconozco tendencias que se presentan en conjuntos de variables relacionadas.	
Uso conceptos básicos de probabilidad (espacio muestral, evento, independencia, entre otros).	
Calculo probabilidad de eventos simples usando métodos diversos (listados, diagramas de árbol, técnicas de conteo).	
Comparo resultados de experimentos aleatorios con los resultados previstos por un modelo matemático probabilístico.	



Análisis e interpretación de datos

Podemos decir que el objeto que tiene la estadística, es estudiar los fenómenos de tipo aleatorio, es necesario aclarar que la estadística tiene como función describir las características de datos anteriores y con base en estos poder predecir su comportamiento en un futuro.

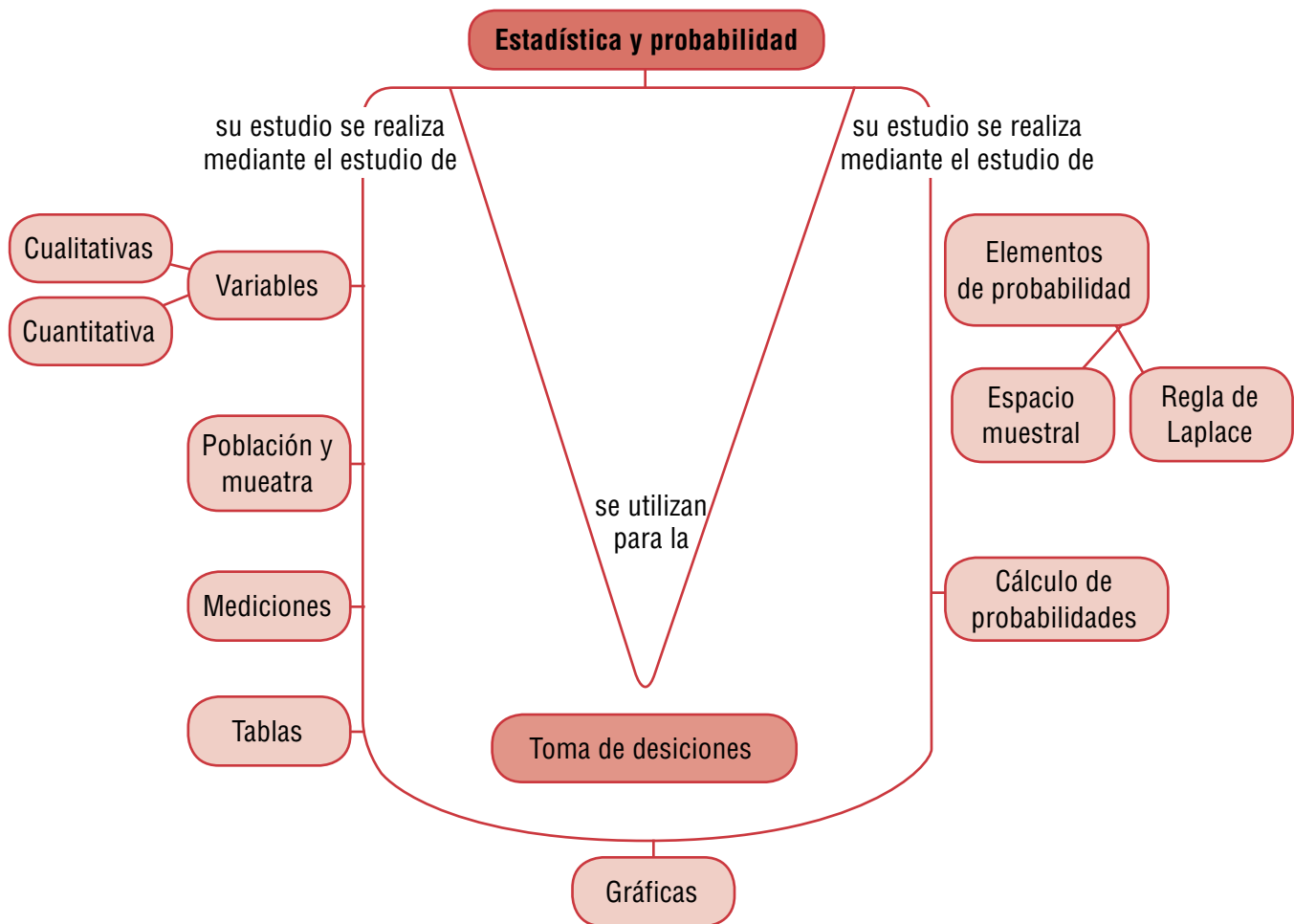
Aunque se puede definir de muchas maneras la estadística, aquí diremos que es un área de las matemáticas que permite recolectar, organizar e interpretar información relacionada con acciones humanas. Al finalizar, la información se puede presentar a partir de tabulaciones, gráficas o números

y su análisis está relacionado con los mismos gráficos presentados.

Muchos acontecimientos de la vida cotidiana, están cargados de incertidumbre, “¿Lloverá hoy?”, “¿Ganará Montoya la próxima carrera?”, “¿Llegaré a tiempo a mi cita?”.

A este tipo de acontecimientos, cuya realización depende del azar los llamamos sucesos aleatorios. Alea, del latín, significa dado, suerte, azar.

La teoría de probabilidad nos da la posibilidad de medir hasta qué punto se puede esperar que ocurra un suceso. A esta medida la llamamos su probabilidad.



Tema 1. Registro y análisis de datos estadísticos



Indagación

Analiza, responde las preguntas, en tu cuaderno y comenta tus respuestas con algunos compañeros.

Pepe hizo una encuesta a personas de su vereda, para saber con qué regularidad ellas van al pueblo y los resultados fueron:

Respuestas	Frecuencia absoluta
Todos los días	15
Una vez a la semana	25
Una vez al mes	10
Alguna vez al año	12
Nunca	5
No contesta	3

1. ¿A cuántas personas encuestó Pepe?
2. ¿Cuántas personas van con más frecuencia al pueblo?
3. ¿Con qué frecuencia van más personas al pueblo?
4. ¿Cuál es el porcentaje de personas que nunca van al pueblo?
5. ¿Cuál es el porcentaje de personas que más van al pueblo?
6. ¿Cómo representarías gráficamente los resultados obtenidos por Pepe? Realízalo.



Conceptualización

A continuación te presentamos una síntesis de los conceptos básicos estudiados desde los cursos anteriores.

Población: conjunto de personas, objetos o elementos sobre los que se realiza un estudio esta-



dístico. Un ejemplo de población, son todos los estudiantes del colegio al que perteneces.

Tamaño de la población: número total de individuos o unidades estadísticas que tiene una población. En este caso si tu colegio es de 500 estudiantes, esta sería el tamaño de la población, si hablamos de Bogotá, la población es de 7'363.782 habitantes.

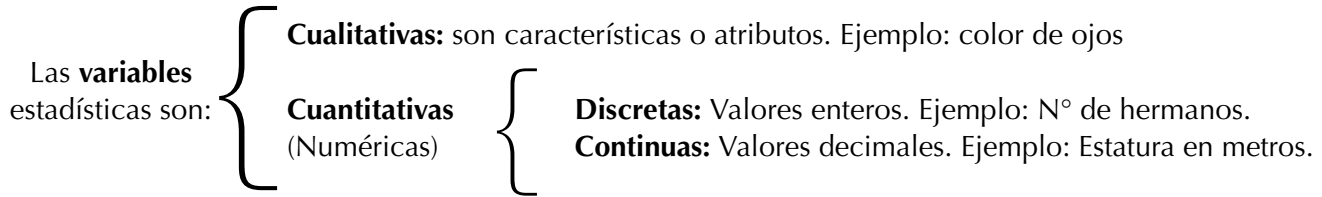
Muestra: cuando una población es muy grande, lo que se hace es subdividir el conjunto al que hace referencia la población; a este subconjunto lo llamamos la muestra de la población. La muestra debe ser representativa y para que pase esto, se utilizan diferentes técnicas de muestreo para asegurar que tengan las mismas características de toda la población.

Un ejemplo de la muestra, es escoger a los estudiantes que están cursando séptimo grado en tu colegio. Otro ejemplo es que si te mandas a sacar sangre en un laboratorio, te dicen que te estas sacando una muestra de sangre, es decir que la población sería toda la sangre que tienes en tu cuerpo. De esta misma manera funciona en la estadística.

Individuo o unidad estadística: cada uno de los componentes de la población.

Datos: podemos decir que son números o medidas que se obtuvieron como resultado de las observaciones para realizar el estudio estadístico.

Variable: cantidad o cualidad que es objeto de estudio en todos los individuos de la población o muestra.



Con el siguiente ejercicio recordemos lo estudiado anteriormente:

Gráficas estadísticas

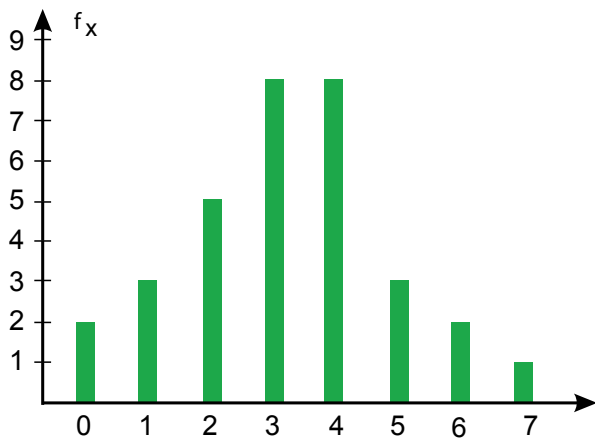
Tomado de: http://ocw.us.es/metodos-de-investigacion-y-diagnostico-en-educacion/analisis-de-datos-en-la-investigacion-educativa/Bloque_1/page_19.htm

Existe una gran variedad de gráficos para representar información, los más conocidos son los diagramas de barras, histogramas y diagramas de sectores.

Una vez construida la tabla de frecuencias, vamos a representar mediante distintos gráficos el estudio rea-lizado. Entre los gráficos más utilizado podemos destacar:

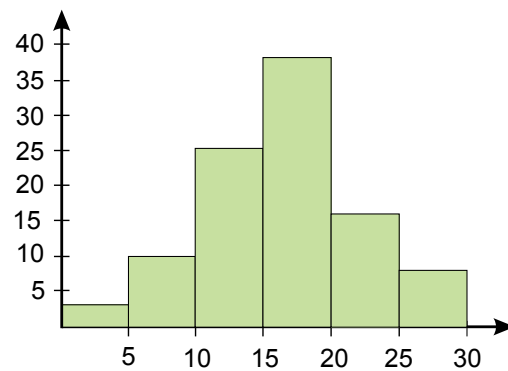
Diagrama de barras

Consiste en dos ejes perpendiculares y una barra o rectángulo para cada valor de la variable. Normalmente, se suele colocar en el eje horizontal los valores de la variable (aunque también se puede hacer en el vertical). El otro eje se gradúa según los valores de las frecuencias. La representación gráfica consiste en dibujar una barra o un rectángulo para cada uno de los valores de la variable de altura igual a su frecuencia.



Histograma

Es un caso particular del diagrama anterior en el caso de variables conti-nuas. Si los intervalos son correlativos, los rectángulos aparecen pegados en la representación gráfica. En caso de que la amplitud de los intervalos no se igual para todos, hay que hacer coincidir el área del rectángulo con la frecuencia del intervalo. Un ejemplo muy utilizado de histograma es una pirámide de población.



Polígono de frecuencias

Representamos dos ejes perpendiculares y representamos en el horizontal los valores de la variable y en el vertical las frecuencias. Representamos los puntos que tiene por primera coordenada el valor de la variable y por segunda el valor de la frecuencia.

Uniando todos los puntos obtenemos una línea poligonal que es la representación que buscamos.

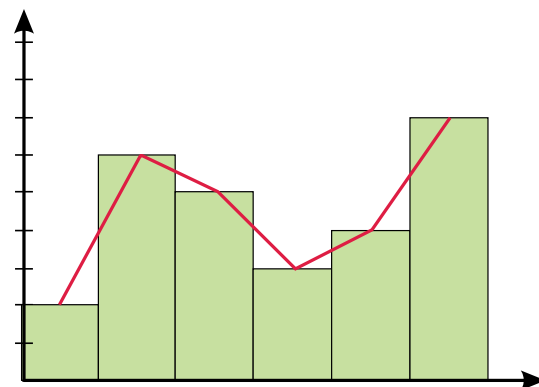
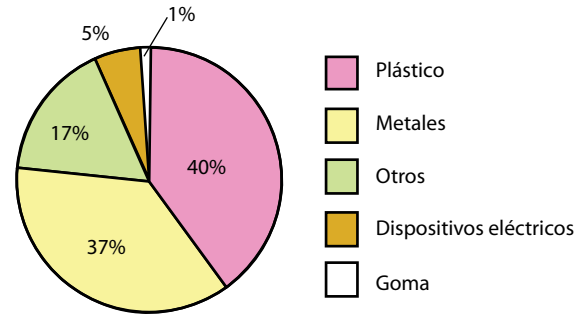


Diagrama de sectores

Consiste en dividir un círculo en tantos sectores como valores de la variable. La amplitud de cada sector debe ser proporcional a la frecuencia del valor correspondiente.



Ahora resolvamos las siguientes situaciones aplicado las conceptualizaciones que vimos anteriormente:

- El alcalde de Bogotá ha decidido invertir en obras sociales para los estratos menos favorecidos y para esto aplico una encuesta a 50 familias en uno de los sectores necesitados, para saber que estrato es el que más predomina en el sector. La pregunta que realizo fue: ¿A que estrato socioeconómico pertenece usted?
La siguiente tabla muestra las respuestas de las 50 familias.

1	1	3	1	3	2	3	2	3	3
3	2	1	1	1	2	3	1	2	2
3	1	2	2	1	3	3	2	1	2
2	2	3	3	2	1	3	2	1	1
1	3	1	2	2	3	2	2	3	1

- Determina el tipo de variable que se utiliza en el problema (cualitativa o cuantitativa).
- Construye la tabla de frecuencias correspondiente.
- A partir de la tabla de frecuencias, elabora el diagrama de barras correspondiente.
- ¿Qué nivel socioeconómico tiene una mayor representación en el barrio?
- ¿Cuál es el porcentaje de representación de cada estrato?
- Si la alcaldía decide implementar la obra social en los barrios donde la representación de los estratos 1 y 2 sea mayor al 67%. ¿Este barrio tendría la inversión de obras sociales?

Solución:

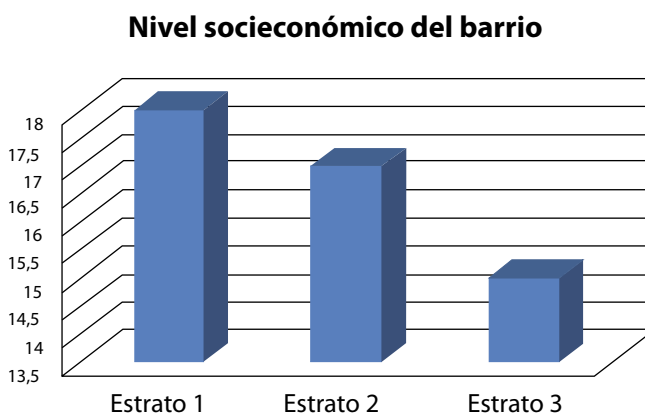
- El tipo de variable que se utiliza es cuantitativa y es “El nivel socioeconómico”
- Tabla de frecuencias. Recuerda que se hace el conteo de la cantidad de personas que pertenecen a estrato 1, 2 y 3.

Estrato 1: 18 familias que pertenecen a este estrato.
Estrato 2: 17 Familias que pertenecen a este estrato.
Estrato 3: 15 familias que pertenecen a este estrato.

Variable: Nivel socioeconómico	f	fa	fr	fp
Estrato 1	18	18	$\frac{18}{50} = 0.36$	36%
Estrato 2	17	35	$\frac{17}{50} = 0.34$	34%
Estrato 3	15	50	$\frac{15}{50} = 0.30$	30%
Total	50	50	$\frac{50}{50} = 1$	100%

Recuerda que f, representa la frecuencia absoluta simple, fa representa la frecuencia absoluta acumulada, fr la frecuencia relativa y fp la frecuencia porcentual o porcentaje.

c. Diagrama de barras



- d. El nivel socioeconómico que tiene una mayor representación en el barrio es el estrato 1 con 18 familias, que representan un 36% de las familias encuestadas.
- e. El porcentaje de representación de cada estrato es: Estrato 1: 36%, Estrato 2: 34%, Estrato 3: 30%.
- f. Como la inversión se hace si la suma de los porcentajes de personas que viven en estrato 1 y 2 es mayor al 67%, sumamos los porcentajes que obtuvimos y tenemos que: $36\% + 34\% = 70\%$. Esto quiere decir que el alcalde si tendrá la inversión de obras sociales.

Entendemos por...

Muestras: subconjuntos de observaciones de la población de estudio.

Diversión matemática

En una mesa hay tres sombreros negros y dos blancos. Tres señores en fila india se ponen un sombrero al azar cada uno y sin mirar el color.

Se le pregunta al tercero de la fila, que puede ver el color del sombrero del segundo y el primero, si puede decir el color de su sombrero, a lo que responde negativamente.

Se le pregunta al segundo que ve solo el sombrero del primero y tampoco puede responder a la pregunta.

Por último el primero de la fila que no ve ningún sombrero responde acertadamente de qué color es el sombrero que tenía puesto.

¿Cuál es este color y cuál es la lógica que uso para saberlo?



Día a día

Variación del dólar



La gráfica muestra el comportamiento del valor del dólar en Colombia durante algunos meses. Observa en cuáles meses ha subido y en cuáles ha bajado, saca conclusiones y compártelas con tus compañeros.

Tomado de: <http://mx.finance.yahoo.com/q/bc?s=MXNUSD=X&t=3m&l=on&z=m&q=l&c=>

Tema 2.

Medidas estadísticas



Indagación

Recuerda las principales medidas estadísticas que has estudiado desde los cursos pasados y en tu cuaderno realiza una lista que compararás con dos o tres compañeros.



Conceptualización Medidas estadísticas

Haciendo una recopilación de lo estudiado en cursos anteriores, a cerca de las medidas usadas en estadística, tendremos en cuenta lo siguiente:

Las medidas descriptivas se dividen en dos grandes grupos, las medidas de tendencia central y las medidas de dispersión o variación.

Las medidas de tendencia central corresponden a aquellas que nos dan una idea de los valores medios, valores centrales o más frecuentes de una determinada distribución de valores. La media, moda y mediana son ejemplos de ellas.

Recordemos lo que significan:

- La media aritmética o promedio, es la medida de tendencia central más utilizada, un ejemplo de esta utilización, es el sacar el promedio de las notas de una materia. Esta medida de tendencia central es un dato que se ubica en el centro de los datos y representa las características del grupo. Podemos decir que esta medida es el punto de equilibrio del conjunto de datos. Recuerda que se representa con el símbolo \bar{X} .
- La mediana es el dato que divide un conjunto de datos en dos partes proporcionalmente iguales. Se representa por: \bar{X} .
- La moda es el dato que más se repite. Se puede representar de dos formas M_o y \bar{X} , pero la más utilizada es la primera.

Las medidas de dispersión son aquellas que nos informan sobre el grado de variabilidad o variación presente en un grupo de datos u observaciones y como ejemplo tenemos al rango, varianza, desviación estándar, desviación media y el coeficiente de variación.

Otros autores hacen la siguiente clasificación:

Las medidas de centralización sirven para determinar los valores centrales de la distribución o conjunto de datos. Estas son moda, media y media aritmética o promedio.

Las medidas de dispersión dan una idea sobre la representatividad de las medidas centrales, a mayor dispersión menor representatividad. Ellas son: varianza, desviación estándar y desviación media.

Las medidas de localización son útiles para encontrar determinados valores importantes, para una “clasificación” de los elementos de la muestra o población. Ellas son los cuartiles, deciles y percentiles.

Resumiendo:

Estadística: es la rama de la matemática que nos permite recoger, organizar y analizar datos. Existen dos conceptos importantes dentro de la estadística que nos permiten analizar y estudiar dichos datos, estos son: población y muestra.

Población: es el conjunto de datos que caracteriza el fenómeno que se desea estudiar.

Muestra: es un subconjunto de la población a estudiar, el cual es necesario que sea representativo de toda la población.

Gráfica: es una representación de la relación entre variables, muchos tipos de gráficos aparecen en estadística, según la naturaleza de los datos involucrados y el propósito de la gráfica, es la de representar los valores tabulados obtenidos de los muestreos o los datos del total de la población. Las gráficas más usadas son: pictogramas, barras, histogramas, polígonos de frecuencias y gráficas circulares.

Distribución de frecuencia: Al resumir grandes colecciones de datos, es útil distribuirlos en clases o categorías, y determinar el número de individuos que pertenecen a cada clase llamado frecuencia de clase.

Una disposición tabular de los datos por clases, junto con las frecuencias correspondientes de clase, se llaman distribuidores de frecuencia o tablas de frecuencia.

Analicemos el caso siguiente:

En un taller de automóviles, su dueño quiere realizar un estudio para saber que el taller se puede sostener sin tener pérdidas, para esto, ha establecido que el promedio de carros que debe entrar diario de lunes a domingo, para poder pagar a sus empleados debe ser mínimo de 5 carros o mayor, para esto tomó los siguientes datos en una semana de lunes a domingo:

Dados los datos de carros que entran de lunes a domingo en su orden: 3, 5, 2, 7, 6, 4, 9.

Para poder responder a la pregunta del dueño, es necesario establecer un estudio estadístico que me permita responder a la pregunta. Para esto, es necesario calcular:

- La **moda**, la mediana y la media.
- La **varianza**, la **desviación media** y la **desviación típica**.
- Los **cuartiles** 1° y 3°.
- Los **deciles** 2° y 7°.
- Los **percentiles** 32 y 85.

Solución

- Moda:** no existe **moda** porque todas las puntuaciones tienen la misma frecuencia, es decir no hay números que se repitan.

Mediana 2, 3, 4, 5, 6, 7, 9. Me = 5 porque es el dato que queda en el centro del conjunto ordenado.

Conclusión: el 50% de los días que se abrió, 5 carros o menos fueron al taller.

Media aritmética, media o promedio

$$\bar{X} = \frac{2 + 3 + 4 + 5 + 6 + 7 + 9}{7} = 5.143$$

Suma de todos los valores, dividido entre el número total de dato.

Conclusión: durante los siete días, en promedio fueron 5.143 carros al taller y puede redondearse a 5.

b. Varianza

$$\sigma^2 = \frac{2^2 + 3^2 + 4^2 + 5^2 + 6^2 + 7^2 + 9^2}{7} = 31.43$$

La **varianza** es la **media aritmética del cuadrado de las desviaciones respecto a la media aritmética** de una distribución estadística. La varianza se representa por σ^2 o por S^2 .

La **Desviación típica** o **Estándar** es la raíz cuadrada de la varianza. Luego va esa igualdad.

$$\sigma = \sqrt{4.978} = 2.231$$

Desviación media:

Es la sumatoria de las diferencias entre los datos y la media, dividida entre el número de datos.

$$d_x = \frac{|2 - 5.143| + |3 - 5.143| + |4 - 5.143| + |5 - 5.143| + |6 - 5.143| + |7 - 5.143| + |9 - 5.143|}{7} = 1.878$$

Rango:

Rango = Dato mayor - dato menor

$$R = 9 - 2 = 7$$

c. Cuartiles:

$$\begin{array}{ccccccc} 2, & 3, & 4, & 5, & 6, & 7, & 9 \\ & \downarrow & & \downarrow & & \downarrow & \\ & Q_1 & & Me & & Q_3 & \end{array}$$

Q_1 = El 25% de los días en que se tomó la asistencia de carros, 3 carros o menos asistieron al taller, mientras que el 75% de los días más de 3 carros asistieron al taller.

Q_3 = El 75% de los días en que se tomó la asistencia de carros, aproximadamente 7 carros o menos asistieron al taller, mientras que el 25% de los días más de 7 personas asistieron.

d. Deciles:

$$\begin{array}{llll} 7 (2/10) = 1.4 & \text{entonces} & D_2 = 3 \\ 7 (7/10) = 4.9 & \text{entonces} & D_7 = 6 \end{array}$$

e. Percentiles

$$\begin{array}{llll} 7 (32/100) = 2.2 & \text{entonces} & P_{32} = 4 \\ 7 (85/100) = 5.9 & \text{entonces} & P_{85} = 7 \end{array}$$

Problema 2:

En la empresa de gaseosas el manantial, un trabajador considera que una de las dos máquinas que tiene la empresa, se encuentra dañada pues en las botellas de su producto estrella, no están saliendo los 470cc que se ofrecen. Como el trabajador quiere saber cuál de las máquinas está dañada, escoge una muestra de 10 botellas llenas de cada máquina, mide su contenido y anota en la siguiente tabla.

Máquina 1	470	453	465	460	458	468	465	470	467	455
Máquina 2	460	445	470	455	465	463	470	487	445	470

Lo primero que tenemos que hacer, es hallar la media de la muestra que se tomó de las dos máquinas, para poder establecer un elemento de juicio para saber que máquina tiene el menor promedio de llenado.

Es el promedio de c.c. con el cual la máquina 1 llena las botellas.

$$\bar{X}_{Máquina\ 1} = \frac{470 + 453 + 465 + 460 + 458 + 468 + 465 + 470 + 466 + 455}{10}$$

$$\bar{X}_{Máquina\ 1} = \frac{4,630}{10} = 463 \text{ Es el promedio de c.c. con el cual la máquina 1 llena las botellas.}$$

$$\bar{X}_{Máquina\ 2} = \frac{460 + 445 + 470 + 455 + 465 + 463 + 470 + 487 + 445 + 470}{10}$$

$$\bar{X}_{Máquina\ 2} = \frac{4,630}{10} = 463 \text{ Es el promedio de cc con el cual la máquina 2 llena las botellas.}$$

De esta manera, podemos observar que la media aritmética no es un elemento válido de conocimiento para saber cuál es la máquina que está dañada.

Utilizaremos la desviación estándar que nos permitirá observar cuál es la dispersión de los datos con respecto a la media.

$$S = \sqrt{\frac{\sum_{i=1}^n (x_i - \bar{x})^2}{n}} \text{ desviación estándar}$$

Máquina 1

$$S = \sqrt{\frac{(470 - 463)^2 + (453 - 463)^2 + (465 - 463)^2 + (460 - 463)^2 + (458 - 463)^2 + (468 - 463)^2 + (465 - 463)^2 + (470 - 463)^2 + (466 - 463)^2 + (455 - 463)^2}{10}}$$

$$S = \sqrt{\frac{(7)^2 + (-10)^2 + (2)^2 + (3)^2 + (-5)^2 + (5)^2 + (2)^2 + (7)^2 + (3)^2 + (8)^2}{10}}$$

$$S = \sqrt{\frac{49 + 100 + 4 + 9 + 25 + 25 + 4 + 49 + 9 + 64}{10}}$$

$$S = \sqrt{\frac{338}{10}}$$

$$S = \sqrt{33.8}$$

$$S = 5.81$$

Maquina 2

$$S = \sqrt{\frac{(460 - 463)^2 + (445 - 463)^2 + (470 - 463)^2 + (455 - 463)^2 + (465 - 463)^2 + (463 - 463)^2 + (470 - 463)^2 + (487 - 463)^2 + (445 - 463)^2 + (470 - 463)^2}{10}}$$

$$S = \sqrt{\frac{9 + 64 + 49 + 64 + 4 + 0 + 49 + 576 + 64 + 49}{10}}$$

$$S = \sqrt{\frac{880}{10}}$$

$$S = \sqrt{88}$$

$$S = 9.38$$

Como resultado tenemos, que la desviación estándar de las máquinas son: máquina 1: $S = 5.81$ y la máquina 2: $S = 9.38$, es así como podemos concluir que la máquina 2, es la que tiene mayor dispersión. De esta manera, podemos deducir que es la máquina que se debe enviar a reparación.



Aplicación

En tu cuaderno resuelve los siguientes ejercicios y analízalos con tus compañeros.

1. El maestro de música de la escuela de Luna nueva, ha conformado una banda con sus 20 estudiantes quienes tienen edades que oscilan entre los 11 y los 15 años.

Las edades son:

14 15 11 13 14 14 12 15 15 14 13 14 12 11 14 14 13 12 14 15

Sigue cada instrucción:

1. Ordena la distribución de edades, de mayor a menor.
 2. Construye la tabla de frecuencias.
 3. Señala la mediana (Me).
 4. Identifica la modas o modas, si las hay.
 5. Expresa el rango de la distribución.
 6. Encuentra los cuartiles.
 7. Calcula la varianza.
 8. Encuentra la desviación típica.
 9. Calcula la desviación media.
 10. Representa la distribución dada en un histograma.
2. Una empresa petrolera desea contratar a una persona que sea quien dirija las inversiones en la ciudad capital, para esto, ya solo dos aspirantes están en la etapa de las últimas pruebas y los resultados de cada una, se muestran a continuación:

	Prueba 1	Prueba 2	Prueba 3	Prueba 4	Prueba 5	Prueba 6	Prueba 7	Prueba 8	Prueba 9	Prueba 10
Aspirante 1	9.5	8.3	8.7	9.1	9.3	9.7	8.7	9.2	9.8	10
Aspirante 2	10	10	8.0	9.2	9.8	7.0	9.5	9.8	9.8	9.5

¿Qué aspirante elegiría usted para quedarse con el cargo?

Entendemos por...

Medida a la expresión comparativa de las dimensiones o cantidades, también podemos decir que es la unidad u objeto que sirve para medir.

Día a día

Medición indirecta

En el momento en el que una persona está determinando la proporción establecida entre la dimensión de un objeto y la unidad de medida, se está llevando a cabo el procedimiento de medición, siempre y cuando dicha dimensión y dicha unidad cuenten con una idéntica magnitud.

Cuando se efectúa la medición, nunca se está exento de que se generen errores en el análisis. Por otro lado, hay dos tipos de medidas: directas e indirectas, ambas susceptibles al surgimiento de errores.

En el primer caso, una medida directa es que aquella que se produce con la disposición de un instrumento de medida que puede obtener el peso de la masa. Por esta razón, cuando se quiere efectuar una medición de la distancia que hay entre un punto "a" y un punto "b" se puede realizar de manera directa solo cuando disponemos de dicho instrumento.

En segundo término, tenemos las medidas indirectas, que se realizan con instrumentos de medición indirecta, el tema que nos ocupa. La misma se produce cuando es imposible, desde ya, realizar una medición directa del peso, debido a que no poseemos la instrumentación necesaria como para realizarla. Esto se debe, a que el valor que se quiere medir es o bien demasiado grande, o bien demasiado pequeño, e incluso porque surgen una serie de obstáculos de otra naturaleza que frenan el pesaje. Pero para contrarrestar estas limitaciones, el proceso indirecto lo que hace es medir una variable, al tiempo que se puede calcular otra variable distinta que nos interese.

En la vida del campo existen muchas mediciones indirectas, por ejemplo medir una longitud de terreno con los pasos.

Tomado de: <http://www.basculasbalanzas.com/instrumentos-de-medicion/medicion-directa-e-indirecta.html>

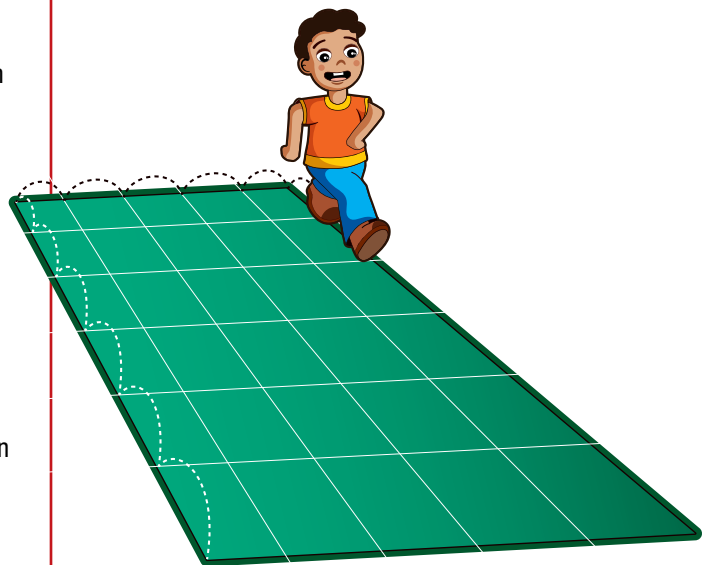
Diversión matemática

La simpática media aritmética

Diviértete con tus amigos resolviendo el acertijo:

La edad media de las siete primeras personas que acudieron al cumpleaños del abuelo de Blanca es de 21 años.

Después llegaron Luis y Ana, y la edad media creció a 23 años. Y al llegar el abuelo de Blanca, la edad media fue de 29 años. ¿Qué edad tiene el abuelo de Blanca?



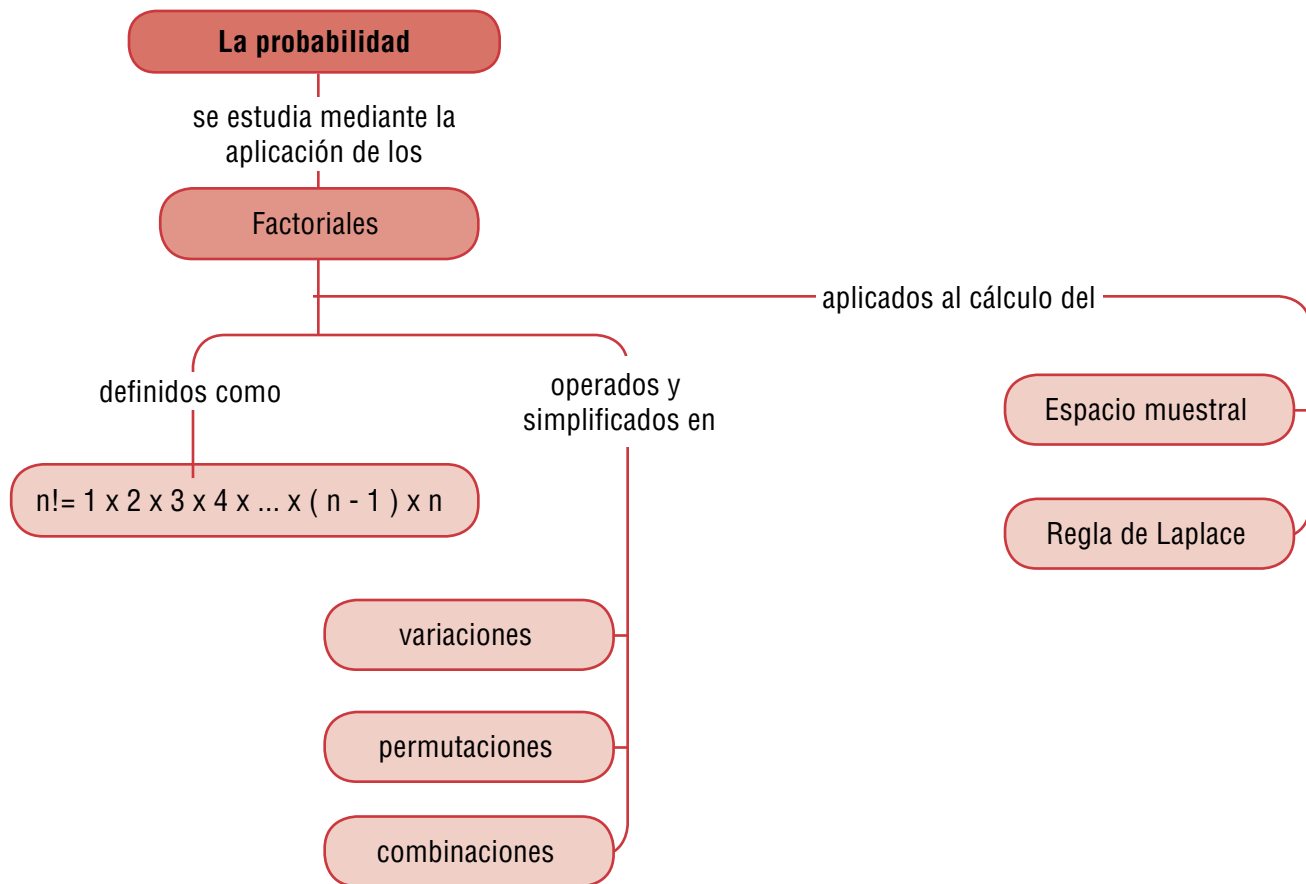
Combinatoria y probabilidad

El deseo de la humanidad de conocer los eventos futuros, originó el concepto de probabilidad.

El estudio de las probabilidades interesó a los jugadores y partidarios de los pasatiempos. Posteriormente, se perfeccionaron las técnicas y a la probabilidad se le dio otros usos.

En la actualidad, se ha continuado el estudio de nuevas metodologías que han permitido maximizar el uso de la computación en el estudio de las probabilidades disminuyendo, de este modo, los márgenes de error en los cálculos.

La probabilidad de ocurrencia de un suceso puede definirse como la proporción de veces que ocurriría dicho suceso si se repitiese un experimento o una observación en un número grande de ocasiones, bajo condiciones similares. Por definición, entonces, la probabilidad se mide por un número entre cero y uno: si un suceso no ocurre nunca, su probabilidad asociada es cero, mientras que si ocurriese siempre su probabilidad sería igual a uno. Así, las probabilidades suelen venir expresadas como decimales, fracciones o porcentajes.



Tema 1. Aplicación del factorial de un número



Indagación

El grupo de baile “Paso de Tumbao”, está conformado por seis integrantes: tres mujeres y tres hombres. Escribe las posibles parejas que se pueden formar. Cada pareja se compone de un elemento rojo y un elemento verde, los cuales corresponden a mujer y hombre respectivamente.



Conceptualización El número factorial

Sabemos que $n!$ factorial es el producto de todos los números desde 1 hasta el número dado.

Según hemos visto en el curso anterior, podemos decir simbólicamente:

$$n! = 1 \times 2 \times 3 \times 4 \times \dots \times (n-1)(n)$$

Recordemos que:

Por definición $0! = 1$

$$1! = 1$$

$$2! = 1 \times 2 = 2$$

$$3! = 1 \times 2 \times 3 = 6$$

$$4! = 1 \times 2 \times 3 \times 4 = 24$$

$$5! = 1 \times 2 \times 3 \times 4 \times 5 = 120$$

⋮
⋮
⋮

$$n! = 1 \times 2 \times 3 \times 4 \times 5 \times 6 \times 7 \times \dots \times (n-1) \times n$$

Propiedad: El factorial de cualquier número es igual a él, por el factorial de su antecesor.

En general: **Podemos decir que $n! = n(n-1)!$**

El factorial de un número n es el producto de todos los factores decrecientes a partir de él, hasta llegar a la unidad. El factorial de un número se escribe $n!$, siendo n cualquier número entero positivo.

Podemos aplicar los factoriales en las variaciones, permutaciones y en general en las combinaciones.

Variaciones

Un arreglo ordenado y sin repetición se denomina **variación ordinaria o variación sin repetición**.

Un arreglo ordenado y con repetición se denomina **variación con repetición**.

En las variaciones ordinarias de m elementos tomados de n en n ($m \geq n$) a los distintos grupos formados por n elementos de forma que: No entran todos los elementos, sí importa el orden y no se repiten los elementos.

$$V_m^n = m(m-1)(m-2)(m-3)\dots(m-n+1)$$

También podemos calcular las variaciones mediante factoriales:

$$V_m^n = \frac{m!}{(m-n)!}$$

Las variaciones se denotan por V_m^n o $V_{m,n}$

Ejemplo:

Calcular las posibles variaciones de dos elementos que se pueden establecer con las letras m, p y q .

Las posibles parejas son:

$(m,p), (m,q), (p,m), (p,q), (q,m)$ y (q,p) en este caso las parejas (m,q) y (q,m) son distintas:

Simbólicamente: $V_m^n = \frac{m!}{(m-n)!}$,

es decir; como $m=3$ y $n=2$, entonces:

$$V_3^2 = \frac{3!}{(3-2)!} = \frac{3!}{1!} = \frac{3 \times 2}{1} = 6$$

Las posibles variaciones de dos elementos que se pueden establecer con las letras m, p y q son seis.

Variaciones con repetición

Se llama variaciones con repetición de m elementos tomados de n en n a los distintos grupos formados por n elementos de manera que:

No entran todos los elementos si $m > n$. Sí pueden entrar todos los elementos si $m \leq n$

Sí importa el orden.

Sí se repiten los elementos.

$$VR_m^n = m^n$$

Ejemplo:

¿Cuántos números de tres cifras se puede formar con los dígitos: 1, 2, 3, 4 y 5? matemáticamente:

$$VR_m^n = m^n, \text{ donde } m=5 \text{ y } n=3;$$

$$\text{Entonces: } VR_5^3 = 5^3 = 5 \times 5 \times 5 = 125$$

De esta manera se pueden formar 125 números de tres cifras con los dígitos 1,2,3,4 y 5.

Permutaciones

Llamamos permutación de un conjunto a cada una de las posibles ordenaciones de todos los elementos de dicho conjunto, de tal forma que: sí entran todos los elementos, sí importa el orden y no se repiten los elementos.

$$P_n = n!$$

Por ejemplo:

Dado el conjunto {1, 2, 3}, es posible ordenar sus elementos, sin repetirlos.

$$\{1, 2, 3\}, \{1, 3, 2\}, \{2, 1, 3\}, \{2, 3, 1\}, \{3, 1, 2\} \text{ y } \{3, 2, 1\}.$$

Existe un total de 6 permutaciones para estos elementos:

Permutaciones circulares

Las permutaciones circulares se utilizan cuando los elementos se han de ordenar “en círculo”, (por ejemplo, los comensales en una mesa), de modo que el primer elemento que “se sitúe” en la muestra determina el principio y el final de muestra.

$$PC_n = P_{n-1} = (n-1)!$$

Ejemplo: ¿De cuántas distintas formas pueden sentarse ocho personas alrededor de una mesa redonda?

$$PC_8 = P_{8-1} = (8-1)! = 7! = 5,040$$

Permutaciones con repetición

Las permutaciones con repetición de m elementos donde el primer elemento se repite a veces, el segundo b veces, el tercero c veces, ... ($m = a + b + c + \dots = n$) son los distintos grupos que pueden formarse con esos m elementos de forma que: Sí entran todos los elementos, sí importa el orden, sí se repiten los elementos.

$$PR_n^{a,b,c,\dots} = \frac{P_n}{a! \times b! \times c! \times \dots}$$

Ejemplo

En el asta de un barco se pueden izar dos banderas blancas, tres banderas azules y cuatro banderas verdes. ¿Cuántas señales distintas pueden indicarse con la colocación de las nueve banderas?

El número de señales distintas es:

$$PR_n^{a,b,c,\dots} = \frac{P_n}{a! \times b! \times c! \times \dots}, \text{ donde } a=2, b=3 \text{ y } c=4$$

Entonces:

$$PR_9^{2,3,4} = \frac{9!}{2! \times 3! \times 4!} = 1,260,$$

Recordemos que $P_n = n!$

Por lo tanto el barco puede enviar 1,260 señales distintas.

Combinaciones

Se llama combinaciones de m elementos tomados de n en n ($m \geq n$) a todas las agrupaciones posibles que pueden hacerse con los m elementos de forma que: no entran todos los elementos, no importa el orden, no se repiten los elementos.

$$C_m^n = \frac{V_m^n}{P_n}$$

También podemos calcular las combinaciones mediante factoriales:

$$C_m^n = \frac{m!}{n!(m-n)!}$$

Ejemplo

Mariana tiene 6 amigas y desea invitarlas a cenar, pero solo puede invitar a 4 simultáneamente. ¿Cuántos grupos distintos de invitadas puede tener?

$$C_6^4 = \frac{6!}{4!(6-4)!} = \frac{6!}{4!2!} = \frac{6 \times 5 \times 4 \times 3 \times 2}{4 \times 3 \times 2 \times 2} = 15$$

Hay 15 grupos distintos de invitadas a cenar



Combinaciones con repetición

Las combinaciones con repetición de m elementos tomados de n en n ($m \geq n$), son los distintos grupos formados por n elementos de manera que: no entran todos los elementos, no importa el orden y sí se repiten los elementos.

$$CR_m^n = \binom{m+n-1}{n} = \frac{(m+n-1)!}{n!(m-n)!}$$

Ejemplo:

Los distintos grupos formados con los dígitos del 1 al 5, en subgrupos de 4, en los que 2, 3 o los cuatro elementos podrían estar repetidos, están dados por en la expresión siguiente:

$$CR_s^4 = \frac{(5+4-1)!}{4!(5-4)} = \frac{8!}{4! \times 1!} = \frac{8 \times 7 \times 6 \times 5 \times 4 \times 3 \times 2}{4 \times 3 \times 2} = 1,680$$

Copia en tu cuaderno los siguientes ejercicios y después de analizarlos y resolverlos compara tus respuestas con las de algunos compañeros.



Aplicación

1. ¿Cuántas palabras se pueden formar con las letras de "FINCA"?
2. ¿Cuántos números de tres cifras pueden formarse con los 4 primeros números pares del conjunto de los números naturales?
3. ¿Cuántos partidos se juegan en un torneo conformado por 6 equipos?
4. ¿De cuántas formas diferentes se pueden cubrir los cargos de presidente, secretario y tesorero de una junta de acción comunal sabiendo que hay 7 posibles candidatos?
5. En la heladería le ofrecen a Martha conos de tres sabores, si la heladería dispone de 5 sabores, ¿Cuántas variaciones de sabores hay?
6. Pedro, Mario, María y Natalia se reúnen a dialogar en la cafetería, si la mesa es redonda, ¿De cuántas formas distintas se pueden sentar?

Calcula las operaciones:

7. $7! - 5!$
8. $(3!)2 + (1!)$
9. $\frac{8!}{6!}$
10. $\frac{(4-2)!}{3!} + \frac{3!}{2!}$

Entendemos por...

Combinación el número de subconjuntos que se pueden extraer de un conjunto dado.

Diversión matemática

Tres hombres desean cruzar un río con tres niños, pero en la barca en que viajaban solo se permite cruzar el río a un hombre o dos niños cada vez.

¿Cómo harán para cruzar el río?



Día a día

Los cocteles sin alcohol

Tradicionalmente un coctel es una mezcla o combinación de licores.

Hoy, se han puesto de moda los cocteles sin alcohol, que en general tienen un aspecto muy similar a los cocteles tradicionales, con la diferencia de que no utilizan ningún tipo de bebida con alcohol, por lo que son aptos para cualquier tipo de persona, incluso para los niños.

Los cócteles sin alcohol son en su mayoría frutales, aunque no se descarta la posibilidad de un cóctel sin alcohol con crema de leche o café.

La decoración de los cocteles debe ser estimulante y atractiva, jamás extravagante.

En general los cocteles refrescantes con base en frutas permiten más elementos decorativos que los otros tipos de bebidas, algunas ideas son sombrillitas, gajos, rodajas o cáscaras de frutas y nunca olvidar un agitador a tono del coctel.



Tomado de: <http://bebidasycocteles.com/cocteles-sin-alcohol>


Tema 2. Probabilidad de la ocurrencia sucesiva de eventos



Indagación

Algunos de los conceptos que abordaremos, ya son conocidos de los cursos anteriores, y a partir de ellos construirás otros nuevos. Recordaremos aquí lo visto:

Piensa en la experiencia aleatoria al hacer los lanzamientos:



- Una moneda
- Un dado

En cada caso, ¿qué posibilidades pueden ocurrir?
Escribe en tu cuaderno las posibles respuestas y después compara y analiza con tus compañeros.



Conceptualización Experimentos aleatorios y espacio muestral

La moneda puede caer en cara o en sello y el dado puede caer en uno de los números 1, 2, 3, 4, 5 o 6.

A cada uno de estos sucesos se le llama suceso elemental, además, tanto en el caso de la moneda, como en el caso del dado se trata de sucesos equiprobables.

Los sucesos equiprobables son aquellos que tienen la misma probabilidad de ocurrir. La probabilidad de ocurrencia la calculamos por la aplicación de la regla de Laplace.

Recordemos que para sucesos elementales como los de la moneda o los del dado, la Ley de Laplace, se expresa como:

$$P(\text{de cada suceso elemental}) = \frac{1}{\text{Número de sucesos elementales}}$$

Si la moneda no está alterada, la probabilidad de que caiga cara es:

$$P(\text{cara}) = \frac{1}{2}$$

Caiga cara o caiga sello, la misma probabilidad es la misma.

Si el dado no está cargado, la probabilidad de que caiga uno cualquiera de los números de 1 a 6 es siempre igual a $\frac{1}{6}$. Por ejem-

plo, la probabilidad de que salga 1 es: $P(1) = \frac{1}{6}$ y tanto 1 como 2, 3, 4, 5 o 6 tienen la misma probabilidad de salir.

Cálculo de probabilidades

Analicemos:

¿Cuál es la probabilidad de todos los sucesos elementales asociados a un experimento?

En el caso del lanzamiento de la moneda, hemos visto que hay dos sucesos elementales posibles: cara y sello.

$$P(\text{cara}) + P(\text{sello}) \\ \frac{1}{2} + \frac{1}{2} = \frac{2}{2} = 1$$

En el lanzamiento de un dado, ¿cuáles son los sucesos elementales posibles? Son seis: sacar 1, sacar 2, sacar 3, sacar 4, sacar 5 y sacar 6.

Si el dado es correcto, cada uno de estos sucesos es equiprobable, entonces:

$$P(1) + P(2) + P(3) + P(4) + P(5) + P(6) \\ \frac{1}{6} + \frac{1}{6} + \frac{1}{6} + \frac{1}{6} + \frac{1}{6} + \frac{1}{6} = \frac{6}{6} = 1$$

La suma de las probabilidades de todos los sucesos elementales asociados a un experimento aleatorio es 1.

¿Cuál es la probabilidad de no sacar 3?

La probabilidad de no sacar 3 es igual a sacar cualquiera de los números menos 3.

La probabilidad de sacar 3 es $P(3) = \frac{1}{6}$

Como la suma de las probabilidades es 1, entonces, la probabilidad de no sacar 3 es:

$$P(\text{no 3}) = 1 - \frac{1}{6} = \frac{6}{6} - \frac{1}{6} = \frac{5}{6}$$

En general:

La probabilidad de ocurrencia de un suceso es la suma de las probabilidades de los sucesos elementales que la componen.

Probabilidad de eventos combinados. Regla de la suma

Veamos la siguiente situación:

En una caja se tienen diez tarjetas numeradas del 1 al 10. Se extrae una tarjeta y se quiere determinar:

- La probabilidad de extraer una tarjeta que tenga el número 4.
- La probabilidad de sacar el número 9.
- La probabilidad de elegir al número 4 ó 9.

Solución

El espacio muestral (EM o S) es el conjunto de tarjetas:

$$EM = S = \{2, 3, 4, 5, 6, 7, 8, 9, 10\}$$

El número de elementos del espacio muestral es $n(EM) = n(S) = 10$.

La regla de Laplace nos dice que la probabilidad de sacar una tarjeta cualquiera es:

$$P(A) = \frac{\text{sucesos esperados}}{\text{sucesos posibles}}$$

La probabilidad de sacar la tarjeta con el número 4 es $P(4) = \frac{1}{10}$ porque solo hay una tarjeta con ese número entre 10.

La probabilidad también puede expresarse en forma decimal o en forma porcentual.

$$\text{Así: } P(4) = \frac{1}{10} = 0.10 = 0.10 \times 100 = 10\%$$

Como de cada número hay una tarjeta, entonces cada una de ellas tiene la misma probabilidad de salir.

$$P(9) = \frac{1}{10} = 0.10 = 0.10 \times 100 = 10\%$$

En c) se pide la probabilidad de que la tarjeta que se extraiga tenga el número 4 o el número 9. Cuando esto sucede, se suman las probabilidades de los eventos ya que «extraer 4» excluye la probabilidad de «extraer 9», esto es:

$$P(A \text{ o } B) = P(A) + P(B)$$

$$P(4 \text{ o } 9) = \frac{1}{10} + \frac{1}{10}$$

$$P(4 \text{ o } 9) = \frac{2}{10}$$

$$P(4 \text{ o } 9) = \frac{1}{5}$$

Esta probabilidad indica que puede suceder uno de los dos eventos mutuamente excluyentes; esto es, que salga la tarjeta con el número 4 o que salga tarjeta con el número 9.

Podemos concluir que:

Cuando dos eventos no pueden ocurrir simultáneamente al realizar un experimento, se dice que éstos son mutuamente excluyentes o independientes y para terminar la probabilidad de dos eventos de este tipo se suman las probabilidades de que ocurra cada evento.

Diagrama de árbol

Una buena estrategia en la resolución de problemas es hacer una representación gráfica que esquematice y resuma la situación planteada y quizás visualice caminos de solución.

Una de estas representaciones es el diagrama de árbol, llamado así porque presenta divisiones y subdivisiones parecidas a ramas, brotes y hojas de un árbol.

Resulta muy útil a la hora de contar casos que se pueden dar en una cierta situación.

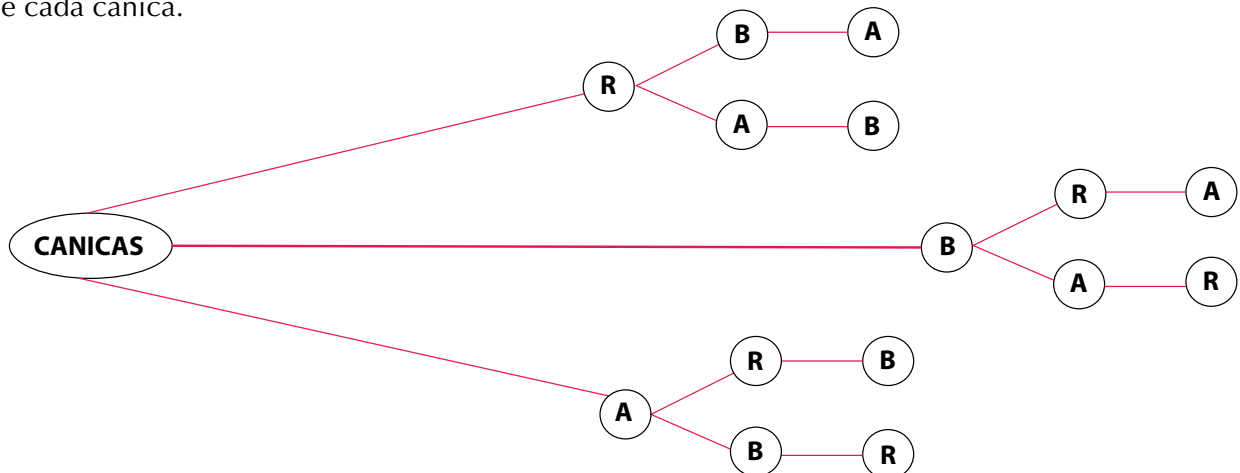
El diagrama de árbol es una forma de conocer el número de posibles resultados o arreglos que se pueden hacer con varios eventos, como en la siguiente situación:

Dos niñas están jugando y una debe adivinar el arreglo que a otra haga con tres canicas de diferente color, cuando éstas caigan en tres huecos alineados (roja, blanca y amarilla).

¿Cuántos posibles arreglos se pueden hacer con esas canicas?

Esto se puede representar a través de un diagrama, el cual se llama de árbol por la forma que adquiere.

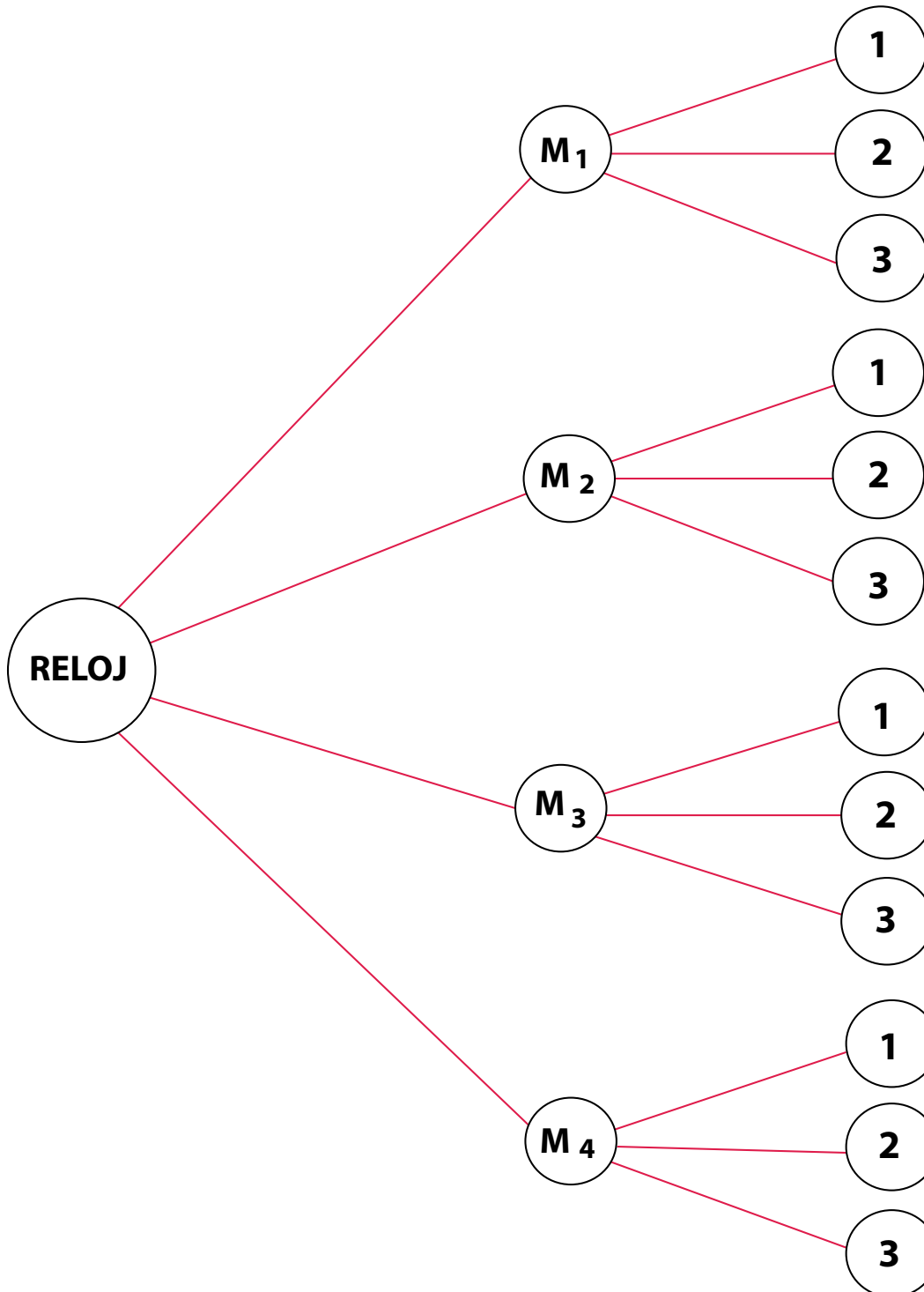
Observa el diagrama que muestra dichos arreglos, según el hueco que ocupe cada canica.



En el siguiente caso no es importante el orden:
 Se desea comprar un reloj y la tienda ofrece cuatro marcas diferentes y tres modelos de cada una.

¿Cuántas opciones se tienen para elegir un reloj?

¿Qué probabilidad se tiene de elegir un reloj de la marca 1 y modelo 3?



La probabilidad de elegir un reloj de marca 1 y modelo 3 sería de $\frac{1}{12}$.

Ahora observa otro ejemplo en donde el **experimento es sin reemplazo**, es decir, sin que existan las mismas posibilidades, para cada tarjeta.

En cierta escuela se va a rifar una enciclopedia entre 10 de los alumnos más sobresalientes de primero, segundo y tercer grado. Hay 4 alumnos de tercero, 3 de segundo y 3 de primero y sus nombres se colocan en un papel depositándolos en una urna.

La rifa se hace por eliminación, ¿cuál es la probabilidad de que un alumno de segundo grado gane la rifa en el cuarto intento?

Aquí el total de eventos son 10, ya que ése es el total de alumnos que participan en la rifa:

Probabilidad que tienen los alumnos de tercer grado: $P(T)$. Probabilidad de los de segundo grado: $P(S)$.

Probabilidad de los de primer grado: $P(P)$ (Las probabilidades que tienen los alumnos, antes de iniciar la rifa, son:

$$P(T) = \frac{4}{10}$$

$$P(S) = \frac{3}{10}$$

$$P(P) = \frac{3}{10}$$

Si en la primera extracción se sacó el nombre de un alumno de tercer grado y la rifa es por eliminación o sin reemplazo, entonces, para determinar las probabilidades se tiene lo siguiente:

Total de alumnos	= 9
Alumnos de tercero	= 3
Alumnos de segundo	= 3
Alumnos de primero	= 3

Las probabilidades son ahora: $P(T) = \frac{3}{6}$

$$P(S) = \frac{2}{6}$$

$$P(P) = \frac{1}{6}$$

En la segunda extracción se elimina el nombre de un alumno de primero.

Entonces, el total de alumnos es de 8 y disminuye en uno los alumnos de primero, con lo que las probabilidades son:

$$P(T) = \frac{3}{8}$$

$$P(S) = \frac{3}{8}$$

$$P(P) = \frac{2}{8}$$

En la tercera se extrae el nombre de un alumno de segundo; así pues, las probabilidades son:

$$P(T) = \frac{3}{7}$$

$$P(S) = \frac{2}{7}$$

$$P(P) = \frac{2}{7}$$

Y en la cuarta extracción se escoge el nombre de un alumno de primero, siendo las probabilidades:

$$P(T) = \frac{3}{6}$$

$$P(S) = \frac{2}{6}$$

$$P(P) = \frac{1}{6}$$

De aquí se tiene que la probabilidad de que un alumno de segundo grado gane la rifa en el cuarto

$$\text{Intento es de: } \frac{2}{6} = \frac{1}{3}$$

De este ejemplo se observa que, cuando un experimento se realiza sin remplazo, las probabilidades varían después de que sucede un evento.

Con base en los ejemplos mostrados se concluye que:

El experimento de la urna de Bernoulli consiste en determinar la probabilidad de que un evento ocurra con o sin remplazo.

Lee y analiza el siguiente texto. Invita a tus compañeros(as) de grupo.

Simulación en problemas

El siguiente ejemplo, ilustra la simulación de problemas de azar empleando una urna de Bernoulli, con reemplazo, lo cual permite dar una idea aproximada del comportamiento de un experimento.

El señor Rosas vende enciclopedias, los datos de ventas le han permitido establecer que cada vez que visita un cliente tiene una probabilidad de $\frac{1}{5}$ de hacer una venta de \$1,000,000, una probabilidad de $\frac{2}{5}$ de hacer una venta de \$500,000 y finalmente una probabilidad de no vender es de $\frac{2}{5}$.

Si el señor Rosas tiene programado visitar diez clientes, ¿cuánto venderá?

Para simular este problema, se emplea el experimento de la urna de Bernoulli con reemplazo; esto es, se colocan tantas canicas de diferente color en una urna (o caja) como eventos se tengan.

Para este ejemplo, una canica roja representa la probabilidad de hacer una venta de \$1,000,000, dos canicas blancas la probabilidad de hacer una venta de \$500,000 y dos canicas verdes la probabilidad de no efectuar ninguna venta.

Se extrae al azar una canica y se repite la experiencia diez veces (debido a que estos son los clientes que visitará), registrándose los resultados obtenidos.

Con ello se puede tener una idea de lo que, quizá, ocurra cuando el señor Rosas visite a sus clientes.

Al efectuar el experimento se tienen los siguientes datos:

Cliente Evento	1	2	3	4	5	6	7	8	9	10	Total
Canica roja			✓	✓						✓	3
Canica blanca	✓				✓	✓			✓		4
Canica verde		✓					✓	✓			3

De la tabla de datos, se observa que la canica roja salió tres veces, esto indica que probablemente venderá \$3,000,000; como la canica blanca salió cuatro veces, tal vez venda \$ 2,000,000. Por último, la canica verde salió tres veces, por lo que tal vez no realice venta alguna:

Esto da una idea aproximada de lo que quizá suceda si el señor Rosas visita a sus clientes.

Este tipo de modelo se puede aplicar a otros problemas y con ello determinar la probabilidad de que un evento ocurra en un experimento.

La simulación tiene una gran aplicación en la ingeniería y suele hacerse con programas de computador, por citar un ejemplo. Antes de probar un avión, se efectúa en tierra un simulacro de vuelo, en caso de que haya fallas se corrigen para evitarlas cuando el avión vuele.

La simulación es una técnica empleada para realizar experimentos con ciertos tipos de modelos matemáticos que describen el comportamiento de un determinado sistema operativo.

Probabilidad condicional

Quién no ha oído expresiones como las siguientes:

Si haces la tarea, vas a la fiesta.

Si llueve pronto, se echará a perder la siembra.

Si otorga el préstamo el banco podremos sembrar.

La probabilidad de que al lanzar un dado caiga

$$6 \text{ es } \frac{1}{6} ;$$

es decir, $P(6) = \frac{1}{6}$ puesto que el espacio muestral es 1, 2, 3, 4, 5, 6; pero al

condicionar el evento a la probabilidad de un número mayor que 2, éste y el uno quedan excluidos del espacio muestral y se modifica la probabilidad

$P(6)$ después de $n > 2$ para ser ahora igual a $\frac{1}{4}$.

A este tipo de probabilidad se le conoce como **probabilidad condicional**.

Cálculo de la probabilidad de eventos combinados

¿Cuántos juegos de azar conoces?

¿Alguna vez te has preguntado cómo podrías calcular las posibilidades que tienes de ganar en cualquiera de ellos?

Ahora juega a ganar conociendo las posibilidades que tienes.

Con tus compañeros organiza un equipo y dispónganse a jugar lanzando dos dados.

1. Al lanzar los dos dados y sumar los números representados, ¿qué valores puede tomar la suma? Realicen 30 lanzamientos y registren los resultados
2. ¿Cuál es el resultado menor?, ¿Cuál el mayor? ¿Obtuvieron esos resultados? ¿Cuántos sucesos elementales resultan?
3. ¿De cuántas maneras se puede obtener dos unos? ¿Cuál es entonces la probabilidad de obtener dos unos, al lanzar dos dados?

4. Analiza este hecho de otra manera.

La probabilidad de obtener 1 en el primer dado es $\frac{1}{6}$

¿Cuál es la probabilidad de obtener 1, en el segundo dado?

Observa que $\frac{1}{6} \times \frac{1}{6} = \frac{1}{36}$

Compara este resultado con el obtenido en 3.

5. ¿Estarías de acuerdo con la siguiente conclusión?

El experimento de obtener dos unos en el lanzamiento de dos dados puede considerarse como la composición de otros dos:

$$P(\text{dos unos}) = P(\text{uno en el 1er. dado}) \times P(\text{uno en el 2º dado})$$

Regla del producto

El concepto de probabilidad nace cuando algunos aficionados a los juegos de azar deciden estudiar las oportunidades que tienen de ganar. Así, se realizan experimentos y se obtienen reglas que actualmente se aplican en muchas situaciones en donde interviene el azar.

La regla del producto es una de las muchas que han surgido de esos experimentos y ahora corresponde ver en qué consiste.

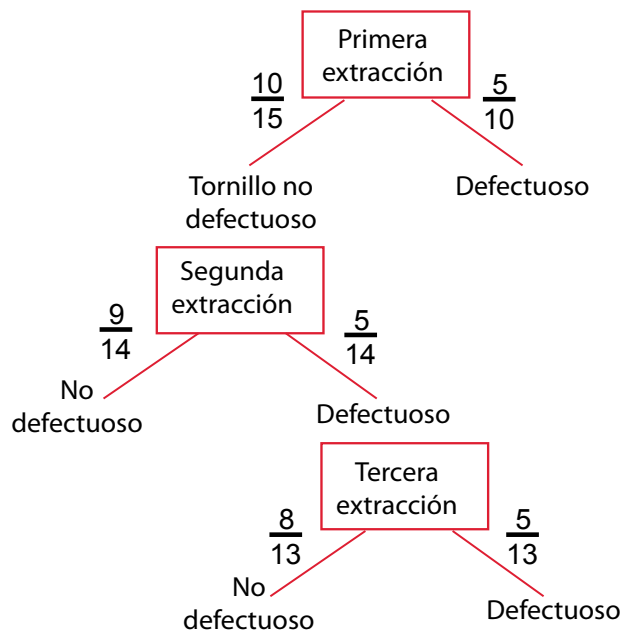
Analiza el siguiente ejemplo:

En una urna hay 15 tornillos, de los cuales 5 son defectuosos. Calcular la probabilidad de que al sacar 3 tornillos al azar, éstos no sean defectuosos.

La probabilidad de que el primer tornillo no sea defectuoso es $\frac{10}{15}$, pues son 10 tornillos no defectuosos.

Si el primero no es defectuoso, la probabilidad de que el segundo no lo sea es de $\frac{9}{14}$, los casos favorables son 9 de los 14 posibles, ¡puesto que ya se ha sacado un tornillo! Y por último, si los dos primeros no salieron defectuosos, la probabilidad de que el tercero tampoco lo sea es de $\frac{8}{13}$.

Un diagrama de árbol nos ayuda a visualizar el experimento:



$$P(3 \text{ tornillos no defectuosos}) = \frac{10}{15} \times \frac{9}{14} \times \frac{8}{13} = \frac{720}{2,730} = \frac{24}{91}$$

Observa un hecho importante en cada bifurcación: la suma de las probabilidades es 1.

En síntesis, se puede decir que:

La probabilidad de dos o más eventos (cuando no hay reemplazo) es igual al producto de la probabilidad de cada uno, obtenida después de cada evento.

Ahora, analiza este otro ejemplo:

En un archivo hay 14 tarjetas blancas y 6 azules. Calcular la probabilidad de sacar dos tarjetas blancas, si al extraer la primera, ésta se reintegra al archivo.

La probabilidad de que la primera sea blanca es $\frac{14}{20}$ pues nuevamente en el archivo hay 20 tarjetas de las cuales 14 son blancas.

$$\frac{14}{20} \times \frac{14}{20} = \frac{196}{400} = \frac{49}{100}$$

De lo anterior se concluye que:

La probabilidad de dos o más eventos (cuando sí hay reemplazo) es igual al producto de las probabilidades de ambos eventos independientes.



Aplicación

Intégrate a un equipo y con cuaderno y lápiz a la mano, resuelve los problemas que se presentan a continuación. Compara tus resultados con los obtenidos por tus compañeros de otros grupos.

1. Los pesos de 40 estudiantes son:

60,	60,	65,	55,	63	48,	45,	38,	47,	65
50,	59,	54,	52,	56	57,	48,	49,	50,	50
36,	47,	62,	63,	47	52,	76,	74,	65,	50
61,	59,	58,	45,	49	52,	52,	52,	48,	48

- a. Calcula la media de estos datos.
- b. Agrupa los datos en intervalos:

(35.5 – 42.5)	(42.5 – 49.5)	(49.5 – 56.5)
(56.5 – 63.5)	(63.5 – 70.5)	(70.5 – 77.5)

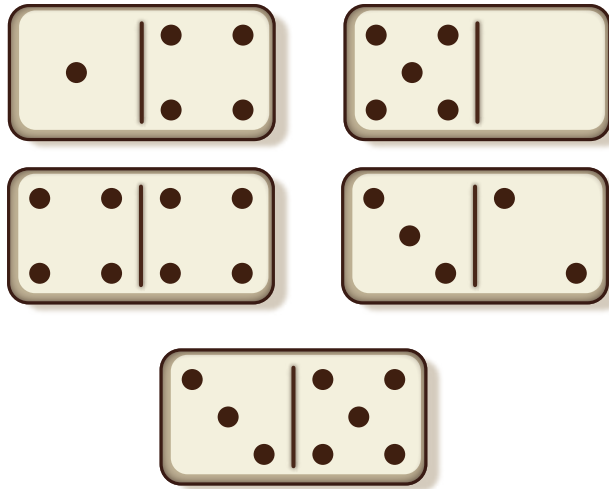
Haz una tabla de frecuencias f_i , calcula el valor central de cada intervalo x_i . Anota en ella los productos $f_i x_i$ y encuentra la media de datos agrupados.

c. Compara los valores de la media obtenidos en a) y b), ¿qué observas?

¿Encuentras ventajas en el procedimiento de datos agrupados?

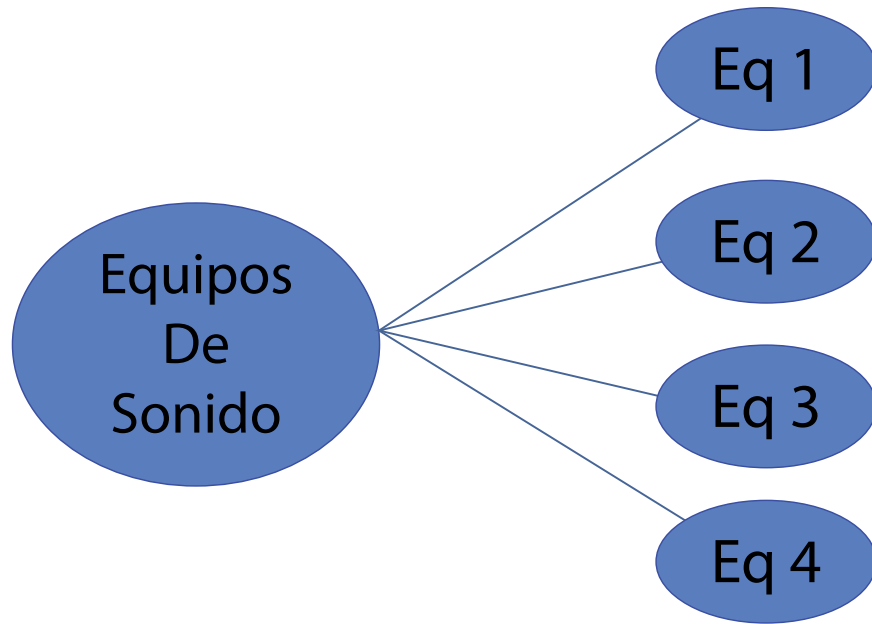
d. Construye el histograma con los datos agrupados, localiza la media en la gráfica.

2. Si en un juego de dominó se tienen boca abajo las siguientes fichas, determina las cuestiones señaladas.



- ¿Cuál es el espacio muestral?
- ¿Cuál es la probabilidad de obtener una ficha en la que una de sus partes tenga el número 5?
- ¿Cuál la de obtener una ficha cuyos números sumen 5?
- ¿Cuál es la probabilidad de que si una persona toma una ficha ésta sea blanca?
- Si la primera persona sacó la ficha (5,0), ¿cuál es la probabilidad de que una segunda persona levante una ficha que tenga un 4?
- ¿Cuál es la probabilidad de que al tomar una ficha tenga el número 6?
- ¿Qué nombre recibe este tipo de evento?
- Si al finalizar quedan las fichas (3,2), (5,3), (4,1), representa en tu cuaderno con un diagrama de árbol los diferentes arreglos que se forman según el orden en que salgan.
- ¿Cuántos arreglos diferentes se pueden obtener con las 3 últimas fichas?
- ¿Cuál es la probabilidad de que al tener 5 fichas, la primera persona saque la (5,3) y la segunda la (4,1)?

3. Completa el diagrama de árbol para conocer cuántas opciones tiene una persona que desea comprar un equipo de sonido cuando le ofrecen cuatro marcas diferentes y tres modelos distintos de cada marca.



¿Cuántas opciones diferentes tiene esa persona?
 Explica si es importante el orden en este tipo de arreglo.

4. Al preguntar a diez personas qué tipo de música les gusta oír, contestaron lo siguiente: dos personas, música tropical; tres personas, música rock; cuatro personas, música norteña y una persona música romántica.
 - a. ¿Cuál es el espacio muestral de este experimento?
 - b. ¿Cuál es la probabilidad de que una persona oiga música: norteña, tropical, rock, romántica?
 - c. ¿Cuál será la probabilidad de que alguna de estas personas oiga música norteña o tropical?
 - d. ¿Cuál será la probabilidad de que alguna de estas personas oiga rock o romántica?

5. Al lanzar un dado 30 veces, ¿cuántas veces caerá tres?
 Registra los resultados de cada uno de los integrantes del grupo en una tabla como:

	Total de lanzamiento	Acierto de 3	Probabilidad experimental
Luisa	30	x	
Ricardo	30	...	

- a. ¿Qué resultado teórico esperabas?
- b. ¿Quién de tus compañeros(as) estuvo más cerca de este resultado?
- c. Si suman los lanzamientos de todo el grupo como si se tratara de un experimento, realizado más veces, ¿cuál es la probabilidad experimental de sacar 3 en un lanzamiento de dado?

6. En un torneo de basquetbol participan 10 equipos, de los cuales tres son de la zona del Pacífico, cinco de la zona del centro y dos de la zona del norte, determina lo siguiente:

Cuál es la probabilidad de que gane el torneo un equipo

- a) Del centro
- b) Del norte
- c) Del Pacífico

Cuál es la probabilidad de que no lo gane un equipo:

- a. Del centro
- b. Del norte
- c. Del Pacífico

7. Una persona va a comprar un automóvil y le comentan que con el dinero que con que cuenta puede adquirir un automóvil de cualquiera de las siguientes marcas: Chrysler, Chevrolet, Ford, BMW, Nissan.

Cuál es la probabilidad de que adquiera:

- a. Un Ford
- b. Un Chrysler

Cuál es la probabilidad de que no adquiera:

- c. Un Nissan
- d. Un Chevrolet

8. En una urna hay 10 boletas, 3 rojas, 4 blancas, 2 negras y 1 azul. De los siguientes sucesos, ¿cuál es el más probable y por qué?

- a. Sacar una boleta que sea blanca o azul.
- b. Sacar una boleta que sea roja o negra.
- c. Sacar una boleta que sea blanca o negra.

9. En una bolsa se tienen 3 canicas rojas, 2 amarillas y 4 blancas, determina lo siguiente (considera que el experimento es con reemplazo):

- a. La probabilidad de extraer una canica amarilla.
- b. La de sacar una canica blanca.
- c. La de elegir una canica roja.
- d. ¿Cómo son las probabilidades para cada color de canica?

10. En una urna hay 10 boletas: 3 son rojas, 4 blancas, 2 negras y 1 azul. De los siguientes sucesos, ¿Cuál es el más probable y por qué?

- a. Sacar una boleta que sea blanca o azul.

- b. Sacar una boleta que sea roja o negra.
 - c. Sacar una boleta que sea blanca o negra.
11. En un almacén se tienen 7 televisores, de ellos 4 son a color y 3 en blanco y negro. Si una persona elige uno al azar, determina lo siguiente:
- a. La probabilidad de elegir un televisor a color.
 - b. La de escoger uno en blanco y negro.
 - c. Si ya eligieron tres televisores sin reemplazo (uno a color y 2 en blanco y negro), ¿cuál es la probabilidad de que se elija un televisor a color en el cuarto intento?

Entendemos por...

Incertidumbre el acto o evento carente de la cualidad de ser cierto o seguro.

Diversión matemática

Ayer por la tarde Juan fue a un concierto.
 Guillermo pasó algún tiempo con Ana.
 Jaime no vio a Carmen.
 María estuvo en el cine.
 Carmen estuvo en el teatro.
 Un chico y una chica fueron juntos a un espectáculo.
 Estaban también Marcos e Isabel.
 ¿Quién estuvo con quién y dónde?



Día a día

Y fumar, ¿produce cáncer?

Hacia 1920, se observó un gran incremento de los fallecimientos debidos al cáncer pulmonar. Aunque había trabajos previos sobre la posible relación entre el hábito de fumar y el cáncer de pulmón, como los de Lombard y Doering (1928) y Müller (1939), no será sino hasta la década de los cincuenta –con los trabajos de Wynder y Graham (1950) y sobre todo de Doll y Hill (1952 y 1959)– que la cuestión cobrará verdadero interés e incluso propiciará agrios debates en la opinión pública.

Este último trabajo, publicado en el British Medical Journal, es un estudio de casos controles, donde los casos eran los pacientes que habían ingresado en ciertos hospitales con diagnóstico de cáncer de pulmón, mientras que los controles eran pacientes cuyo ingreso se debía a otras causas.

A ambos tipos de pacientes se le interrogaba sobre sus hábitos de fumar tabaco, de inhalar otros gases y otros posibles agentes etiológicos.

Las encuestas fueron efectuadas por personal “ciego”, en el sentido de que desconocía el propósito del trabajo. El resultado fue que los casos y los controles tenían una exposición similar a todos los posibles factores de riesgo, salvo el tabaco, con los siguientes resultados:

	Casos	Controles	Total
Fumador	1,350	1,293	2,646
No fumador	7	61	68
Total	1,357	1,354	2,714

Tomado de: Autoformas insertar imágenes WORD2010.

Si efectuamos los cálculos, el odds ratio es de 9.1, y dado que las tasas de cáncer de pulmón en la población son bajas, puede interpretarse como un riesgo relativo de padecer cáncer de pulmón de los fumadores frente a los no fumadores.

El resultado es estadísticamente significativo, con un nivel de confianza inferior a 0.001.

En 1954, Doll y Hill comenzaron un estudio prospectivo, de cohortes, en el que se efectuaba un seguimiento de médicos británicos y se estudiaba la posible asociación entre las tasas de mortalidad y el hábito de fumar tabaco, que corroboró no sólo los resultados anteriores sino también una mortalidad más rápida debida también a otras causas –fundamentalmente enfermedades coronarias– entre los fumadores.

Otro gran estadístico, Jerome Cornfield, y cinco expertos más del Nacional Cancer Institute, de la American Cancer Society y del Sloan-Kettering Institute, escribieron un artículo en 1959 en el que se revisaban los diferentes trabajos publicados al respecto, así como las objeciones que habían sido planteadas tanto por Fisher como por Berkson y Neyman y el propio Tobacco Institute, demostrando la abrumadora evidencia a favor de la tesis de que el hábito de fumar es una causa importante del aumento en la incidencia de cáncer de pulmón.



Este capítulo fue clave porque

Me hizo consciente de la importancia de la estadística en la actualidad.

Ahora tengo clara la necesidad de organizar e interpretar informaciones.

Aprendí a interpretar gráficas que condensan información.

Conocí los factoriales.

Sé usar conceptos básicos de probabilidad.

Conectémonos con la Zoología



Un investigador llevó a cabo mediciones en 9 bovinos con afección renal para determinar la cantidad de nitrógeno no proteico (NNP) presente en orina y que encontró los resultados mostrados en el siguiente cuadro:

Número de Paciente	Concentración en mg/dl
1	35
2	42
3	30
4	48
5	65
6	52
7	31
8	48
9	27

Con los anteriores datos, obtenemos las medidas de tendencia central:

$$\text{Media: } X = (35 + 42 + \dots + 26)/9 = 42$$

$$\text{Moda: } Mo = 48 \text{ (es el único valor que se repite)}$$

Mediana: ordenamos los datos de menor a mayor:

$$X_{(1)} = 27, X_{(2)} = 30, X_{(3)} = 31, X_{(4)} = 35, X_{(5)} = 42, X_{(6)} = 48, X_{(7)} = 48, X_{(8)} = 52, \text{ y } X_{(9)} = 65$$

Por lo tanto la mediana corresponde al valor $X_{(5)}$, esto es, $Me = 42$

Como puede notarse, las medidas de tendencia central son simples y muy fáciles de obtener. De cualquier modo, en lo sucesivo, nuestro interés se centrará fundamentalmente en la media; de hecho la mayoría de las medidas de dispersión se explican en función de la media.

Tomado de: <http://www.hectorcastillo.org/PDF/Estad%C3%ADstica%20I,%20II%20y%20III-H%20Castillo.pdf>

Repasemos lo visto



Al inicio de la unidad nos preguntábamos ¿Para qué se aplica la estadística?

Después de hacer un recuento histórico y estudiar los temas desde el grado 6º, llegamos al convencimiento de su importancia, no solo en matemáticas, sino en las demás disciplinas o áreas del conocimiento y naturalmente en su aplicación en la vida cotidiana.

No olvidemos la organización de datos en tablas, gráficas y los cálculos de las medidas de tendencia central, posición y dispersión así como el cálculo de combinaciones y probabilidades.

Mundo rural

Ganancia diaria de peso en bovinos

Un investigador de nutrición animal interesado en conocer la ganancia diaria de peso (GDP) alcanzada por los bovinos en finalización en una granja engordadora que utiliza la información de sólo 8 de los 59 animales disponibles, esto es de una muestra de la población de interés, y obtiene los siguientes resultados (en kg): 0.950, 0.840, 0.900, 1.040, 0.780, 0.925, 0.860, 0.945.

La medida estadística que utiliza es la GDP promedio, es decir, la media aritmética, que corresponde a la suma de los valores observados dividida entre el número de ellos.

Para este caso $7.24/8 = 0.905$. El resultado obtenido de esta forma está en gran medida limitado a los datos colectados y sólo nos permite resumir y describir parte de la información obtenida. Es una parte de la estadística descriptiva, pero no involucra inferencia o generalización relativa a la GDP de los animales no evaluados.

Supongamos ahora que otro investigador evaluó del mismo modo a otro grupo de animales de una explotación contigua obteniendo un resultado de 0.870. En tales circunstancias podríamos plantearnos: a) que la diferencia de promedios es de 0.035 kg, lo que corresponde a un dato meramente descriptivo; b) que el promedio de la granja A es de 0.905 mientras que el de la B es de 0.870, lo que corresponde también a estadística descriptiva; c) que el ganadero de la granja A, piensa que sus bovinos tienen un mejor desempeño productivo, lo que se refiere a inferencia estadística.

Cabe señalar que se pueden plantear, según el conocimiento del área de estudio que se trate, múltiples hipótesis relativas a los parámetros de interés. Así por ejemplo, bajo el supuesto de que la diferencia entre 0.870 y 0.905 fuera estadísticamente significativa (esto es, con un porcentaje de confiabilidad elevado, basado en probabilidad, que nos indica el grado de credibilidad que debe asociarse a cada inferencia) se podrían plantear diversas hipótesis en relación a las causas de dicha diferencia, como por ejemplo, diferencias en el nivel de alimentación, en la calidad genética de los animales, entre otros.

Obvio es decir que los planteamientos o inferencias producto del análisis de información numérica sólo dan soporte a las hipótesis planteadas por quien utiliza las técnicas estadísticas, situación que no hace necesariamente válidas las hipótesis o generalizaciones efectuadas.



Tomado de: <http://www.fao.org/docrep/w7452s/w7452s04.htm>

Dato curioso




Sabías que...

6 bebés nacen cada segundo en el mundo.




7 metros de longitud tenía el Estegosauro.



8 ojos tiene una tarántula.



9 veces por minuto late el corazón de una ballena.



10 sonidos por segundo puede diferenciar el oído humano.



¿En qué vamos?



Reflexiono y trabajo con mis compañeros

1. Una persona obtiene un préstamo de \$ 500,000 pero le fijan una tasa de interés mensual constante de 4.5%. ¿Cuánto pagará en total al cabo de tres meses? Usa una tabla como estas:

Mes	Capital	Tasa	Crecimiento	Nuevo capital
Primero	\$500,000	4.5%	\$22,500	\$522,500
Segundo		4.5%		
Tercero		4.5%		

2. En una población de 5,000 habitantes se tomó una muestra al azar de 30% y se encontró que 870 personas son menores de 15 años. ¿Cuántos habitantes de dicha población son menores de 15 años?
3. Calcula: Media, mediana y moda de los siguientes datos: 2, 2, 3, 3, 3, 4, 5, 6, 7, 7, 8, 8, 8, 9, 10, 10.
4. Un jugador de dominó toma cuatro fichas de las 28. ¿Cuál es la probabilidad de que todas sean «dobles» (igual número de puntos en ambos cuadros)?
5. Para un espectáculo, se dan al azar fichas con un logotipo determinado que indicará el orden en que participarán las personas. Calcular la probabilidad de que queden alternadas personas de ambos sexos, si hay 4 hombres y 3 mujeres para el espectáculo.
6. Un señor tiene en su billetera 3 billetes de \$1,000, dos de \$2,000, dos de \$5,000, dos de \$10,000 y uno de \$20,000. Si ya sacó dos billetes de \$1,000, uno de \$5,000 y el de \$20,000, ¿cuál es la probabilidad de escoger billetes de cada denominación de los que aún tiene en la billetera
- La siguiente información se utiliza para solucionar los ejercicios 7, 8 y 9
- En una urna hay 10 boletas, 3 rojas, 4 blancas, 2 negras y 1 azul, ¿cuál es la probabilidad de:
7. Sacar una boleta que sea blanca o azul.
8. Sacar una boleta que sea roja o negra.
9. Sacar una boleta que sea blanca o negra.
10. Una baraja española tiene 40 cartas, de las cuales se llaman figuras a las cartas As, Sota, Caballo y Rey. Además se clasifican en 4 palos: oros, bastos, copas y espadas. Calcula las siguientes probabilidades de sacar:
- Un As
 - Un As o Rey
 - Un Caballo de espadas o Sota de copas.

Le cuento a mi profesor

Con tu profesor, resuelve la siguiente rejilla.

Lee el enunciado y señala con una x la categoría correspondiente, según lo que has aprendido.

Qué sé hacer	Superior	Alto	Básico	Bajo
Determino la tabla de frecuencias de un conjunto de datos agrupados o no agrupados.				
Elaboro el histograma y el polígono de frecuencias para una tabla de frecuencias.				
Calculo las medidas de tendencia central: media, moda y medida para un conjunto de datos.				
Calculo medidas de dispersión.				
Calculo el factorial de un número dado.				
Simplifico expresiones que tienen números factoriales.				
Determino el espacio muestral de un suceso.				
Conozco la regla de Laplace.				
Calculo la probabilidad de unos datos favorables y no favorables.				
Resuelvo problemas de la vida cotidiana que requieran el cálculo de probabilidades.				

Autoevaluación

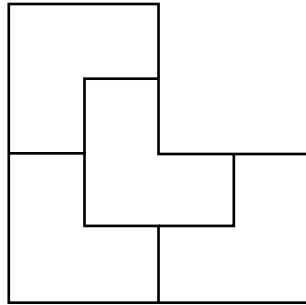
Participo y aprendo	Superior	Alto	Básico	Bajo
Participo de manera activa en clase, formulando o respondiendo preguntas.				
Aplaudo las actitudes creativas que inviten a buscar nuevas soluciones a situaciones problemáticas.				
Participo activamente en los grupos de trabajo.				
Comparto mis saberes y dudas con mis compañeros.				
Fomento la disciplina dentro del grupo.				
Permito la libre discusión.				
Propongo problemas o actividades para resolver en clase.				
Repaso en casa lo suficiente, sobre lo aprendido en el colegio.				

Unidad 1

1. 30 al mayor, 15 al del medio, 10 al menor.
2. El patrón es un aumento de 4 fichas, en la sexta: 25 fichas y en la décima: 41
3. En la primera fila: 9 8 7 6
En la segunda fila: 1 2 3 4 5
4. Fila 1: 5, Fila 2: 19, Fila 3: 27; el patrón: A partir de la tercera posición cada número es la suma de los dos anteriores a él.
5. 14 asignaturas
6. 36 asignaturas
7. 50 m.
8. 25 minutos.
9. 10 h.
10. $x=18$; $4x=72$; $5x=90$

Unidad 2

1.



2. Ángulo recto $=90^\circ$
3. 64°
4. 16,48 m.
5. 5.59 m
6. 4.7 m
7. 6.4 m
8. C)
9. B)
10. C)

Unidad 3

1. D
2. C
3. C
4. C
5. A
6. B
7. B
8. B
9. B
10. C

Unidad 4

1.

Mes	Capital (\$)	Tasa	Crecimiento (\$)	Nuevo Capital (\$)
1°	500,000	4.5%	22,500	522,500
2°	522,500	4.5%	23,510	546,010
3°	546,010	4.5%	24,570	570,580

2. 2,900 aproximadamente, son menores de 15 años

3.

- a) Media=5.9
- b) Mediana=6
- c) Moda=3 y 8

$$4. \left(\frac{7}{28}\right) \cdot \left(\frac{6}{27}\right) \cdot \left(\frac{8}{26}\right) \cdot \left(\frac{4}{25}\right) = \frac{480}{4,91400} = \frac{1}{585}$$

$$5. \frac{4}{78} \cdot \left(\frac{3}{6}\right) \cdot \left(\frac{3}{5}\right) \cdot \left(\frac{2}{4}\right) \cdot \left(\frac{2}{3}\right) \cdot \left(\frac{1}{2}\right) \cdot \left(\frac{1}{1}\right) = \frac{144}{5,040} = \frac{1}{35}$$

$$6. P(\$1,000) = \frac{1}{6} \quad ; \quad P(\$2,000) = \frac{1}{3}$$

$$P(\$5,000) = \frac{1}{6} \quad ; \quad P(\$10,000) = \frac{1}{3}$$

$$7. P(B \acute{o} A) = P(B) + P(A) = \frac{4}{10} + \frac{1}{10} = \frac{1}{2}$$

$$8. P(R \acute{o} N) = P(B) + P(N) = \frac{3}{10} + \frac{2}{10} = \frac{1}{2}$$

$$9. P(B \acute{o} N) = P(B) + P(N) = \frac{4}{10} + \frac{2}{10} = \frac{1}{2}$$

10.

$$a) P(As) = \frac{4}{40} = \frac{1}{10}$$

$$b) P(R \acute{o} N) = P(B) + P(N) = \frac{3}{10} + \frac{2}{10} = \frac{1}{2}$$

$$c) P(Cabdeesposotadecopas) = P(CabE) + P(SdeC) = \frac{1}{40} + \frac{1}{40} = \frac{1}{20}$$

DELTA Matemáticas 9. (2008). Editorial Norma.

Diccionario de Matemáticas (1982). Editorial Norma.

MEN. (2008). Documento 3: Estándares Básicos de Competencias en Lenguaje, Matemáticas, Ciencias y Ciudadanas. Revolución Educativa Colombia Aprende. Colombia.

MEN. (2008). Lineamientos Curriculares Básicos para el área de Matemáticas, Colombia.

Nuevas Matemáticas 9. (2007). Editorial Santillana.

Algebra Intermedia. (2004). Pearson Prentice Hall. Sexta Edición.

Supermat Matemáticas 8. (2008). Editorial Voluntad.

Artigue, M. (1995). El lugar de la didáctica en la formación de profesores, en Ingeniería didáctica en Educación Matemática. Grupo Editorial Iberoamericano.

Artigue, M. (1994). Una introducción a la didáctica de la matemática. En: Enseñanza de la Matemática. Selección bibliográfica. Traducción para el PTFD. MCyE.

DELTA Matemáticas 9. (2008). Editorial Norma.

Diccionario de Matemáticas (1982). Editorial Norma.

Hipertexto 9 matemáticas. (2010). Editorial Santillana.

Direcciones electrónicas

<http://aula2.elmundo.es/aula/laminas/granja.pdf>

http://es.wikipedia.org/wiki/N%C3%BAmero_%C3%A1ureo

<http://www.fao.org/docrep/w7452s/w7452s04.htm>

http://cepindalo.es/mardemates/ficheros/archivos_personales/

<http://www.google.com/imgres?imgurl=http://juegosprogramasfull.files.wordpress.com>

[W10QGS5KHwCA&prev=/images%3Fq%3Dgranja](http://www.google.com/imgres?imgurl=http://juegosprogramasfull.files.wordpress.com/W10QGS5KHwCA&prev=/images%3Fq%3Dgranja)

<http://www.galeon.com/tallerdematematicas/pasatiempos.htm>

<http://www.eveliux.com/mx/el-futuro-de-la-localizacion-mundial-por-satelite.php>

<http://www.muyinteresante.es/icualdo-nacio-la-oveja-dolly>

http://docente.ucol.mx/al028763/public_html/2.htm<http://www.educarchile.cl/Portal.Base/Web/VerContenido.aspx?ID=137527>

<http://lic-ilianayrodriguez.lacoctelera.net/post/2007/05/26/cuerpos-geometricos-cuerpos-poliedros-y-cuerpos-redondos>

<http://divulgamat.ehu.es/weborriak/historia/Topicos/SolidosPlatonicos/SolidosPlatonicos1.asp>

<http://www.google.com/images?hl=es&xhr=t&q=sismologia&cp=4&wrapid=t&ljp130300450938004&um=1&ie=UTF-8&source=og&sa=N&tab=wi&biw=1003&bih=539>

http://docencia.udea.edu.co/ingenieria/calculo/pdf/1_3_3.pdf

<http://rt000z8y.eresmas.net/El%20numero%20de%20oro.htm>

http://www.rmm.cl/index_sub.php?id_contenido=11186&id_seccion=3359&id_portal=509

http://www.rmm.cl/index_sub.php?id_contenido=5090&id_seccion=3359&id_portal=509

<http://www.hectorcastillo.org/PDF/Estad%C3%ADstica%20I,%20II%20y%20III-H%20Castillo.pdf>

<http://www.uv.mx/cienciahombre/revistae/vol18num2/articulos/historia/index.htm>

http://www.google.co.ve/search?hl=es&q=objetivo+de+las+PROBABILIDADES&meta=lr%3Dlang_es

<http://metodosestadisticos.unizar.es/asignaturas/22709/principal.htm>

http://www.google.co.ve/search?hl=es&q=probabilidades&meta=lr%3Dlang_es

<http://buscador.rincondelvago.com/probabilidades+estadisticas>

Unidad 1

<http://www.europepics.org/wallpapers/2012/01/athens-acropolis-athens-greece-the-parthenon-old-construction-1440x1920.jpg>

<http://fronterasblog.files.wordpress.com/2009/02/lluvia5.jpg>

<http://upload.wikimedia.org/wikipedia/commons/4/48/Nautilus-seccionado-2.jpg>

http://www.cajasan.com/educacion/images_cursos/granja_integral.jpg

http://upload.wikimedia.org/wikipedia/commons/c/c7/Ganado_vacuno_en_25.jpg

<http://www.alpujarradelasierra.es/wp-content/uploads/2011/09/dsc00204.jpg>

http://upload.wikimedia.org/wikipedia/commons/c/ce/Reuni%C3%B3n_ministerial_sobre_gripe_porcina.jpg

<http://www.revistalaguarde.com/wp-content/uploads/2012/04/bebe-durmiendo.jpg>

http://files.all-free-download.com/downloadfiles/wallpapers/1600_1200/sunny_tree_branches_wallpaper_plants_nature_wallpaper_1600_1200_1300.jpg

http://upload.wikimedia.org/wikipedia/commons/0/05/Hoja_de_planta_de_Noni.JPG

http://www.subaru.cl/App_Uploads/Eventos/724210_081.jpg.jpg

http://upload.wikimedia.org/wikipedia/commons/8/8f/Ganado_de_General_Ter%C3%A1n.jpg

<http://2.bp.blogspot.com/-VUjnLbDZlz4/Tgo6wkHBR0I/AAAAAAAAAA0/qKyao-YmPNI/s1600/credit.jpg>

http://ipsnoticias.net/fotos/Informe_GEO_ganado_aves.jpg

<http://biocuidados.wordpress.com/2008/07/22/cuida-tu-linea-caminar-el-mejor-ejercicio/>

<http://www.socwall.com/images/wallpapers/19940-4272x2848.jpg>

<http://www.heavyequipmentforums.com/showthread.php?19824-Big-Bud-tractors>

http://www.esacademic.com/pictures/eswiki/79/Opening_chess_position_from_black_side.jpg

<http://www.toptenz.net/wp-content/uploads/2012/05/blaise-pascal.jpg>

Unidad 2

<http://funkoffizier.files.wordpress.com/2007/09/polarfront4.jpg>

http://4.bp.blogspot.com/-kgKJYmnCmHw/T4C_7E1o6HI/AAAAAAAAAYc/hZjFCBkwF1Q/s1600/IMG155.jpg

<http://www.lachicadelflequillo.es/wp-content/uploads/2011/09/Olula-la12.jpg>

<http://www.fondosni.com/images/wallpapers/objetos%20de%20casa-118378.jpg>

http://upload.wikimedia.org/wikipedia/commons/9/9b/R%C3%ADo_Nilo_en_El_Cairo,_Egipto2.jpg

<http://image1.xahoi.com.vn/news/2011/9/15/18/170511afamilyDLsongdai3jpg1316073769.jpg>

<http://img72.imageshack.us/img72/235/dscf0336jp0.jpg>

<http://img183.imageshack.us/img183/9048/dscf0346sj9.jpg>

<http://www.culturaencanarias.com/2/wp-content/uploads/2009/11/foto1.jpg>

Unidad 3

<http://eventosdjjam.com/JAM%201234.JPG>

<http://static.diario.latercera.com/201110/1369191.jpg>

<http://blogdefarmacia.com/las-celulas-madres-seran-el-futuro-para-combatir-el-envejecimiento/>

<http://www.crackberrista.com/wp-content/uploads/2011/02/fabricaBESS.jpeg>

<http://renovatio.disegnonlibre.org/2011/02/15/envolventes-de-arquimedes/>

Unidad 4

http://1.bp.blogspot.com/_eOYjfKxuvKg/TJ-wd6lg16I/AAAAAAAAAFA/r93a8_GnfSo/s1600/feria+de+artesan+ia+pty+julio+2010+sombreros+mini.jpg

<http://www.rutacol.com/wp-content/uploads/2012/02/expocebu.jpg>